

الفصل الاول

١ الجغرافية

١- موقع العراق الجغرافي والفلكي

الموقع الجغرافي : يقع العراق في النصف الشمالي من الكرة الارضية ، اما **موقعه بالنسبة لقارات العالم** فإنه يقع في القسم الجنوبي الغربي من قارة آسيا ، اما **موقعه من العالم العربي** فإنه يقع في القسم الشمالي الشرقي من العالم العربي

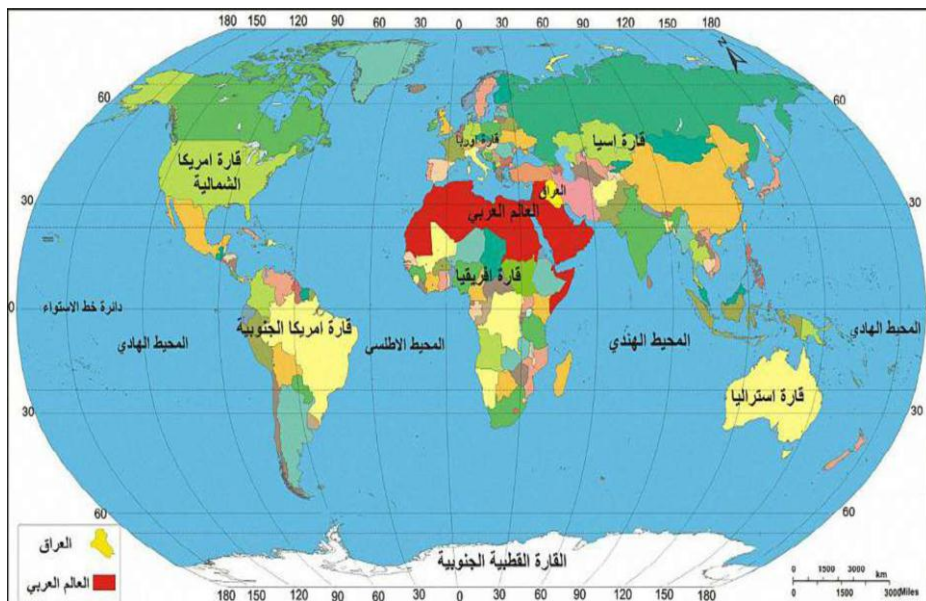
الموقع الفلكي : يتحدد الموقع الفلكي عن طريق دوائر العرض وخطوط الطول فإنه يقع ما بين دائرتي عرض (٢٩ – ٣٧ شمالاً) وخطي طول (٣٨ – ٤٨ شرقاً)

٢- حدود العراق

تحده من **الشمال** تركيا ومن **الشرق** إيران وتفصلها عنها حدود طبيعية تتمثل بجبال **طوروس** وجبال **زاكروس** ومن **الجنوب** الكويت ومن **الغرب** سوريا والاردن والسعودية .

وتبلغ الحدود البرية للعراق حوالي (٣٤٦٢ كم) منها مع ايران (٣٧,٥ %) ومع السعودية (٢٣,٥ %) ومع سوريا (١٧,٤ %) ومع تركيا (١١ %) ومع الكويت (٥,٦ %) ومع الاردن (٥ %) ، أما حدوده البرية التي تتمثل بالخليج العربي فتقدر بنحو (٦٠ كم)

تبلغ الحدود البرية للعراق بنحو ٣٤٦٢ كم ... أما الحدود البحرية المتمثلة بالخليج العربي فتقدر ٦٠ كم



٣- مساحة العراق وشكله

تقدر مساحة العراق بنحو (٤٣٥,٠٥٢ كم^٢) وقد انعكست مساحته الواسعة على تنوع التضاريس والمناخ والنبات الطبيعي أما بالنسبة الى شكله فإنه قريب من **الشكل الدائري** ،وبالنسبة لوقوع العاصمة بغداد في وسط العراق فقد أعطى لهذا الشكل المتلاحم افضليته ومزاياه من الناحية السياسية والاقتصادية .

أهمية موقع العراق :

- ١- يضم الكثير من الثروات الاقتصادية المتنوعة .
- ٢- موقع جغرافي متميز .
- ٣- يشرف على القسم الشرقي من الدول العربية ضمن منطقة الهلال الخصيب .
- ٤- موقعه الاستراتيجي بوقوعه ضمن الجسر الارضي الذي يوصل قارات العالم القديم (اسيا - اوربا - افريقيا)
- ٥- يقع عند اقصر الطرق البرية التي توصل بين المحيط الهندي والبحر المتوسط .
- ٦- اهمية بالنسبة لخطوط الطرق الجوية اذ تجوب سمائه الكثير من خطوط الملاحة الجوية .

أقسام سطح العراق (التضاريس)

التضاريس : هي الأشكال السطحية التي تتكون منها القشرة الارضية من جبال وتلال وهضاب وسهول ووديان .تتنوع تضاريس العراق ، ويختلف السطح في الشمال عن الجنوب وفي الشرق عن الغرب ، وبالرغم من ذلك الاختلاف فأنا نجد مساحات واسعة من العراق تتشابه في ترتيب سطحها الى حد كبير وانها تنحدر بصورة تدريجية من الشمال الى الجنوب **وتنقسم تضاريس العراق الى أربعة أقسام هي :**

١- المنطقة الجبلية

تشغل المنطقة الجبلية القسم الشمالي والشمالي الشرقي من العراق ، وتشغل ٦% من مساحة العراق ، وتمتد على شكل هلال يمتد من الشمال الغربي الى الجنوب الشرقي .

س/ تتكون المنطقة الجبلية من سلسلتين جبليتين ؟ وضح ذلك

أ- منطقة الجبال العالية الارتفاع : تحاذي هذه المنطقة الحدود السياسية بين تركيا من الشمال وايران من الشمال الشرقي وتتميز بكونها جبال التوائية وصخورها من النوع البركانية والمتحولة ، ويتراوح ارتفاعها بين (٢١٠٠ / ٣٦٠٠ متر) فوق مستوى سطح البحر ، ويتدرج ارتفاعها كلما اتجهنا نحو الاقسام الشمالية والشمالية الشرقية ، وتضم المنطقة اعلى قمة جبلية في العراق تتمثل **بجبل هلكرد** ارتفاعه (٣٦٠٠ م) ضمن سلسلة جبال حصاروست قرب الحدود العراقية الايرانية ، وجبل قنديل وجبل سرميدان قرب الحدود العراقية التركية .

هلكرد : وهي اعلى قمة جبلية في العراق ويتراوح ارتفاعها (٣٦٠٠ متر) فوق مستوى سطح البحر ضمن سلسلة جبال حصاروست الممتدة قرب الحدود العراقية الايرانية .
جبل قنديل او جبل سرميدان : وهو احد جبال منطقة الجبال العالية في العراق ضمن سلسلة جبال حصاروست قرب الحدود العراقية التركية .

ب- منطقة الجبال البسيطة الارتفاع : وتقع جنوب منطقة الجبال العالية الارتفاع وتتميز جبالها بكونها قليلة الارتفاع ومن أهم جبالها (بيخير وعقرة داغ وحريير وبرنان) ويتراوح ارتفاع قممها بين (١٤٠٠ / ٢١٠٠ متر) فوق مستوى سطح البحر .

بيخير / عقرة داغ / حريير / برنان : وهو احد جبال شمال العراق ضمن منطقة الجبال البسيطة الارتفاع التي تتراوح قممها بين (١٤٠٠ / ٢١٠٠ م) فوق مستوى سطح البحر .
س / اذكر أهم مميزات المنطقة الجبلية في العراق ؟

١- احد اهم مصادر المياه في العراق لتراكم الثلوج على قممها ووفرة الامطار فيها وتتواجد فيها اهم الروافد المغذي لنهر دجلة .

٢- تضم مساحات واسعة من السهول هما (سهل السندي وسهل شهرزور وسهل رانية) التي تعد اهم مناطق الزراعة والاستيطان في المنطقة الجبلية .

٣- تضم المنطقة الجبلية عدد من الهضاب اهمها (جوارثة وبنجوين وبشدر) وهي من اهم مناطق الرعي والزراعة .

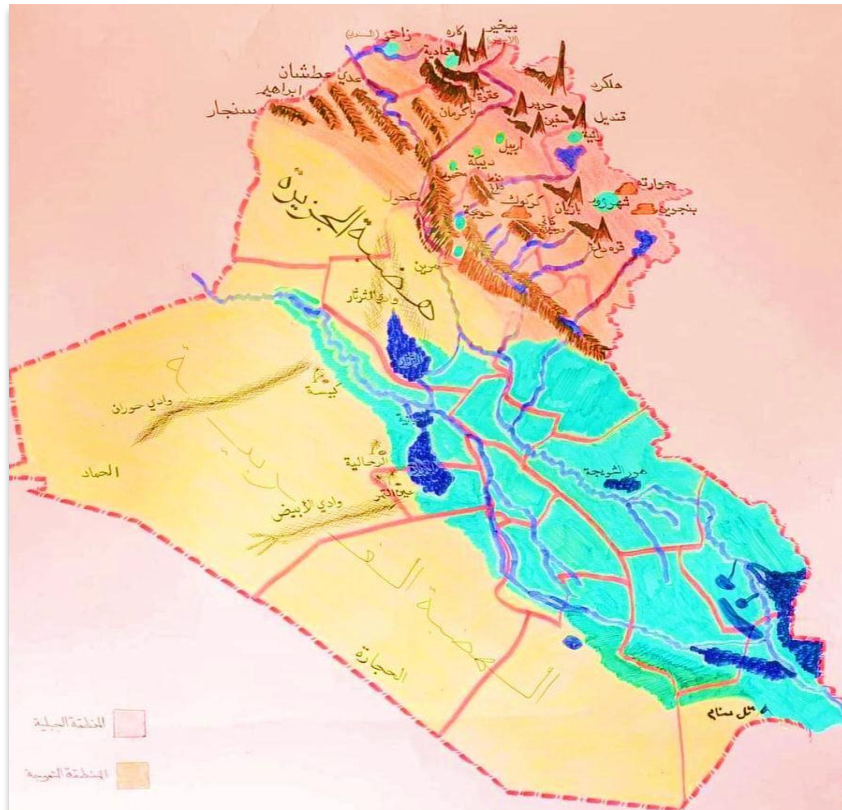
علل // تعد المنطقة الجبلية احد اهم مصادر المياه في العراق .

الجواب // لتراكم الثلوج على قممها ووفرة الامطار فيها وتتواجد فيها اهم الروافد المغذي لنهر دجلة .

سهل السندي : وهو احد السهول في المنطقة الجبلية التي تقع عليه مدينة زاخو في محافظة دهوك ويعد من اهم مناطق الزراعة والاستيطان في المنطقة الجبلية

سهل شهرزور / سهل رانية : وهو من اهم سهول المنطقة الجبلية ويقع في محافظة السليمانية ويعد من اهم مناطق الزراعة والاستيطان في المنطقة الجبلية .

بنجوين / بشدر / جوارثة : وهي احد الهضاب التي تقع في المنطقة الجبلية وتتميز بكونها من اهم مناطق الرعي والزراعة في شمال العراق .



٢- المنطقة شبه الجبلية (المتموجة)

وتقع الى الجنوب من المنطقة الجبلية ،وهي منطقة انتقالية بين السهول الواطئة في الجنوب وبين الجبال العالية في اقصى الشمال والشمال الشرقي من العراق ، وهي تشغل (١٥ %) من مساحة العراق الكلية ، **ويغلب على سطحها** التنوع في التضاريس كالتلال والسهول والجبال وتمتد على شكل هلال من الشمال الغربي الى الجنوب الشرقي وتقسم المنطقة شبه الجبلية (المتموجة) الى ثلاث اقسام هي :

أ – منطقة التلال : تشكل الحدود الجنوبية للمنطقة شبه الجبلية وتتألف من تلال لا يتجاوز ارتفاعها (١٠٠٠ متر) فوق مستوى سطح البحر ومنها (تلال حميرين ، مكحول ، مقلوب ، أوانه داغ ، كيلابات ، نفط داغ ، كاني دوملان)
حميرين / مكحول / مقلوب / أوانه داغ / كيلابات / نفط داغ / كاني دوملان : احد تلال المنطقة شبه الجبلية في العراق والتي لا يتجاوز ارتفاعها (١٠٠٠ متر) فوق مستوى سطح البحر

ب – منطقة الهضاب : وهي اقل ارتفاعاً من منطقة التلال وقد قطعتها المياه الجارية وحفرت فيها وديان عميقة وتتكون هذه الهضاب من قسمين يفصل بينهما سهل اربيل (هضبة كركوك في الشرق) و(هضبة الموصل في الغرب)
هضبة كركوك : وهي احد اقسام هضاب المنطقة شبه الجبلية التي تقع في شرق سهل اربيل
هضبة الموصل : وهي احد اقسام هضاب المنطقة شبه الجبلية والتي تقع في الغرب من سهل اربيل .

ج – السهول : تنحصر سهول المنطقة شبه الجبلية بين التلال ومنطقة الهضاب وهي تكونت نتيجة لترسبات التي حملتها مياه الانهار ومن اهم سهولها **سهل الحويجة** في كركوك و**سهل ديبكة و اربيل** في محافظة اربيل
سهل الحويجة : وهو احد سهول المنطقة شبه الجبلية في محافظة كركوك وقد تكون نتيجة ترسبات الانهار التي حملتها الانهار .
سهل ديبكة / سهل اربيل : وهو احد سهول المنطقة شبه الجبلية في محافظة اربيل وقد تكون نتيجة ترسبات الانهار التي حملتها الانهار .



٣- السهل الرسوبي

تبلغ مساحة السهل الرسوبي بضمنها الاهوار والبحيرات وتشغل نسبة تقدر ٢٤% من مساحة العراق الكلية ، ويمتد على شكل مستطيل طوله ٦٠٠ كم وعرضه ٢٠٥ كم باتجاه شمالي غربي وجنوبي شرقي .

س / كيف تكون السهل الرسوبي ؟

تكون السهل الرسوبي نتيجة الترسيبات التي نقلتها مياه نهري **دجلة والفرات** فضلا عن الانهار المنحدرة من المرتفعات الشرقية (الكارون والكرخة) ، وقد ملأت تلك الترسيبات الالتواء المقعر التي تشغله تلك المنطقة .

س / أذكر أهم مميزات السهل الرسوبي في العراق ؟

- ١- قلة انحدار الارض وانبساط معظم اراضيها اذ لا يتجاوز ارتفاعه بين جنوب المنطقة شبه الجبلية حتى الخليج العربي (١٠٠ متر فوق مستوى سطح البحر)
 - ٢- وجود الاهوار والمستنقعات في الاقسام الوسطى والجنوبية من السهل الرسوبي
- الاهوار والمستنقعات :** وهي مسطحات مائية تغطي المناطق المنخفضة الواقعة في الاقسام الوسطى والجنوبية من السهل الرسوبي وتقدر مساحتها (٢٠,٠٠٠ كم٢) وتكون على شكل مثلث تمثل مدن العمارة والبصرة وذي قار رؤوسه الثلاثة

علل // تعاني منطقة السهل الرسوبي من صعوبة كبيرة في تصريف المياه .

الجواب // بسبب انبساط الارض وقلة الانحدار

س / أذكر اهمية الاهوار في جنوب العراق ؟

- ١- تعتبر خزانات طبيعية للمياه، فضلاً عن اهميتها لدرء اخطار الفيضانات .
- ٢- يمكن استخدامها للزراعة لاسيما زراعة محاصيل الحبوب .
- ٣- تضم الكثير من الثروات الطبيعية والنباتية كالقصب والبردي وفيها ثروات حيوانية متنوعة كالأسماك والطيور وتربية المواشي .
- ٤- اهميتها السياحية والطبيعية نظراً لجمال طبيعتها .



٤- الهضبة الصحراوية الغربية

تشغل الهضبة الصحراوية القسم الغربي والجنوبي الغربي من العراق وهي اكبر المناطق التضاريسية مساحة اذ تشغل حوالي (٢٧٠,٠٠٠ كم^٢) وبنسبة تقدر ٥٥% من مساحة العراق الكلية . وهي امتداد لبادية الشام وهضبة الجزير العربية **ويتصف سطحها** بصور عامة بكونه متموجاً ، يتراوح ارتفاعه بين (٣٠٠ – ٩٠٠ متر) وتندرج اراضيها الصحراوية بالارتفاع كلما اتجهنا نحو الغرب والشمال الغربي

يتسم سطح الهضبة الصحراوية بسيادة التلال والحصى والكثبان الرملية فضلاً عن كونها تضم العديد من الوديان (وادي حوران / وادي الابيض / وادي الخر) ويتميز سطحها بوجود العديد من المنخفضات (الحبانية / الرزازة / الثرثار)

حوران / وادي الابيض / وادي الخر : وهو احد اهم الاودية التي تتواجد في منطقة الهضبة الصحراوية في العراق .

الحبانية / الرزازة : وهو احد اهم المنخفضات في الهضبة الصحراوية الغربية في العراق ولهوا دور مهم في خزن المياه والوقاية من الفيضانات كما يعد من الاماكن السياحية في العراق .

الثرثار : وهو اهم المنخفضات في منطقة الهضبة الصحراوية الغربية الذي يعد من البحيرات الخزينة لمياه نهر الفرات اذ يبلغ طوله ٣٠٠ كم وعرضه ٤٥ كم

علل // تتميز منطقة الهضبة الصحراوية بتعرضها لعوامل التعرية الشديدة .

الجواب // بسبب قلة الغطاء النباتي وسيادة ظروف الجفاف في المنطقة .



حل الاسئلة

س ١ / عرف ما يأتي :

- هلكرد :** وهي أعلى قمة جبلية في العراق ويترأوح ارتفاعها (٣٦٠٠ متر) فوق مستوى سطح البحر ضمن سلسلة جبال حصاروست الممتدة قرب الحدود العراقية الايرانية .
- جبل قنديل :** وهو احد جبال منطقة الجبال العالية في العراق ضمن سلسلة جبال حصاروست قرب الحدود العراقية التركية .
- سهل شهرزور :** وهو من اهم سهول المنطقة الجبلية ويقع في محافظة السليمانية ويعد من اهم مناطق الزراعة والاستيطان في المنطقة الجبلية .
- حميرين :** احد تلال المنطقة الشبه الجبلية في العراق والتي لا يتجاوز ارتفاعها (١٠٠٠ متر) فوق مستوى سطح البحر .
- ديبكة :** وهو احد سهول المنطقة شبه الجبلية في محافظة اربيل وقد تكون نتيجة ترسبات الانهار التي حملتها الانهار .
- حوران :** وهو احد اهم الاودية التي تتواجد في منطقة الهضبة الصحراوية في العراق .
- مقلوب :** احد تلال المنطقة الشبه الجبلية في العراق والتي لا يتجاوز ارتفاعها (١٠٠٠ متر) فوق مستوى سطح البحر .
- جوارته :** وهي احد الهضاب التي تقع في المنطقة الجبلية وتتميز بكونها من اهم مناطق الرعي والزراعة في شمال العراق
- كاني دوملان :** احد تلال المنطقة الشبه الجبلية في العراق والتي لا يتجاوز ارتفاعها (١٠٠٠ متر) فوق مستوى سطح البحر .

س ٢ / أملأ الفراغات الآتية بالكلمات المناسبة :

- ١- تقدر مساحة العراق بحوالي ٤٣٥.٠٥٢ كيلو متر مربع .
- ٢- يقع العراق في الجزء **الجنوبي الغربي** من قارة اسيا وفي الجزء **الشمالي الشرقي** من العالم العربي .
- ٣- يتمثل الموقع الفلكي للعراق بين خطي طول ٣٨ - ٤٨ ودائرتي عرض ٢٩ - ٣٧
- ٤- تقدر حدود العراق البرية بحوالي ٣٤٦٢ كم في حين تقدر حدوده البحرية بحوالي ٦٠ كم
- ٥- يحد العراق من جهة الشمال **تركيا** في حين يحده من الشر **إيران** اما من جهة الغرب فتحده **سوريا** و **الأردن** و **السعودية**
- ٦- تبلغ نسبة المنطقة المتموجة حوالي ١٥ % من مساحة العراق الكلية
- ٧- تعد قمة جبل **هلكرد** ... في سلسلة جبال حصاروست أعلى القمم الجبلية في وطننا العراق
- ٨- من هضاب المنطقة الجبلية **جوارته** و **بنجوين**
- ٩- من اهم التلال في المنطقة المتموجة **حميرين** و **مكحول**
- ١٠- تتسم الهضبة الصحراوية الغربي بكونها تضم عدد كبير من الوديان منها **حوران** و **الابيض**



س٣ / حدد الموقع الجغرافي والفلكي للعراق :

الموقع الجغرافي : يقع العراق في النصف الشمالي من الكرة الأرضية ، اما موقعه بالنسبة لقارات العالم فإنه يقع في القسم الجنوبي الغربي من قارة آسيا ، اما موقعه من العالم العربي فإنه يقع في القسم الشمالي الشرقي من العالم العربي

الموقع الفلكي : يتحدد الموقع الفلكي عن طريق دوائر العرض وخطوط الطول فإنه يقع ما بين دائرتي عرض (٢٩ – ٣٧ شمالاً) وخطي طول (٣٨ – ٤٨ شرقاً)

س٤ / تعد الاهوار والمستنقعات احد الظواهر الجغرافية المميزة في القسم الجنوبي من السهل الرسوبي ؟ تكلم عنها

توجد الاهوار والمستنقعات في الاقسام الوسطى والجنوبية من السهل الرسوبي وهي مسطحات مائية تغطي المناطق المنخفضة الواقعة في الاقسام الوسطى والجنوبية من السهل الرسوبي وتقدر مساحتها (٢٠,٠٠٠ كم ٢) وتكون على شكل مثلث تمثل مدن العمارة والبصرة وذي قار رؤوسه الثلاثة ، وتتباين مساحة الاهوار المغطاة بالمياه فهي تزداد اواخر الشتاء والربيع وتقلص خلال فصل الصيف ، و للأهوار اهمية كبيرة في جنوب العراق فهي

- ١- تعتبر خزانات طبيعية للمياه، فضلاً عن اهميتها لدرء اخطار الفيضانات .
- ٢- يمكن استخدامها للزراعة لاسيما زراعة محاصيل الحبوب .
- ٣- تضم الكثير من الثروات الطبيعية والنباتية كالقصب والبردي وفيها ثروات حيوانية متنوعة كالأسماك والطيور وتربية المواشي .
- ٤- اهميتها السياحية والطبيعية نظراً لجمال طبيعتها .

س٥ / علل ما يأتي :

١- لموقع العراق اهمية كبيرة .

الجواب // لانه يضم ثروات اقتصادية متنوعة وموقع جغرافي متميز ، فضلاً عن انه يقع ضمن منطقة الهلال الخصيب ، واهمية موقعه الاستراتيجية بوقوعه ضمن الجسر الارضي الذي يربط قارات العالم القديم اسيا و اوربا وافريقيا ، ووقوعه على اقصر الطرق البرية التي توصل بين المحيط الهادي والبحر المتوسط

٢- تعد المنطقة الجبلية احد اهم المصادر المائية .

الجواب // لتراكم الثلوج على قممها ووفرة الامطار فيها وتتواجد فيها اهم الروافد المغذي لنهر دجلة

٣- تعاني منطقة السهل الرسوبي من صعوبة كبيرة في تصريف المياه .

الجواب // بسبب انبساط الارض وقلة الانحدار

٤- تتميز منطقة الهضبة الصحراوية بتعرضها لعوامل التعرية الشديدة .

الجواب // بسبب قلة الغطاء النباتي وسيادة ظروف الجفاف في المنطقة



س٦ / تكلم عن اقسام المنطقة شبه الجبلية :

- أ - منطقة التلال :** تشكل الحدود الجنوبية للمنطقة شبه الجبلية وتتألف من تلال لا يتجاوز ارتفاعها (١٠٠٠ متر) فوق مستوى سطح البحر ومنها (**تلال حمريين ، مكحول ، مقلوب ، أوانه داغ ، كيلابات ، نفط داغ ، كاني دوملان**)
- ب - منطقة الهضاب :** وهي اقل ارتفاعاً من منطقة التلال وقد قطعها المياه الجارية وحفرت فيها وديان عميقة وتتكون هذه الهضاب من قسمين يفصل بينهم سهل اربيل (**هضبة كركوك في الشرق**) و (**هضبة الموصل في الغرب**)
- ج - السهول :** تنحصر سهول المنطقة شبه الجبلية بين التلال ومنطقة الهضاب وهي تكونت نتيجة لترسبات التي حملتها مياه الانهار ومن اهم سهولها **سهل الحويجة في كركوك وسهل ديبكة و اربيل** في محافظة اربيل

س٧ / كيف تكون السهل الرسوبي :

تكون السهل الرسوبي نتيجة الترسيبات التي نقلتها مياه نهري **دجلة والفرات** فضلا عن الانهار المنحدرة من المرتفعات الشرقية (**الكارون والكرخة**) ، وقد ملأت تلك الترسيبات الالتواء المقعر التي تشغله تلك المنطقة .

س٨ / تتكون المنطقة الجبلية من سلسلتين جبليتين وضحاها مع الامثلة :

- أ- منطقة الجبال العالية الارتفاع :** تحاذي هذه المنطقة الحدود السياسية بين تركيا من الشمال وايران من الشمال الشرقي وتتميز بكونها جبال التوائية وصخورها من النوع البركانية والمتحولة ، ويتراوح ارتفاعها بين (٢١٠٠ / ٣٦٠٠ متر) فوق مستوى سطح البحر ، ويتدرج ارتفاعها كلما اتجهنا نحو الاقسام الشمالية والشمالية الشرقية ، وتضم المنطقة اعلى قمة جبلية في العراق تتمثل **بجبل هلكرد** ارتفاعه (٣٦٠٠ م) ضمن سلسلة جبال حصاروست قرب الحدود العراقية الايرانية ، وجبل قنديل وجبل سرميدان قرب الحدود العراقية التركية .
- ب- منطقة الجبال البسيطة الارتفاع :** وتقع جنوب منطقة الجبال العالية الارتفاع وتتميز جبالها بكونها قليلة الارتفاع ومن اهم جبالها (**بيخير وعقرة داغ وحرير وبرنان**) ويتراوح ارتفاع قممها بين (١٤٠٠ / ٢١٠٠ متر) فوق مستوى سطح البحر .

س٩ / صف حدود الدول المحيطة للعراق مع ذكر اطوالها :

تحد العراق من الشمال تركيا ومن الشرق ايران وتفصلها عنها حدود طبيعية تتمثل بجبال **طوروس** وجبال **زاكروس** ومن الجنوب الكويت ومن الغرب سوريا والاردن والسعودية .

وتبلغ اطوال الحدود مع ايران (١٣٠٠ كم) ومع السعودية (٨١٢ كم) ومع سوريا (٦٠٠ كم) ومع تركيا (٣٧٧ كم) ومع الكويت (١٩٥ كم) ومع الاردن (١٧٨ كم) ، أما حدوده البرية التي تتمثل بالخليج العربي فتقدر بنحو (٦٠ كم)

س١٠ / تكلم عن شكل العراق موضحاً مزاياه :

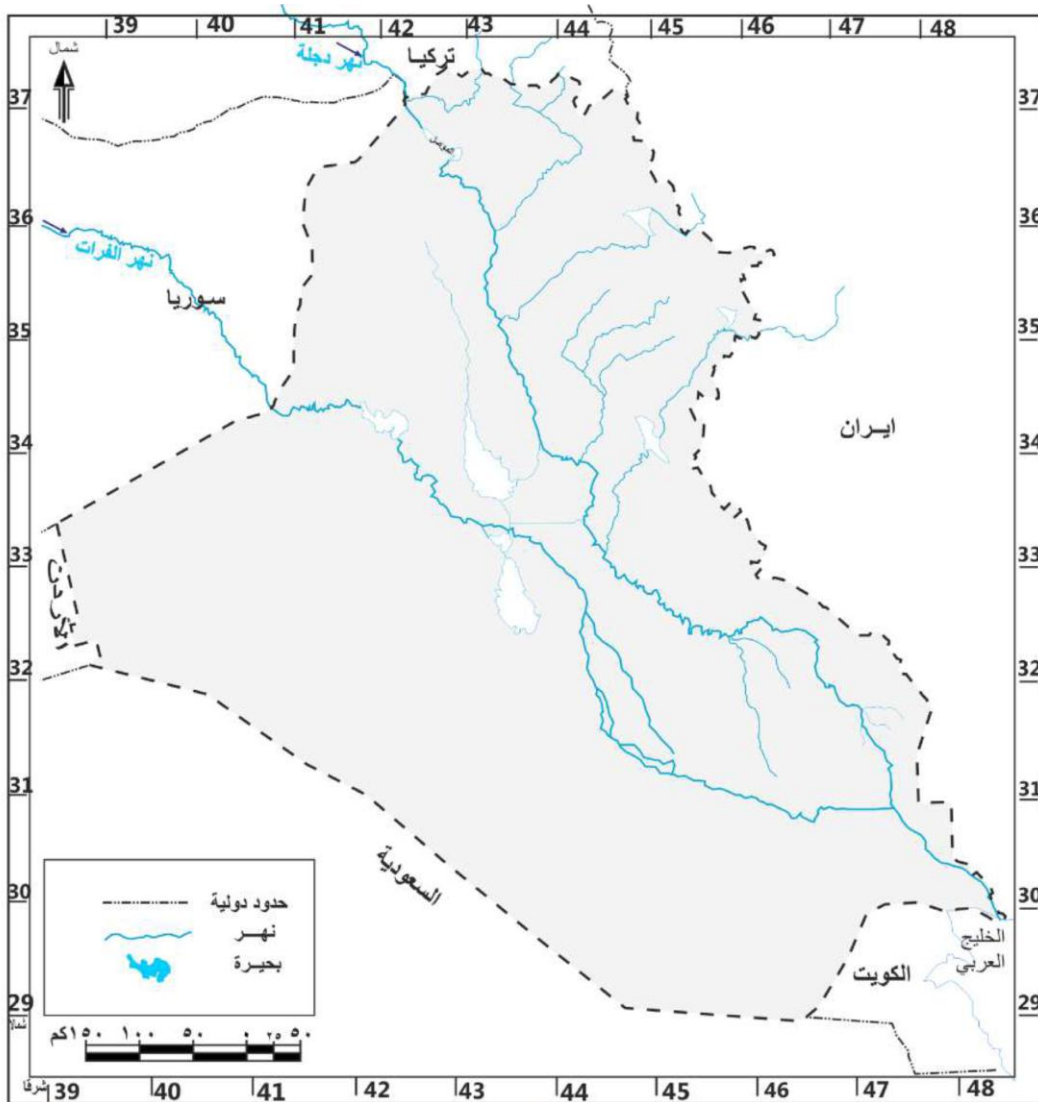
بالنسبة الى شكله فإنه قريب من **الشكل الدائري** ، وبالنسبة لوقوع العاصمة بغداد في وسط العراق فقد أعطى لهذا الشكل المتلاحم افضليته ومزاياه من الناحية السياسية والاقتصادية

س١١ / حدد حدود منطقة الهضبة الصحراوية الغربية :

يحدّها من **الشمال** المنطقة الشبه الجبلية ، ومن **الغرب والجنوب** الحدود السياسية بين العراق وكلا من سوريا والاردن والسعودية والكويت ، اما **الشرق** فتحدّه منطقة السهل الرسوبي

س١٣ / ارسم خريطة وطننا العراق ، وعين عليها المواقع الآتية:

(مقلوب، حمّرين، مكحول، حصاروست، هلكرد برانان، سرميدان ،جوارته ، جبل سنجار، وادي حوران، سهل الحويجة)



المناخ والنبات الطبيعي

س / وضح مفهوم الطقس والمناخ ؟

الطقس : هو حالة الجو من حيث (درجات الحرارة والضغط الجوي والرياح والامطار) ولمكان محدد ولمدة قصيرة (ساعة او يوم او اسبوع)

مثلاً : سيكون الطقس اليوم لمدينة البصرة غائم ممطر

المناخ : هو وصف لحالة الجو من حيث عناصره (درجة الحرارة و الضغط الجوي والرياح والامطار) لمكان محدد ولفترة زمنية طويلة (شهر او سنة او عدة سنوات)

فمثلاً : يتميز مناخ العراق بكونه حار جاف صيفاً بارد ممطر شتاءً

العوامل المؤثرة في المناخ

ويقصد بها العوامل التي تؤثر على عناصر المناخ (درجات الحرارة والضغط الجوي والرياح والامطار) او في واحد من العناصر ، وغالباً ما تحدد هذه العوامل صفة المناخ السائد في اي منطقة لتأثيرها المباشر .

ومن أبرز تلك العوامل المؤثر هي

١- الموقع الفلكي بالنسبة لدوائر العرض

علل // يعد الموقع الفلكي العامل الأكثر تأثيراً على المناخ

الجواب // لانه المسؤول عن تحديد زاوية سقوط أشعة الشمس وطول النهار

وبما ان الموقع الفلكي للعراق يقع بين دائرتي عرض (٢٩ - ٣٧ شمال خط الاستواء) فتكون زاوية سقوط اشعة الشمس في هذه المنطقة بصورة عمودية لاسيما خلال فصل الصيف لذلك اكتسب الموقع صفات المنطقة المدارية فاصبح نهار الصيف طويل (١٤ ساعة) ، وقصيراً في فصل الشتاء (١٠ ساعات)

٢- المسطحات المائية (البحار والمحيطات)

علل // بالرغم من وجود العديد من المسطحات المائية التي تحيط بالعراق الا ان تأثيرها يكون محدوداً

الجواب // بسبب بعدها عن العراق ، ووجود سلاسل جبلية تعترض طريقا

لذلك تحد السلسلة الجبلية في شمال العراق من وصول المنخفضات الجوية باستثناء منخفضات البحر المتوسط والبحر الاحمر والخليج العربي الذي يكون تأثيرها محدوداً غالباً في الشتاء

٣- التضاريس

تأثر التضاريس الارضية على المناخ بشكل مباشر على بعض عناصر المناخ لاسيما درجات الحرارة والامطار وبما ان العراق يتباين في تضاريس سطحه ، **بين المنطقة الشمالية والمنطقة الجنوبية** فقد كان لارتفاع الجبال وامتدادها في **المنطقة الشمالية** دوراً في زيادة كمية الامطار وانخفاض درجات الحرار ، عكس **المنطقة الجنوبية** التي تميزت بقلة امطارها وارتفاع درجات الحرارة .



عناصر المناخ

علل // يختلف تأثير عناصر المناخ (درجات الحرارة والضغط الجوي والأمطار والرياح) بين انحاء العراق
الجواب // بسبب تباين الظروف الطبيعية كالتضاريس والنبات الطبيعي وتأثير المسطحات المائية من فصل الى اخر
وتظهر تأثيرات عناصر المناخ بوضوح خلال فصلي الشتاء والصيف لانهم الفصلان الرئيسان في العراق
اما فصلا الربيع والخريف فهم فصول انتقالي لا تتجاوز مدتهما الشهرين وتتميز باعتدال المناخ

ومن أبرز عناصر المناخ هي

١- درجات الحرارة

علل // تعد درجة الحرارة من أهم عناصر المناخ .
الجواب // بسبب تأثيرها المباشر على عناصر المناخ الاخرى كالضغط الجوي والرياح والأمطار

تتصف درجات الحرارة في العراق بتباينها خلال الليل والنهار وبين فصلي الصيف والشتاء مما حدد صفة المناخ السائدة في العراق وهو المناخ القاري

س / ماهي اهم صفات درجات الحرارة في العراق ؟

- ١- ارتفاع درجات الحرارة في فصل الصيف في المناطق الوسطى والجنوبية ويكون المدى الحراري اليومي كبير ، بسبب الجفاف وقلة سقوط الامطار ، اما المناطق الشمالية تتميز بالاعتدال في درجات الحرارة بسبب ارتفاعها عن مستوى سطح البحر وغزارة أمطارها .
- ٢- انخفاض درجات الحرارة في الشتاء لاسيما في المناطق الشمالية ، حيث تصل احياناً الى دون الصفر المئوية ، وتندرج بالارتفاع كلما اتجهنا جنوباً .

علل // ارتفاع درجات الحرارة في فصل الصيف في المناطق الوسطى والجنوبية وارتفاع المدى الحراري .

الجواب // بسبب الجفاف وقلة سقوط الامطار

علل // تتميز المناطق الشمالي في العراق باعتدال درجات الحرارة خلال فصل الصيف .

الجواب // بسبب ارتفاعها عن مستوى سطح البحر وغزارة أمطارها .

٢- الضغط الجوي والرياح

تهب الرياح عادةً من مناطق **الضغط العالي** الى مناطق **الضغط الواطي** وغالباً ما تحمل معها صفات المناخ للمنطقة التي تهب منها .

س / تتأثر احوال الضغط الجوي والرياح في العراق بنظامين رئيسيين للضغط ؟ وضح ذلك

في فصل الصيف : تتركز منطقة الضغط الواصل في شبه القارة الهندية والخليج العربي ويقابلها ضغط مرتفع فوق هضبة الاناضول لذلك تكون الرياح السائدة **شمالية غربية** تعرف محليا بـ (الشمالية) .

الرياح **الجنوبية شرقية** تهب من الخليج العربي وتسمى محليا بـ (الشرقي) وتكون غير مريحة بسبب رطوبتها العالية وتهب الرياح **الجنوبية غربية** ينجم عنها عواصف ترابية وسط وجنوب العراق كونها قادمة من شبه الجزيرة العربية

في فصل الشتاء : يتأثر العراق بمنطقة الضغط المنخفض فوق الخليج العربي لذلك تهب على الرياح **الشمالية الغربية** لان الغط المنخفض على الخليج العربي يؤثر عليها ويجعلها تهب بهذا الاتجاه

الرياح **الشمالية شرقية** وهي رياح جافة باردة تؤدي لانخفاض درجات الحرارة للمناطق التي تهب عليها

الرياح **الجنوبية شرقية** وتتميز برطوبتها العالية وغالبا ما تؤدي الى سقوط الامطار في المناطق الجنوبية والوسطى من العراق

علل // تكون الرياح الجنوبية شرقية التي تهب على العراق من الخليج العربي خلال فصل الصيف غير مريحة .

الجواب // بسبب رطوبتها العالية

علل // تتسبب الرياح الجنوبية غربية بعواصف ترابية على وسط وجنوب العراق .

الجواب // كونها قادمة من شبه الجزيرة العربية .

٣- الامطار

تعد المنخفضات الجوية القادمة من البحر المتوسط السبب الرئيسي لتساقط الامطار في العراق . الا ان كميتها وصفاتها تتباين من منطقة الى اخرى

س / ماهي صفات الامطار في العراق:

١- تسقط الامطار على العراق خلال فصل الشتاء وتبدأ عادةً (من تشرين الثاني وحتى نيسان) اما في الصيف فينعدم سقوط الامطار .

علل // ينعدم سقوط الامطار على العراق في فصل الصيف .

الجواب // بسبب سيادة الضغط العالي المداري وقلة الرطوبة النسبية .

٢- تباين كمية الامطار في العراق ، فهي تقل عادةً في المناطق الوسطى والجنوبية الغربية وتزداد كلما اتجهنا للمناطق الشمالية الشرقية لاسيما المنطقة الجبلية

علل // امتداد المنطقة الجبلية باتجاه الشمالي غربي الى الجنوب الشرقي ساعد على كثافته الامطار فيها

الجواب // لان الرياح الرطبة تضطر الى الصعود الى الاعلى فتقل درجة حرارتها وتتكاثر رطوبتها فتتزل مطراً

الامطار التضاريسية : وهي نوع من الامطار تحدث في المنطقة الجبلية تنتج من صعود الرياح الرطبة الى الاعلى فتقل درجة حرارتها وتتكاثر رطوبتها فتسقط مطراً .

الأقاليم المناخية في العراق

الأقاليم المناخي: يعرف بأنه منطقة محددة على سطح الأرض لها خصائص طبيعية او بشرية تختلف عن المنطقة المجاورة لها . وغالباً ما تتفق الاقاليم المناخية في توزيعها على تضاريس السطح وعناصر المناخ .

س / وضح الاقاليم المناخية في العراق ؟

١- اقليم مناخ البحر المتوسط

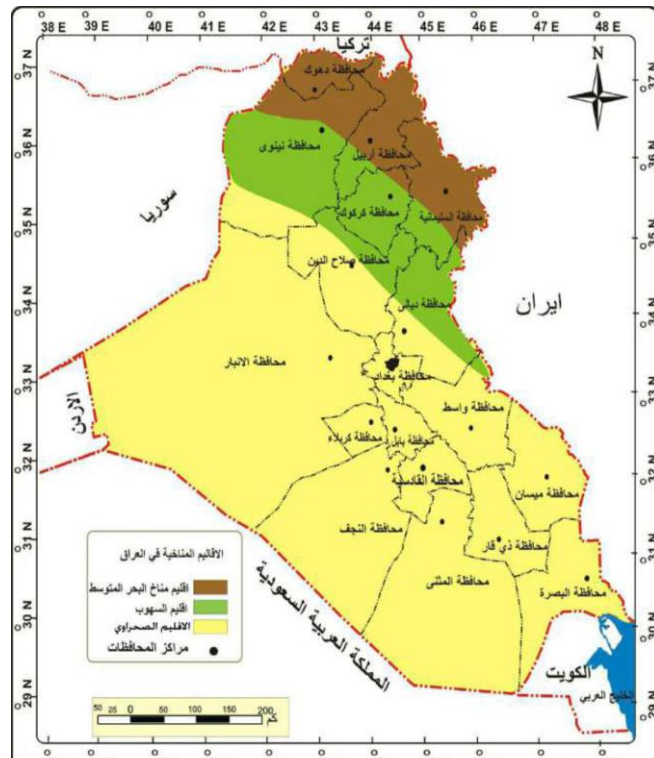
يتمثل بشمال شرق العراق ضمن المنطقة الجبلية ، **يتميز** بكون بارد وتتساقط الثلوج على قمم جباله تنخفض درجة الحرارة فيه الى تحت الصفر المئوية وامطاره غزيرة تتراوح بين (٧٥٠ – ١٠٠٠ ملم) ام **صيفه فيتميز** بكونه جاف معتدل تتراوح درجة الحرارة فيه بين (٣٠ - ٣٥ درجة مئوية)

٢- اقليم مناخ السهوب

يسود هذا المناخ في المنطقة شبه الجبلية (المتموجة) وهو مناخ انتقالي بين مناخ البحر المتوسط والمناخ الصحراوي **يتميز** **بشتاء** اقل برودة من مناخ البحر المتوسط وامطار اكثر من (٣٠٠ ملم) سنوياً ويتميز صيفه يتميز بحار جاف تصل دراجة الحرارة فيه بين (٣٨ – ٤٠) درجة مئوية

٣- اقليم المناخ الصحراوي

يسود ضمن منطقة السهل الرسوبي والمنطقة الصحراوية الغربية ، وهو اوسع الاقاليم المناخية من حيث المساحة **ويتميز** **بكونه** اكثر حرارة وأقل مطراً من الاقاليم الاخرى ، تتراوح درجة الحرارة فيه بين (٤٤ – ٤٨) درجة مئوية وتزداد كلما اتجهنا جنوباً ، اما امطاره فتتراوح بين (٥٠ – ٢٠٠) ملم سنوياً



النبات الطبيعي

النبات الطبيعي : وهو النبات الذي ينمو دون تدخل الانسان في انباته

علل كلاً مما يأتي

١- تباين أنواع النباتات الطبيعية في العراق .

الجواب // بسبب اختلاف الاقاليم المناخية والتضاريس في العراق .

٢- تزداد كثافة النباتات الطبيعية في المنطقة الشمالية

الجواب // نظراً لزيادة كمية الامطار

س / ماهي فوائد النبات الطبيعي ؟

يساهم في تلطيف الجو ، ويمنع انجراف التربة ، اهميته في رعي الحيوانات

١- نطاق الغابات والأعشاب الجبلية

يقع في المناطق الشمالية الشرقية ضمن المنطقة الجبلية ، **تتميز** نباتاته بكونها دائمة الخضرة وتشمل الاشجار والغابات لاسيما غابات البلوط

٢- نطاق السهوب (الأستبس)

يحتل نحو (١٥ % من مساحة العراق) ويقع ضمن المنطقة شبه الجبلية ضمن مناخ السهوب ، ويمثل نباتاته من الحشائش والأعشاب والنباتات البصلية والشوكية وتقسم نباتاته الى قسمين :

أ- نباتات السهوب الجافة كالعاقول

ب - نباتات السهوب الرطبة كالكمون

٣- نطاق ضفاف الانهار

يتمثل بنباتات نهر دجلة وروافده ونهر الفرات وفروعه ، ويتكون من الاشجار والشجيرات والحشائش وهي تنمو على ضفاف الانهر والجزر **وتتميز** بكونها كثيفة دائمة الخضرة اهمها الصفصاف والحلفا وعرق السوس **عرق السوس / الصفصاف / الحلفا :** وهومن النباتات الطبيعية التي تنمو ضمن نطاق نبات ضفاف الانهار



د- نطاق نباتات الاهوار والمستنقعات

يقع في القسم الجنوبي من اهور السهل الرسوبي **ويتميز** نباته بكونه كثيف ومتعدد الانواع اهمها القصب والبردي ، حيث يوجد على شكل غابات صغيرة **ولنباتات الاهوار فوائد كثيرة** منها ، يستخدم كوقود ، ويستخدم لصناعة الحصران والورق ، فضلاً عن استخدامه كعلف للحيوانات .

ه- نطاق النباتات الصحراوية

وهو من اوسع النطاقات من حيث المساحة ، حيث يغطي (٧٠% من مساحة العراق) توجد نباتاته ضمن منطقتي السهل الرسوبي و منطقة الهضبة الصحراوية الغربية وقدد كيفت نباتاته نفسها لتقاوم الجفاف الذي يطول ثمان اشهر تنقسم النباتات الصحراوية الى قسمين

- أ- النباتات الحولية :** وهي نباتات فصلية تنمو خلال الفصل الملائم لنموها مثل الخبز والحلبة والبابونك
- ب- النباتات المعمرة :** وهي نباتات دائمية كيفت نفسها لمقاومة الجفاف والحرارة العالية ومنها الاثل والسدر والشوك



حل الاسئلة

س٨/ عرف ما يأتي :

المناخ : هو وصف لحالة الجو من حيث عناصره (درجة الحرارة و الضغط الجوي والرياح والامطار) لمكان محدد ولفترة زمنية طويلة (شهر او سنة او عدة سنوات)

الاقليم المناخي : يعرف بانه منطقة محددة على سطح الارض لها خصائص طبيعية او بشرية تختلف عن المنطقة المجاورة لها .

الطقس : هو حالة الجو من حيث (درجات الحرارة والضغط الجوي والرياح والامطار) ولمكان محدد ولمدة قصيرة (ساعة او يوم او اسبوع)

الامطار التضاريسية : وهي نوع من الامطار تحدث في المنطقة الجبلية تنتج من صعود الرياح الرطبة الى الاعلى فتقل درجة حرارتها وتتكاثر رطوبتها فتسقط مطراً .

النبات الطبيعي : وهو ال بات الذي ينمو دون تدخل الانسان في انباته

الاثل : وهو احد النباتات الطبيعية المعمرة ضمن النطاق الصحراوي والتي كيفت نفسها لمقاومة الجفاف ودرجات الحرارة العالية

البابونك : وهو احد النباتات الطبيعية الحولية ضمن النطاق الصحراوي والتي تنمو خلال الموسم الملائم لنموها

الكعوب : وهو احد النباتات الطبيعية ضمن نطاق السهوب ويصنف بانه من انواع نبات السهوب الرطبة .

س٢/ أكمل الفراغات التالية بما يناسبها

١- يعد الاقليم **المناخ الصحراوي** أوسع الاقاليم المناخية من حيث المساحة .

٢- يتميز مناخ السهوب بكونه مناخاً انتقالياً بين مناخ .. **البحر المتوسط** .. في الشمال و المناخ **الصحراوي** .. في الجنوب

٣- تغطي النباتات الصحراوية حوالي ٧٠% من مساحة العراق وتقسم على نوعين رئيسيين هما **النباتات الحولية** و **النباتات المعمرة** ..

٤- تعد المنخفضات الجوية القادمة من **البحر المتوسط** السبب الرئيسي لتساقط الامطار في العراق

٥- تعرف النباتات الحولية بأنها **نباتات فصلية تنمو خلال الفصل الملائم لنموها**



س٣/ ضع علامة (صح) امام العبارة الصحيحة وكلمة (خطأ) امام العبارة الخاطئة، وصحح الخطاء ان وجد .

- | | | |
|---|------|---------------------|
| ١- يعد البحر الاحمر أكثر البحار تأثيراً في مناخ العراق . | خطاء | البحر المتوسط |
| ٢- يكثر سقوط الامطار في فصل الصيف . | خطاء | في فصل الشتاء |
| ٣- تحتل نباتات السهوب ٢٥% من مساحة العراق الكلية . | خطاء | ١٥% من مساحة العراق |
| ٤- يقع اقليم مناخ البحر المتوسط ضمن منطقة السهل الرسوبي . | خطاء | المنطقة الجبلية |
| ٥- تساعد الرياح الجنوبية الغربية على تلطيف حرارة الجو . | خطاء | تسبب عواصف ترابية |

س٤/ علل ما يأتي :

- ١- اتساع المدى الحراري اليومي بين حرارة الليل والنهار في العراق
الجواب// بسبب الجفاف وقلة سقوط الامطار
- ٢- تباين انواع النباتات الطبيعية في العراق
الجواب // بسبب اختلاف الاقاليم المناخية والتضاريس في العراق
- ٣- ضعف تأثير المسطحات المائية في العراق كبحر قزوين والبحر الاسود .
الجواب // بسبب بعدها عن العراق ، ووجود سلاسل جبلية تعترض طريقها
- ٤- يعد الموقع الفلكي من اكثر العوامل تأثيراً في مناخ العراق .
الجواب// لانه المسؤول عن تحديد زاوية سقوط أشعة الشمس وطول النهار
- ٥- انعدام سقوط الامطار في فصل الصيف .
الجواب// بسبب سيادة الضغط العالي المداري وقلة الرطوبة النسبية

س٥/ عدد ما يأتي ؟

أ- نطاقات النباتات الطبيعية في العراق .

- ١- نطاق الغابات والاعشاب الجبلية
- ٢- نطاق السهوب (الأستبس)
- ٣- نطاق ضفاف الانهار
- ٤- نطاق نباتات الالهوار والمستنقعات
- ٥- نطاق النباتات الصحراوية

ب- الأقاليم المناخية في العراق .

- ١- اقليم مناخ البحر المتوسط
- ٢- اقليم مناخ السهوب
- ٣- اقليم المناخ الصحراوي

س٦/ بين أهم فوائد كل من ؟

- ١- من فوائد النبات الطبيعي : يساهم في تلطيف الجو ، ويمنع انجراف التربة ، اهميته في رعي الحيوانات
- ٢- من فوائد نباتات الالهوار والمستنقعات : يستخدم كوقود ، ويستخدم لصناعة الحصران والورق ، فضلاً عن استخدامه كعلف للحيوانات .



الموارد المائية

اشتهر العراق بوفرة المياه حتى اقترنت تسميته ببلاد ما بين النهرين او ارض الرافدين ، اشارة الى نهري دجلة والفرات وتقسم الموارد المائية على مصادر ها على ثلاث انواع وهي

١- مياه الامطار والثلوج

٢- المياه السطحية

٣- المياه الجوفية

١- مياه الامطار والثلوج

تعد مياه الانهار المصدر الرئيسي لمياه الانهار فضلاً عن اهميتها في الزراعة ، ويتباين سقوط الامطار منفصل الى اخر وكذلك من منطقة الى اخرى ، فتكون الامطار غزيرة على المنطقة الجبلية وتزيد كميتها على (١٠٠٠ ملم سنوياً) وتقل في المناطق الوسطى والجنوبية وتكون (٢٥٠ ملم سنوياً) وهذه الكمية غير كافية لذلك يعوض النقص الى مياه نهري دجلة والفرات والمياه الجوفية .

٢- المياه السطحية

المياه السطحية : ويقصد بها المياه الجارية على سطح الارض وتشمل مياه نهري دجلة والفرات وشط العرب وفروعهما وروافدهما وكذلك الاودية الموسمية والبحيرات الطبيعية .

وتتباين كمية المياه السطحية من فصل الى اخر فتزداد في فصل الربيع (موسم الفيضان) وتقل في فصل الصيف (موسم الصيهد) وتتفاوت كمياتها من سنة الى اخرى نتيجة اختلاف كمية الامطار والثلوج الساقطة عند منابعها الرئيسية

علل مايتي :

١- تتباين كمية المياه السطحية في العراق .

الجواب // لانها تزداد كمياتها خلال فصل الربيع (موسم الفيضان) وتقل كمياتها خلال فصل الصيف (موسم الصيهد)

٢- تتفاوت كمية المياه السطحية في العراق من فصل الى اخر .

الجواب // نتيجة لاختلاف كمية الامطار والثلوج الساقطة على منابعها الرئيسية



نهر دجلة

ينبع نهر دجلة من المرتفعات الواقعة جنوب شرقي تركيا و يبلغ طوله (١٩٠٠ كم) ويتكون نهر دجلة من عدة منابع في تركيا منها منبع غربي يسمى (**بظمان صو**) ويجري من المرتفعات المحيطة ببحيرة **كولجك** ،

ومنبع شرقي يسمى (**بوتان صو**) يتكون من عدة منابع تنحدر من المرتفعات المحيطة ببحيرة وان ، وبالتقاء (**بظمان صو** و **بوتان صو**) يتكون نهر دجلة ويجري بمناطق وعرة باتجاه جنوب شرقي داخل الاراضي التركية

بظمان صو : وهو احد منابع نهر دجلة من جهة الغرب في الاراضي التركية ويجري من المرتفعات المحيطة ببحيرة كولجك

بوتان صو : وهو احد منابع نهر دجلة ويجري من الشرق داخل الاراضي التركية ويجري من عدة منابع من المرتفعات التي تحيط ببحيرة وان .

يدخل نهر دجلة الاراضي العراقية عند قرية **فيشخابور** ويلتقي نهر دجلة بأول الروافد المغذية له وهو **رافد الخابور** الذي ينبع من الاراضي التركية ايضاً في قرية فيشخابور

فيشخابور: وهي احد قرى محافظة دهوك وأول منطقة عراقية يدخل عندها نهر دجلة ويلتقي نهر دجلة برافد الخابور فيها

الخابور : وهو أول الروافد المغذية لنهر دجلة داخل الاراضي العراقية في قرية فيشخابور وينبع من المرتفعات التركية

ويجري نهر دجلة عميقاً وتحيط به المرتفعات في المنطقة الجبلية وشبه الجبلية حتى يصل الى جنوب مدينة الموصل ليلتقي برافد **الزاب الكبير** (الاعلى) الذي ينبع من الاراضي التركية ايضاً ويعد من اهم روافد نهر دجلة اذ يساهم بحوالي (٣٣ %) من مياه نهر دجلة

الزاب الكبير : وهو من اهم روافد نهر دجلة وينبع من الاراضي التركية ويلتقي بنهر دجلة جنوب محافظة الموصل ويساهم برغد نهر دجلة بحوالي ٣٣ % من مياه النهر .

علل// يعد الزاب الكبير أهم روافد نهر دجلة .

الجواب// كونه يساهم بحوالي ٣٣ % من مياه نهر دجلة .

وعند جنوب مدينة الشرجاط في صلاح الدين يلتقي نهر دجلة برافد **الزاب الصغير** (الاسفل) الذي ينبع من الاراضي الايرانية ويساهم بنحو (١٧ %) من مياه نهر دجلة

ويدخل نهر دجلة الى السهل الرسوبي عند مدينة بلد حيث تنبسط ضفاف النهر وعند مدينة الضلوعية يلتقي **برافد العظيم**

وهو الرافد الوحيد الذي ينبع من داخل الاراضي العراقية

الزاب الصغير : وهو احد روافد نهر دجلة ينبع من المرتفعات الايرانية ويلتقي بنهر دجلة جنوب مدينة الشرجاط والذي يساهم بنحو ١٧ % من مياه نهر دجلة

رافد العظيم : وهو احد روافد نهر دجلة والذي يلتقي به داخل السهل الرسوبي عند مدينة الضلوعية هو الرافد الوحيد الذي ينبع من الاراضي العراقية .

وفي جنوب العاصمة بغداد يلتقي نهر دجلة **برافد ديالى** الذي يتكون من منبعين وهم (**اب سيروان**) الذي ينبع من الاراضي الايرانية و(**تاتجرو**) الذي ينبع من الاراضي العراقية

ويتميز مجرى نهر دجلة في المناطق الواقعة بين شمال بغداد ومحافظة الكوت بكثرة تعرجاته بسبب قلة الانحدار وبطء جريان مياه النهر

علل// يتميز جريان نهر دجلة في المناطق الواقعة بين شمال بغداد الى الكوت بكثرة تعرجاته .

الجواب// لقلة انحدار الارض وبطء جريان مياه نهر دجلة .

وعند مدينة الكوت وتحديداً عند سدة الكوت يتفرع نهر دجلة الى ومن صفته اليمنى الى جدولي **الغراف والدجيلية** والذي يرويان المناطق الزراعية الواقعة بين محافظتي واسط وذي قار وبعد مدينة الكوت يجري النهر في منطقة منبسطة وقليلة الانحدار

بعدها يصل النهر الى مدينة العمارة ويتفرع من صفته اليمنى جدولي **البتيرة والمجر الكبير** ويتفرع من جهته اليسرى جدولي **المشرح والكحلاء** وعند مرور النهر بمدينة العمارة يتسم مجراه بقل مياهه بسبب الجداول الصغيرة التي تتفرع من النهر وتصب في احوار تلك المنطقة

علل// يتسم نهر دجلة عند مدينة العمارة بقلة مياهه .

الجواب// بسبب الجداول الصغيرة التي تتفرع من النهر وتصب في احوار تلك المنطقة

وبالقرب من مدينة العزيز يبدأ نهر دجلة بالاتساع بفعل مياه **نهر السويب** الذي يصب من جهته اليسرى ومن تغذية بعض المياه من الاحوار

علل// يبدأ نهر دجلة بالاتساع عند مدينة العزيز في محافظة ميسان

الجواب // بسبب مياه نهر السويب وبعض من مياه الاحوار في تلك المنطقة

وعند مدينة القرنة يلتقي نهر دجلة بالمجرى الشمالي بنهر الفرات .

نهر السويب : وهو النهر الذي يغذي مياه نهر دجلة عند مدينة العزيز ويصب من جهته اليسرى

س/ تتبع جريان نهر دجلة من مدينة الكوت حتى التقائه بمجرى نهر الفرات ؟

عند مدينة الكوت وتحديداً عند سدة الكوت يتفرع نهر دجلة الى ومن صفته اليمنى الى جدولي **الغراف والدجيلية** والذي يرويان المناطق الزراعية الواقعة بين محافظتي واسط وذي قار وبعد مدينة الكوت يجري النهر في منطقة منبسطة وقليلة الانحدار ، **بعدها يصل النهر الى مدينة العمارة** ويتفرع من صفته اليمنى جدولي **البتيرة والمجر الكبير** ويتفرع من جهته اليسرى جدولي **المشرح والكحلاء** ، وعند مرور النهر بمدينة العمارة يتسم مجراه بقل مياهه بسبب الجداول الصغيرة التي تتفرع من النهر وتصب في احوار تلك المنطقة وبالقرب من مدينة العزيز يبدأ نهر دجلة بالاتساع بفعل مياه **نهر السويب** الذي يصب من جهته اليسرى ومن تغذية بعض المياه من الاحوار ، وعند مدينة القرنة يلتقي نهر دجلة بالمجرى الشمالي بنهر الفرات

نهر الفرات

وهو من الانهار المهمة في غرب اسيا ، ويعد ثاني اكبر نهر في الوطن العربي بعد نهر النيل وله ثقل اقتصادي وسياسي
ينبع نهر الفرات من المرتفعات الشرقية في تركيا ، ويتكون من عدة منابع اهمها (**فرات صو ومراد صو**) الذي يلتقيان عند مدينة **كيبان** ويكونان نهر الفرات

كيبان : وهي مدينة تركية يلتقيان فيها منابع مراد صو وفرات صو ويكونان نهر الفرات ليجري باتجاه جنوب شرقي داخل الاراضي التركية .

فرات صو : وهو احد منابع نهر الفرات داخل الاراضي التركية وبالتقاءه مع منبع مراد صو عند مدينة كيبان يكونان نهر الفرات

مراد صو : وهو احد منابع نهر الفرات داخل الاراضي التركية وبالتقاءه مع منبع فرات صو عند مدينة كيبان يكونان نهر الفرات

يدخل نهر الفرات الاراضي العربية في سوريا قرب مدينة **جرابلس** وتصب فيه عدة روافد منها نهر **الساجور** في محافظة حلب ونهر **البليخ** بالقرب من مدينة الرقة السورية ونهر **الخابور** قرب مدينة دير الزور ويستمر نهر الفرات بجريانه باتجاه جنوب شرقي داخل الاراضي السورية

س/ تتبع جريان نهر الفرات من مدينة حصيبه حتى سدة الهندية ؟

يدخل نهر الفرات الاراضي العراقية عند مدينة حصيبه في قضاء القائم ويجري النهر بعمق داخل اراضي الهضبة الصحراوية الغربية وبين القائم ومدينة الرمادي تكثر الالتواءات والجزر وكذلك النواعير لاسيما في مدينة هيت

ثم يدخل الفرات منطقة السهل الرسوبي ، عند مدينة الرمادي ويقترب مجرى نهر الفرات من نهر دجلة عند مدينة الفلوجة وتصبح المسافة بينهم (٤٠ كم) وتكون تضاريس مجرى الفرات في هذه المنطقة اعلى من مجرى نهر دجلة لذلك تتفرع العديد من الجداول ، لا رواء الاراضي الزراعية ومنها (**الصفلاوية / ابي غريب / اليوسفية / اللطيفية / الاسكندرية والمسيب**)

س/ تتبع جريان نهر الفرات من سدة الهندية حتى مدينة سوق الشيوخ ؟

وعند سدة الهندية يتفرع نهر الفرات الى فرعين هما :

الفرع الاول : شط الحلة الذي يجري باتجاه جنوب شرقي مروراً بمدينة الحلة والهاشمية وبعد مدينة الهاشمية ينقسم الى قسمين

القسم الشرقي : يسمى شط الدغارة .

القسم الغربي : يسمى شط الديوانية

الفرع الثاني : شط الهندية يتجه نحو الجنوب ويمر بمدينة الهندية ثم ينقسم الى قسمين

شط الكوفة من الجانب الغربي و **شط الشامية** من الجانب الشرقي ثم يلتقيان الفرعان **عند مدينة الشنافية** فيتوحد مجرى النهر ، ثم ينقسم الى فرعين هما (**شط العطشان و شط السبيل**) وقبل دخول مدينة السماوة يتوحدان

س/ تتبع جريان نهر الفرات من سوق الشيوخ حتى التقائه بشط العرب في كرمة علي ؟

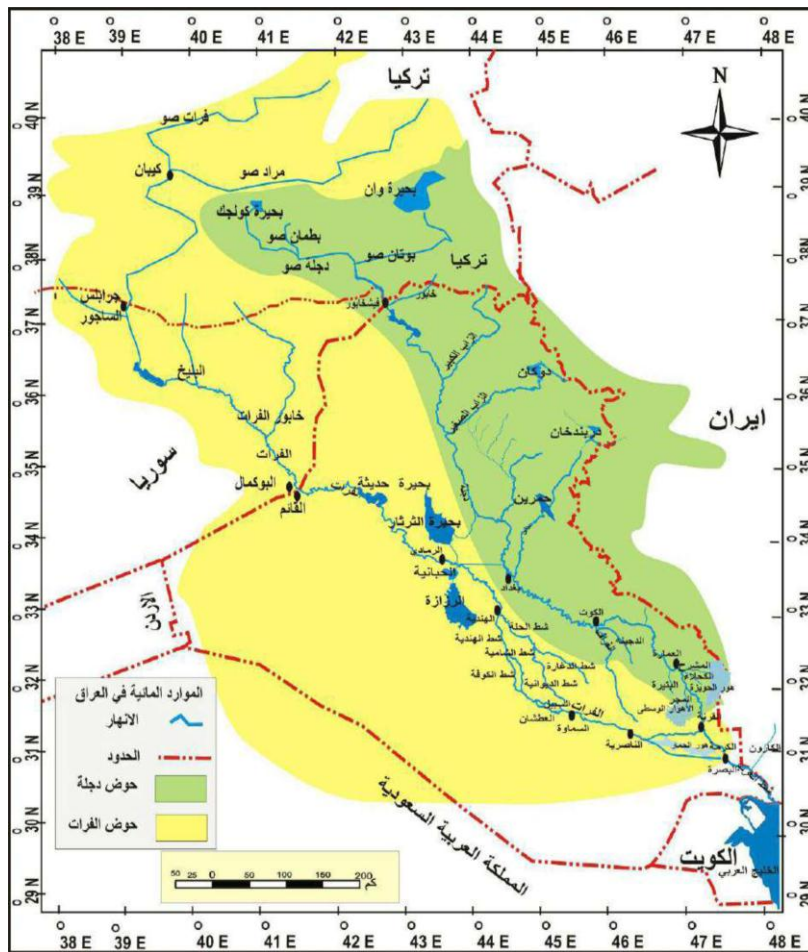
وبالقرب من مدينة سوق الشيوخ يتفرع نهر الفرات الى عدة جداول تسمى (**ذنانب الفرات**) وهي (**بني سعيد** / **الحفار** / **ام نخلة** / **العكيكة** / **كرمة بني حسن**) وتنتهي عند هور الحمار وينقسم نهر الفرات داخل هور الحمار الى مجريين

❖ **المجرى الاول** شمالي ويلتقي بنهر دجلة عند مدينة **القرنة** بعد مروره بقضاء المدينة في محافظة البصرة .

❖ **المجرى الثاني** فهو المجرى الجنوبي الذي يلتقي بشط العرب عند **كرمة علي**

ذنانب الفرات : وهي عدة جداول تتفرع من نهر الفرات قرب مدينة سوق الشيوخ وتنتهي في هور الحمار

يبلغ طول نهر الفرات من بداية تكوينه حتى مصبه في شط العرب **٢٩٤٠ كم**.....



شط العرب

شط العرب : هو النهر الممتد بين مدينة القرنة حتى الخليج العربي الذي يتكون من التقاء نهري دجلة والفرات ويبلغ طوله ١٩٠ كم.

اما عرض شط العرب فيتباين من منطقة الى اخرى فيكون عند مصبه بالخليج العربي اكثر من كيلومترين بينما يكون عرضه في البصرة اقل من كيلو متر

نهر الكارون : وهو نهر يجري بكامله من الاراضي الايرانية ويرسب كميات كبيرة من الطمي في شط العرب ويسبب عرقلة الملاحة.

علل // يسبب نهر الكارون اعاقا الملاحة في شط العرب

الجواب // لانه يرسب كميات كبيرة من الطمي في شط العرب

س/ ما لفائدة من عملية المد والجزر ؟

انشاء عملية المد تترفع المياه الى جانبي شط العرب فتروي الاراضي الزراعية الواقعة على جانبيه

الاهوار والمستنقعات

وتنتشر في الجزء الجنوبي من السهل الرسوبي ، وتشغل الاراضي المنخفضة التي تتجمع فيها المياه بصورة دائمية او مؤقتة وتقدر مساحتها بحوالي (٢٠,٠٠٠ كم^٢) ، وتقسم على نوعين

١- الاهوار الكبيرة

تشغل نحو (٨٧٥٠ كم^٢) موزعة على محافظات البصرة وذي قار وميسان ومنها :

أ- الأهوار الوسطى : وهي من الاهوار الكبيرة وتسمى بأهوار القرنة وتقدر مساحتها (٣٢٣٥ كم^٢) وتتغذى بمياه نهر دجلة عن طريق جدولي البتيرة والمجر الكبير .

ب- هور الحويضة : يوجد في القسم الجنوبي الشرقي من العراق ضمن محافظتي البصر وميسان وتقدر مساحته (٢٤٥٠ كم^٢)

ج- هور الحمار : وهو من الاهوار الكبيرة والذي تمتد أراضيه بين محافظتي البصرة وذي قار .

٢- الأهوار الصغيرة

تضم مجموعة من الاهوار الصغيرة المنتشرة في وسط وجنوب العراق ، ومنها مجموعة من الاهوار بين نهري دجلة والفرات .

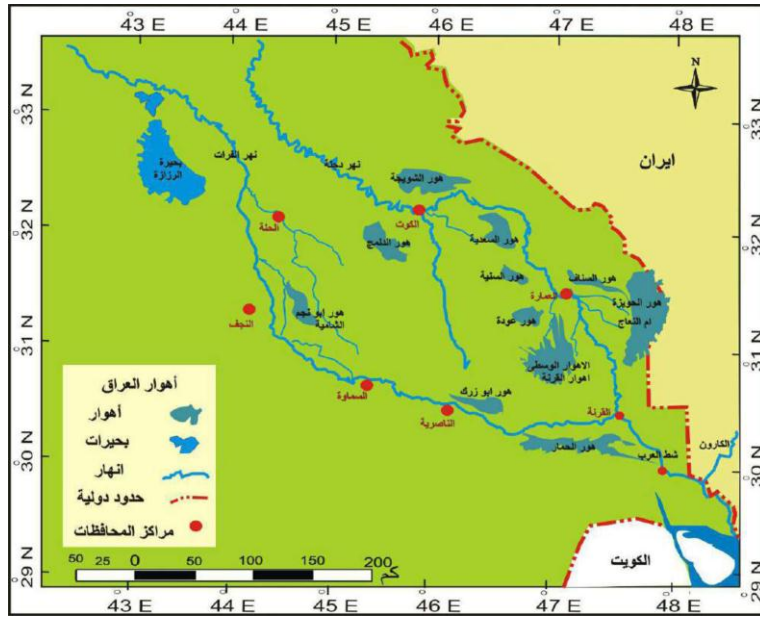
هور الشويجة و هور الدملج : في محافظة واسط • **هور ابن نجم :** في محافظة الديوانية • **هور ابي دبس :** في محافظة كربلاء .

س/ تعرضت الاهوار في فترة الثمانيين والتسعينات من القرن العشرين الى عمليات التجفيف ؟ وضح ذلك

عمل النظام السابق على تجفيف الاهوار في تلك الفترة حتى كادت تختفي من خارطة العراق ، وكان لعمليات التجفيف آثار **اقتصادية وبيئية** ابرزها القضاء على الثروة النباتية والحيوانية ونزوح سكان الأهوار وانتشار ظاهرة التصحر فيها

علل// كان لظاهرة تجفيف الأهوار أثر بيئي واقتصادي .

الجواب// لقضائها على الثروة النباتية و الحيوانية ونزوح سكان الأهوار وانتشار ظاهر التصحر فيها .



مشاريع السيطرة والخزن

وتتمثل بالبحيرات الطبيعية والاصطناعية فضلاً عن السدود والنواظم المقامة على نهري دجلة والفرات ولتلك المشاريع اهمية كبيرة

س/ أذكر اهمية مشاريع السيطرة والخزن ؟

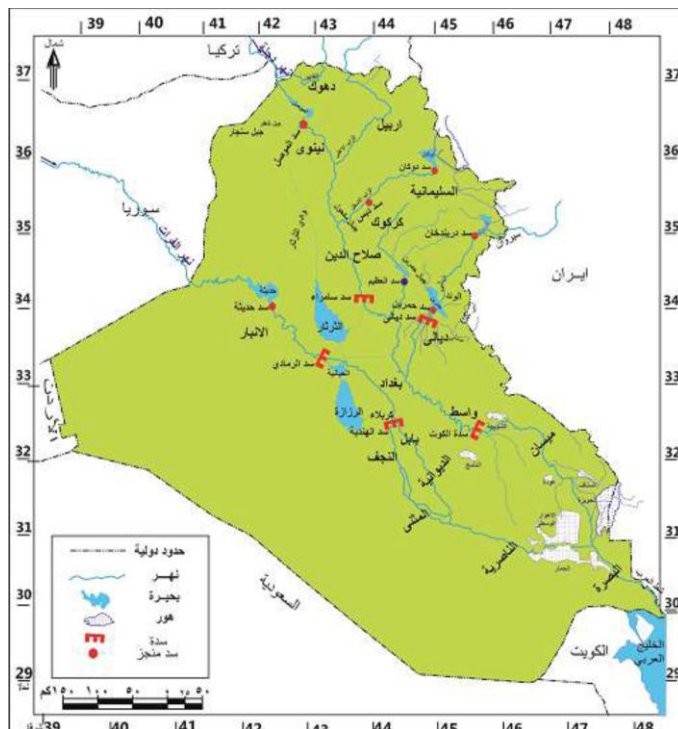
- ١ - توفير مخزون مائي للمحافظة على المساحات الزراعية في فصل الجفاف
- ٢ - تنظيم جريان الماء للوقاية من أخطار الفيضانات
- ٣ - توفير الطاقة الكهربائية
- ٤ - اهميتها السياحية نظراً لجمال طبيعتها



وتقسم مشاريع السيطرة والخزن على :

أولاً : اهم مشاريع السيطرة والخزن على نهر دجلة وروافده

- ١- **سد وخزان الثرثار** : وهو من اكبر مشاريع السيطرة والخزن **على نهر دجلة** ويضم بحيرة واسعة يقدر طولها بنحو (١٢٠ كم) وعرضها (٤٠ كم) ويقع شمال غربي محافظة بغداد وتقدر سعته بحوالي (٨٥ مليار م^٣) ويتم تحويل المياه الى منخفض الثرثار عن طريق سد سامراء
- ٢- **سد وبحيرة الموصل** : تقع على مسافة (٦٠ كم) شمال مدينة الموصل **على نهر دجلة** وبسعة خزن تبلغ (١١ مليار م^٣)
- ٣- **سد وبحيرة دوكان** : تقع **على رافد الزاب الصغير** وتبلغ سعة الخزن فيها (٦,٨ م^٣)
- ٤- **سد وبحيرة دربندخان** : يقع **على رافد ديالى** جنوب مدينة السليمانية وتقدر سعة خزن البحيرة (٣,٢٥ مليار م^٣)
- ٥- **سد وبحيرة حميرين** : تقع بحيرة حميرين شمال شرق محافظة بغداد **على رافد ديالى** وبسعة خزن نحو (٣,٩٥ مليار م^٣)
- ٦- **سد وبحيرة العظيم** : تقع **على رافد العظيم** وبسعة خزن محدودة تبلغ (١,٥ مليار م^٣)
- ٧- **سدة سامراء** : تقع **على نهر دجلة** في محافظة صلاح الدين .
- ٨- **سدة الكوت** : أنشئت **على نهر دجلة** في محافظة واسط .
- ٩- **سدة دبس** : انشئت **على رافد الزاب الصغير** في محافظة كركوك .
- ١٠- **سدة العمارة** : انشئت **على نهر دجلة** في محافظة ميسان
- ١١- **سدة ديالى** : انشئت **على رافد ديالى** ضمن محافظة ديالى



ثانياً : أهم مشاريع السيطرة والحزن على نهر الفرات

- ١- **سد وبحيرة حديثة** : يقع في مقدمة مدينة حديثة بـ (٧ كم) **على نهر الفرات** وتبلغ سعته التخزينية بنحو (٨ مليار م^٣)
 - ٢- **سد وبحيرة الحبانية** : وتقع جنوب الرمادي وتستغل في خزن ، وتقدر السعة التخزينية بنحو (٣,٣ مليار م^٣)
- ويتم التحكم بالمشروع عن طريق سد **الرمادي** وناظم **الورار على نهر الفرات** و يستعمل ناظم الورار لا عادة المياه الى نهر الفرات ، وتتصل ببخيرة الرزازة عن طريق جدول تخلية المجرة .
- ٣- **سدة الرمادي** : تقع هذه السدة **على نهر الفرات** ضمن محافظة الانبار
 - ٤- **سدة الهندية** : تقع **على نهر الفرات** في محافظة بابل
 - ٥- **سدة الكوفة** : تقع **على نهر الفرات** في محافظة النجف الاشرف
- ناظم الورار**: وهو احد الجداول التي تقع على نهر الفرات وعن طريقة يتم التحكم لتغذي بحيرة الحبانية بمياه نهر الفرات
- ناظم الذبان**: وهو الجدول الذي عن طريقه يتم اعادة المياه الى نهر الفرات من بحيرة الحبانية
- تخلية المجرة**: وهو جدول الذي يربط ما بين بحيرة الحبانية وبحيرة الرزازة

المياه الجوفية

المياه الجوفية : وهي المياه التي توجد في باطن الارض وتظهر على السطح اما بصورة طبيعية كالينابيع والعيون او بتدخل الانسان كحفر الآبار .

وتتأثر المياه الجوفية من حيث كمياتها وتوزيعها الجغرافي بعوامل المناخ و التضاريس .

علل كلاً مما يأتي :

١- تتوفر المياه الجوفية في المنطقة الجبلية بغزارة .

الجواب// بسبب غزارة الامطار وتراكم الثلوج على قمم جبالها .

٢- رداءة المياه الجوفية في وسط وجنوب العراق .

الجواب// نظراً لقلة زيادة نسبة الاملاح فيها

٣- للمياه الجوفية أهمية كبيرة في المناطق ذات المناخ الصحراوي .

الجواب// لانها تعوض عن نقص مياه الامطار والمياه السطحية

كبيسة / الرحالية / عين التمر : وهي احد الواحات المنتشرة في منطقة الهضبة الصحراوية والتي تمتاز بوفرة المياه الجوفية الامر الذي جعل السكان يتركزون فيها

حل الاسئلة

س١/ عرف ما يأتي؟

- ١- **شط العرب** : هو النهر الممتد بين مدينة القرنة حتى الخليج العربي الذي يتكون من التقاء نهري دجلة والفرات ويبلغ طولة ١٩٠ كم.
- ٢- **كيبان** : وهي مدينة تركية يلتقيان فيها منابع مراد صو وفرات صو ويكونان نهر الفرات ليجري باتجاه جنوب شرقي داخل الاراضي التركية.
- ٣- **فرات صو** : وهو احد منابع نهر الفرات داخل الاراضي التركية وبالتقاءه مع منبع مراد صو عند مدينة كيبان يكونان نهر الفرات
- ٤- **بوتان صو** : وهو احد منابع نهر دجلة ويجري من الشرق داخل الاراضي التركية ويجري من عدة منابع من المرتفعات التي تحيط ببصرة وان.
- ٥- **المياه السطحية** : ويقصد بها المياه الجارية على سطح الارض وتشمل مياه نهري دجلة والفرات وشط العرب وفروعهما وروافدهما وكذلك الاودية الموسمية والبحيرات الطبيعية.
- ٦- **المياه الجوفية** : وهي المياه التي توجد في باطن الارض وتظهر على السطح اما بصورة طبيعية كالينابيع والعيون او بتدخل الانسان كحفر الآبار
- ٧- **هور الحمار** : وهو من الاهوار الكبيرة والذي تمتد اراضيها بين محافظتي البصرة وذي قار.
- ٨- **الاهوار الوسطى** : وهي من الاهوار الكبيرة وتسمى بأهوار القرنة وتقدر مساحتها (٣٢٣٥ كم٢) وتتغذى بمياه نهر دجلة عن طريق جدولي البتيرة والمجر الكبير.

س٢/ أملاء الفراغات الآتية:

- ١- تضم الموارد المائية عدة مصادر منها المياه السطحية و المياه الجوفية
- ٢- يتكون نهر دجلة من منبع غربي يسمى بطمان صو ومنبع شرقي يسمى بوتان صو
- ٣- يتفرع نهر دجلة ومن صفته اليمنى في مدينة الكوت الى جدولي الغراف و الدجلة
- ٤- الرافد الوحيد من روافد نهر دجلة التي تقع منابعه داخل العراق هو رافد العظيم
- ٥- تتأثر المياه الجوفية من حيث كمياتها ونوعيتها وتوزيعها بعوامل المناخ و التضاريس
- ٦- يتفرع شط الهندية الى فرعين هما شط الكوفة و شط الشامية
- ٧- من المشاريع المقامة على نهر دجلة سد وخزان الثرثار و سد وبحيرة الموصل و سدة سامراء



س٣/ انسب المشاريع التالية الى أنهارها ؟

المشاريع	الانهار
١- بحيرة الحبانية	على نهر الفرات
٢- بحيرة حديثة	على نهر الفرات
٣-سدة الكوت	على نهر دجلة
٤- بحيرة الموصل	على نهر دجلة
٥-سد دوكان	على رافد الزاب الصغير
٦- سد دربندخان	على رافد ديالى
٧- بحيرة العظيم	على رافد العظيم
٨- سد ديالى	على رافد ديالى
٩- سد سامراء	على نهر دجلة
١٠- سدة الرمادي	على نهر الفرات

س٤/ علل ما يأتي :

١- للمياه الجوفية اهمية كبيرة في المناطق ذات المناخ الصحراوي .

الجواب// لانها تعوض عن نقص مياه الامطار والمياه السطحية

٢- يتميز نهر دجلة بكثرة تعرجاته خاصة في جزئه الواقع بين بغداد والكوت .

الجواب// لقلة انحدار الارض وبطء جريان مياه نهر دجلة .

٣- اهمية مياه البحيرات في العراق .

الجواب// لانها تعتبر خزانات للمياه ترفد الانهار بالمياه عند موسم الجفاف للحفاظ على الرقعة الزراعية

٤- يعد الزاب الكبير اهم روافد نهر دجلة .

الجواب// كونه يساهم بحوالي ٣٣% من مياه نهر دجلة .

٥- تباين كمية الامطار في المنطقة الشمالية والوسطى والجنوبية

الجواب// لان المناطق الشمالية تتميز بغزارة الامطار فيها وتقدر بنحو (١٠٠٠ ملم) سنوياً بينما تقل في المناطق الوسطى والجنوبية وتقدر باقل من (٢٥٠ ملم سنوياً)



س٥/ أكتب كلمة (صح) امام العبارة الصحيحة وكلمة (خطأ) امام العبارة الخاطئة، ثم صحح الخطاء ان وجد ؟

- ١- سد وبحيرة دوكان تقع على رافد الزاب الكبير . **خطأ** على رافد الزاب الصغير
- ٢- يلتقي نهر دجلة مع نهر الفرات ليكونا شط العرب عند مدينة الناصرية . **خطأ** عند مدينة القرنة
- ٣- الأهوار الكبيرة في العراق موزعة على محافظتي واسط والمثنى . **خطأ** البصرة وميسان وذي قار
- ٤- تقع سدة سامراء على نهر الفرات . **خطأ** على نهر دجلة
- ٥- يقع سد ديالى على رافد الزاب الصغير . **خطأ** على رافد ديالى

س٦/ عدد مشاريع السيطرة والخزن المقامة على نهر دجلة ؟

- | | | | |
|---------------------|---------------------|--------------------|-----------------------|
| ١- سد وخزان الثرثار | ٢- سد وبحيرة الموصل | ٣- سد وبحيرة دوكان | ٤- سد وبحيرة دربندخان |
| ٥- سد وبحيرة حميرين | ٦- سد وبحيرة العظيم | ٧- سد سامراء | ٨- سدة الكوت |
| ٩- سدة العمارة | ١٠- سدة ديالى | | |

س٧/ عدد مشاريع السيطرة والخزن المقامة على نهر الفرات ؟

- | | | | |
|--------------------|-----------------------|----------------|----------------|
| ١- سد وبحيرة حديثة | ٢- سد وبحيرة الحبانية | ٣- سدة الرمادي | ٤- سدة الهندية |
| ٥- سدة الكوفة | | | |



الفصل الثاني

الخصائص البشرية لجغرافية العراق

السكان

علل // تعد دراسة السكان من أهم الموضوعات التي يهتم علم الجغرافية بدراسة .

الجواب // لأهميتها في معرفة طريقة توزيع السكان ودراسة التغيرات السكانية من حيث نموهم وتركيبهم وتوزيعهم وكثافتهم ومن أهم الخصائص السكانية لوطننا العراق هي

١- نمو السكان

نمو السكان : هو التغير الحاصل في حجم السكان سواء كان بالزيادة او النقصان خلال مدة زمنية محددة ويعتمد علا ثلاث عوامل هي (**الولادات والوفيات والهجرة**)

علل // ارتفاع أعداد النمو السكاني في العراق للمدة من (١٩٥٧ - ٢٠١٩)

الجواب // بسبب ارتفاع الخصوبة وتحسن الاوضاع الصحية والاقتصادية والمعيشية .

٢- توزيع السكان

هناك مجموعة من العوامل تؤثر في توزيع السكان ويمكن ان نصنفها الى :

أ- العوامل الطبيعية : تتمثل بالتضاريس والمناخ والموارد المائية ،

فأثير التضاريس ، في توزيع السكان فأنهم يفضلون المناطق السهلية لسهولة التنقل والتربة الخصبة وامكانية القيام بالنشاطات الزراعية والاقتصادية ، وتعد **منطقة السهل الرسوبي** المتمثلة بوسط وجنوب العراق اكثر المناطق السكانية كثافة اذ تضم حوالي ثلثي سكان العراق اما في **المنطقة الشمالية** ، فيتوزع السكان في سهول المنطقة الجبلية والمنطقة شبه الجبلية (المتموجة) اما سكان **منطقة الهضبة الصحراوية** فيقتصر توزيعهم حول مناطق الواحات والوحدات الادارية

اما تأثير المناخ والموارد المائية ، فنظراً لسيادة المناخ الصحراوي وظروف الجفاف التي تتمثل بقلة الامطار وارتفاع درجات الحرارة فنجد السكان يتركزون بالقرب من المصادر المائية المتمثلة بنهر الفرات وروافده ونهر دجلة وفروعه اما سكان الهضبة الصحراوية فقد اعتمد تركيزهم على المياه الجوفية ومياه الامطار .

س/ علل كلاً مما يأتي :

١- يفضل السكان المناطق السهلية في الاستيطان •

الجواب// لسهولة التنقل و التربة الخصبة وامكانية القيام بالنشاطات الزراعية والاقتصادية الاخرى •

٢- أن غالبية سكان العراق يتركزون بالقرب من المصادر المائية •

الجواب// لسيادة المناخ الصحراوي وظروف الجفاف

ب- العوامل الاقتصادية :

تظهر اهمية العوامل الاقتصادية لانها تحدد نوع استعمالات الارض وتحديد نمط وتوزيع السكان وكثافتهم فسيادة الطابع الزراعي مثلاً ، يجعل للزراعة دوراً كبيراً في جذب السكان والتي تظهر في المناطق الممتدة حول حوض نهري دجلة والفرات اما المنطق الصناعية ، فترتفع فيها كثافة السكان كمدينة بغداد والموصل اما المناطق المنتجة للنفط والثروات المعدنية ، دوراً في جعلها مركز استقرار دائم كما هو الحال في البصرة وميسان وكركوك ونيوى وكذلك المنافذ التجارية وطرق النقل والمواصلات والاقاليم الصناعية ايضاً لها دوراً في توزيع السكان

علل// للعوامل الاقتصادية دوراً مهم في توزيع السكان •

الجواب// لانها تحدد نوع استعمالات الارض سواء كانت للأغراض التجارية او الصناعية او الزراعية او الخدمية

ج- العوامل الادارية والدينية :

كثيراً ما تشجع مراكز المدن الادارية جذباً للسكان لتوفر فرص العمل والنشاطات الاقتصادية و الخدمية والتجارية . ان وجود المراكز الدينية المقدسة ، في النجف الاشرف و كربلاء وسامراء والكاظمية ، ساعد على جذب أعداد كبيرة من السكان اما لغرض الزيارة او الاستقرار فيها مما ادى لزيادة النشاط التجاري وتوسع العمران فيها

علل ما يأتي :

١- تشجع المراكز الادارية على جذب السكان •

الجواب// نظراً لتوفر فرص العمل والنشاط الاقتصادي والتجاري والخدمات

٢- ان وجود المراكز الدينية ساعد على جذب السكان •

الجواب// لغرض الزيارة او الاستقرار فيها مما ادى لزيادة النشاط التجاري والتوسع العمراني

د- العوامل التاريخية :

يتناسب عدد السكان مع قدم الاستيطان البشري تناسباً طردياً فكلما كان الاستيطان في المنطقة قديماً ازداد تركيز السكان في المنطقة • حيث تشير المصادر التاريخية الى ان العراق شهد المراحل الاولى للاستيطان البشري فقد استوطنته حضارات بشرية منذ القدم ، حيث استقرت على ارضه العديد من القرى الزراعية لاسيما على جانبي نهر دجلة والفرات ومثلت النواة الاولى للاستقرار البشري ، كمدينة الموصل والبصرة وبغداد وسامراء •

٣- تركيب السكان

التركيب السكاني : وهو دراسة خصائص السكان من حيث تقسيمهم الى ذكور وإناث او تقسيمهم على فئات عمرية مختلفة او تحديد حجم الاسرة او التعليم وغيرها .

أ- التركيب العمري للسكان

التركيب العمري للسكان: وهو وصف الحالة العمرية لأفراد المجتمع وتقسيمهم الى فئات عمرية مختلفة لكل سنة او خمس سنوات بوضع كل فرد بالمجموعة العمرية التي ينتمي اليها .

علل // يعد التركيب العمري للسكان احد اهم العوامل الديموغرافية

١- لأهميته الكبيرة في وضع التخطيط المستقبلي للسكان كوضع الخطط الخاصة بالتعليم او الصحة او العمل او السكن .

٢- أهميته في وصف حالة المجتمع اذا كان فتياً ام كهلاً .

ب- التركيب النوعي للسكان

التركيب النوعي للسكان : وهو تقسيم السكان الى الذكور وإناث وايجاد النسبة بينهم ، ويتم حساب النسبة بتقسيم عدد الاناث الى كل مئة من الاناث

علل // لدراسة التركيب النوعي للسكان اهمية كبيرة ؟

الجواب // لانه يسهم في التعرف على مظاهر عديدة منها حجم القوة العاملة ونوعها و معدلات الخصوبة والوفيات وتجاه النمو السكاني والمشكلات الناتجة عن زيادة نسبة احد الجنسين

فمثلاً اذا انخفضت نسبة الذكور او الاناث في سن الزواج فسوف تقل معدلات الولادة ، والعكس صحيح وفي الكثير من الحالات غير الطبيعية تقل نسبة عدد الذكور على نسبة الاناث وذلك بسبب تعرض الذكور لمخاطر العمل اكثر من الاناث ، وكذلك الحروب التي لها النصيب الاكثر في انخفاض نسبة الذكور .

علل // في الكثير من الحالات الغير طبيعية تقل نسبة الذكور على نسبة الاناث .

الجواب // بسبب تعرض الذكور لمخاطر العمل اكثر من الاناث ، وكذلك الحروب التي لها النصيب الاكثر في انخفاض نسبة الذكور .

ج- التركيب البيئي للسكان

التوزيع البيئي للسكان : وهو دراسة توزيع السكان بين الحضر والريف ، فالحضر يتمثل بسكان المدن والاقضية والنواحي ويمتهنون مهن مختلفة كالتجارة والصناعة ، والريف يتمثلون بسكان القرى والارياف الذين يمتهنون الزراعة وتربية الحيوانات .

علل // قلة سكان الريف مقارنةً بسكان الحضر

الجواب // بسبب الهجرة من الريف الى المدينة لتوفر الخدمات فيها ولأسباب الاقتصادية والسياسية والاجتماعية .

٤- كثافة السكان

كثافة السكان : وهي احد مقاييس التي توضح من خلالها التباين في توزيع السكان عن طريق قسمة عدد السكان على مساحة الدولة .

علل // ان الكثافة العامة للسكان لا تعكس حقيقة التوزيع الجغرافي للسكان في العراق .

الجواب // لعدم توزيع السكان على جميع أجزاء العراق بشكل متساوي لوجود مساحات شبه خالية من السكان في الهضبة الغربية وبادية الجزيرة .

٥- الحركة المكانية للسكان

علل // تعد الهجرة أهم المشكلات التي تواجه المجتمعات في الوقت الحاضر .

الجواب // لما يترتب عليها من نتائج ديموغرافية تؤثر في تركيب السكان النوعي والعمرى وتوزيعهم وكثافتهم

الحركة المكانية (الهجرة) : وهو الانتقال الجغرافي للسكان من مكان الى اخر بصرف النظر عن اسباب الانتقال ودوافعه والمسافة التي يقطعها .

وتقسم الهجرة الى نوعين:

أ- الهجرة الداخلية : هي الانتقال المكاني داخل حدود الدولة مثل الانتقال المكاني بين محافظات العراق

ب- الهجرة الخارجية : هي الانتقال المكاني خارج حدود الدولة السياسية للدولة كالهجرة الى اوربا او الولايات المتحدة وغيرها من الدول .

أسباب الهجرة

١- الاسباب الاقتصادية : وهي من اهم اسباب الهجرة لارتفاع نسب البطالة وقلة فرص العمل فالفرد دائماً يسعى الى تحسين معيشته لذلك يهاجر الى البلدان التي يجد فيها مبتغاه .

علل // تعد الاسباب الاقتصادية أهم اسباب الهجرة .

الجواب // نظراً لارتفاع نسب البطالة وقلة فرص العمل

٢- الاسباب الاجتماعية والسياسية : تتمثل بالنزاعات والتهجير القسري والنزوح السكاني من منطقة الى اخرى

٣- أسباب خدمية : قلة الخدمات كانت احد اسباب الانتقال المكاني من الريف الى المدينة فقلة الخدمات التعليمية والصحية والترفيهية ، تدفع العديد من سكان للهجرة الى المدينة .

الزراعة

علل// تعد الزراعة احد أهم النشاطات الاقتصادية في العالم .

الجواب// لعلاقتها المباشرة في حياة السكان من خلال توفيرها متطلبات العيش كل مأكّل والملبس .

وقد شكل وطننا العراق النواة الاولى للزراعة وعرف بمسميات عدة منها بلاد ما بين النهرين وبلاد الرافدين **وأرض السواد**

س// ماهي اسباب نجاح الزراعة في العراق ؟

لتوفر الظروف الطبيعية والبشرية الملائمة لها ومنها وجود الاراضي الزراعية والتربة الخصبة والمناخ الملائم فضلاً عن توفر الموارد المائية والايدي العاملة

علل// للزراعة اهمية كبيرة في العراق

- ١- تحقق الأمن الغذائي في العراق
- ٢- توفر مصدر دخل للفلاحين
- ٣- لها أهمية كبيرة لما توفره من أعلاف للثروة الحيوانية
- ٤- توفر مواد أولية للصناعة
- ٥- تسهم في الدخل الوطني بعد النفط .

المحاصيل الزراعية في العراق

وتقسم المحاصيل الزراعية في العراق الى ثلاث اقسام وهي

اولاً : المحاصيل الغذائية

وهي تشكل الغذاء الرئيسي للسكان ويمكن تقسيمها على محاصيل الحبوب والفواكه والخضروات والعلف واهم الانواع هي

١- محاصيل الحبوب :

وهي من أهم المحاصيل الزراعية ، لانها الغذاء الرئيسي للسكان فضلاً عن اهميتها كمادة أولية في كثير من الصناعات

علل// تعد محاصيل الحبوب من اهم المحاصيل الزراعية

الجواب// لانها الغذاء الرئيسي للسكان فضلاً عن اهميتها كمادة أولية في كثير من الصناعات



القمح والشعير

يعد القمح والشعير من أهم أنواع الحبوب لأهميته الغذائية للسكان وهما من المحاصيل الشتوية ، وتختلف اوقات زراعتهما وحصادهم بين المنطقة الشمالية والجنوبية

علل// يعد القمح والشعير من أهم أنواع الحبوب .

الجواب// لأهميته الغذائية للسكان وهما من المحاصيل الشتوية

١- المنطقة المطرية (الديمية):

وتتمثل بالسهول التي تنتشر في المنطقة الشمالية مثل هضبة الجزيرة وجنوب سنجار والسندي وسهل اربيل وهضبة كركوك وسهل شهرزور وبلغ انتاج القمح فيها (٩٧٤ الف طن) اما انتاج الشعير فيها فبلغ (١٢٧٣ طن) حسب تقديرات عام ٢٠١٩

٢- المنطقة الاروانية :

وتتمثل بضفاف نهري دجلة والفرات ومنطقة الفرات الاوسط وقد بلغ الانتاج بنحو (٣٣٩٦ الف طن) وبلغ انتاج الشعير بنحو (٢٤٦ الف طن) حسب التقديرات الاحصائية لسنة ٢٠١٩

علل// يختلف توزيع زراعة القمح في المنطقة المروية والمطرية

الجواب// بسبب اختلاف نوعية التربة وكمية المياه فتجود زراعته في التربة المزيجية الجيدة للصرف ووفرة المياه

الزراعة الديمية : وهي الزراعة التي تعتمد على مياه الامطار بشكل اساسي في سقي المحاصيل الزراعية وتنتشر بالأقسام الشمالية من العراق

وتحتل محافظة **نينوي** المرتبة الاولى في انتاج القمح تليها محافظة **ديالى** ثم محافظة واسط بالمرتبة الثالثة

اما انتاج الشعير فتأتي محافظة **نينوي** بالمرتبة الاولى في كمية الانتاج تليها محافظة **الديوانية**

الرز

وهو من المحاصيل الغذائية الصيفية وتحتاج زراعته الى ظروف طبيعية خاصة ، اذ يتطلب مياه وفيرة والى درجات حرارة مرتفعة وخبرة في زراعته

علل// تقتصر زراعة الرز في العراق في منطقة السهل الرسوبي الاروانية في المحافظات الوسطى والجنوبية

الجواب// لانه يتطلب الى مياه وفيرة ودرجة حرارة عالية وخبرة في زراعته .

وبلغت مساحة الارض المزروعة للرز ب(٢١ الف دونم) وقدرت كمية انتاجه (١٨ الف طن سنوياً) وتصدرت محافظة **النجف** المرتبة الاولى في انتاجه وتلتها محافظة **الديوانية**

وتركزت زراعة الرز في المناطق التالية

- الاراضي المحاذية لمجرى نهر الفرات في الشامية والكوفة
- الاقسام الجنوبية من نهر الغراف
- الاراضي المحاذية لنهر دجلة وفروعه بين مدينة علي الغربي والقرنة

ومن أهم انواع الرز في العراق هي :

- ١- **العنبر** : وهو من اجود انواع الرز وتكثر زراعته في منطقة الفرات الاوسط لاسيما مدينتي الشامية والمشخاب
- ٢- **النعيمة و الحويزاوي** : وهو احد انواع الرز في العراق وتكثر زراعته في محافظتي العمارة والناصرية
- ٣- **النكازه** : وهو احد انواع الرز في العراق وتكثر زراعته في المناطق الشمالية.

الذرة الصفراء

وهي من المحاصيل الصيفية ولها استعمالات متعددة اذ تعد غذاءً للسكان ومادة أولية في صناعة الزيوت النباتية ، فضلاً عن استعمالها علفاً للحيوان . تزرع الذرة بنوعين **البيضاء والصفراء** ، وتنتشر زراعتها في معظم محافظات العراق واحتلت محافظة كركوك المرتبة الاولى في زراعتها تليها محافظة صلاح الدين كما تزرع في العراق محاصيل اخرى اهمها العدس والحمص والماش والبقلاء .

٣- المحاصيل الزيتية

المحاصيل الزيتية : وهي المحاصيل التي تدخل في صناعة لاسيما صناعة الزيوت النباتية فضلاً عن كونها غذاءً للسكان

علل// تتركز زراعة محصولي زهرة الشمس والسهم في المناطق الشمالية من العراق .

الجواب// لتوفر الظروف الملائمة لزراعتها من حيث المناخ الملائم والتربة الخصبة ومصادر المياه والايدي العاملة .

أ- زهرة الشمس : وهي من المحاصيل الصيفية وتحتاج زراعتها الى ظروف طبيعية معينة درجة حرارة مرتفعة و تربة جيدة وتجد زراعتها في التربة المزيجية الخالية من الاملاح .

ب- السهم : وهو محصول صيفي متعدد الاستعمالات حيث يستعمل غذاءً للسكان ، فضلاً عن استخدامه في صناعة الزيوت والصابون وعلف للحيوانات

ج- فستق الحقل : وهو من المحاصيل الزيتية الصيفية ويزرع في المناطق الوسطى من العراق لاسيما محافظة ديالى

وقد رت المساحة المزروعة بهذا المحصول بنحو (٢٥١٨ دونم) وبكمية انتاج بلغت (١٥٠٣ طن) كما تزرع في العراق محاصيل زيتية اخرى مثل ، **الكتان والدخن وفول الصويا** وتتباين كمياتها من محافظة الى اخرى .

٤- الخضروات

للخضروات اهمية كبيرة في حياة السكان لأهميتها الغذائية، لذا تركزت زراعتها قرب المدن وتزرع على نوعين الصيفية والشتوية وقد ساعد التطور وسائل النقل من امكانية نقلها لمسافات بعيدة ، كما ان استخدام نمط الزراعة المحمية (المغطاة) ساعد على زراعة الخضروات في غير اوقات زراعتها المحددة ان انتاج الخضروات لا يكفي لسد الاستهلاك المحلي لذلك تستور كميات كبيرة من خارج العراق لسد النقص الحاصل وتزرع في العراق انواع مختلفة من الخضروات اهمها الطماطة والبامية والبادنجان والباقلاء والسبانغ واللوبيا والقرع وغيرها من الخضروات .

الزراعة المحمية : وهي نمط زراعي ساعد على زراعة المحاصيل الغذائية في غير اوقاتها او مواسمها المحددة

علل// تركزت زراعة الخضروات قرب المدن

الجواب // لأهميتها الغذائية الكبيرة في حياة السكان اليومية

علل// أن انتاج الخضروات في العراق لا يكفي لسد الحاجة المحلية.

الجواب// بسبب النمو السكاني وارتفاع المستوى المعيشي

٥- الفواكه

تشكل الفواكه جزءاً من الغذاء اليومي للسكان فضلاً عن استعمالها كمادة أولية في الصناعات الغذائية ويتركز انتاج الفاكهة في مناطق الوسطى من العراق وعادةً ما تزرع اشجار الفواكه تحت ظل الاشجار الكبيرة لاسيما النخيل ، ويزرع في العراق انواع مختلفة من الفواكه اهمها الحمضيات كالبرتقال والناونج واليوسفي والليمون الحلو والحامض والسندي وغيرها

علل// تتركز زراعة الفواكه في المناطق الوسطى من العراق .

الجواب// بسبب المناخ الملائم وجودة التربة ووجود الموارد المائية .

٦- أشجار النخيل

علل// يعد النخيل احد اهم المحاصيل الزراعية في العراق

الجواب// نظراً لقيمته الغذائية و كونه من المحاصيل النقدية التي تساهم في الدخل القومي .

علل// تنتشر زراعة النخيل في منطقة السهل الرسوبي من العراق

الجواب// بسبب جودة التربة الرسوبية وتوفر مياه الري والمناخ الملائم المشمس والجاف والحرارة المرتفعة



س// عدد اهم المشاكل التي تعاني منها زراعة النخيل في العراق؟

- ١- الظروف المناخية المتمثلة بهبوب الرياح الجافة التي تؤدي الى جفاف الثمار
- ٢- تعرض اشجار النخيل الى الآفات والامراض (حشرة الدوباس) التي تؤدي الى ضعف مقاومتها ثم هلاك النخلة
- ٣- كثرة ترسبات الانهار والجداول المتفرعة يسبب اعاقا وصول المياه الى بساتين النخيل .
- ٤- هجرة المزارعين الى المراكز الحضرية (الهجرة من الريف الى المدينة)
- ٥- وجود المشكلات والعقبات في تسويق المنتج من التمور تؤثر في تصريف الانتاج
- ٦- التوسع في استعمالات الاراض الحضرية على حساب الاراضي الزراعية حيث جرفت الكثير من بساتين النخيل وحلت محلها الاراضي السكنية

علل// لظاهرة المد والجزر تأثير سلبي في زراعة النخيل

الجواب// لأنها تؤدي الى تدني انتاج النخيل بسبب ارتفاع نسبة الاملاح

ثانياً : المحاصيل الصناعية

أ- القطن : وهو من المحاصيل الصيفية الذي تتعد استعمالاته فهو مادة أولية في العديد من الصناعات كصناعة المنسوجات القطنية ، وتستخدم بذوره في صناعة الزيوت النباتية ، و علف للحيوانات

علل// لمحصول القطن استعمالات كثيرة

الجواب// لأنه يستعمل كمادة أولية في العديد من الصناعات لاسيما صناعة المنسوجات القطنية .

ب- التبغ والتبناك : وهما من المحاصيل ويزرع التبغ في محافظة السليمانية اما التبناك فيزرع في المحافظات الوسطى والجنوبية

محاصيل اخرى : كالبنجر وقصب السكر وهما من المحاصيل الزراعية التي لها اهمية اقتصادية كبيرة لأنها مواد أولية في صناعة السكر .

ثالثاً : محاصيل العلف

وتشمل المحاصيل المخصصة كأعلاف للحيوانات وهي متعددة كالجوت والبرسيم والتبن ونظراً للحاجة المتزايدة للأعلاف فتتم الاستفادة من المحاصيل الزراعية الاخرى مثل ، سيقان الذرة وبذورها والسمسم والقصب



الثروة الحيوانية

علل// للثروة الحيوانية أهمية كبيرة في اقتصاد العراق

الجواب// لأنها تشكل مصدراً مهم في الدخل القومي .

وتتربى انواع مختلفة من الحيوانات في العراق اهمها الاغنام والماعز والجاموس والابقار والدواجن والاسماك وفي مناطق مختلفة ، لاسيما المنطقة المتموجة وهضبة الجزيرة .

س/ بين اهمية الثروة الحيوانية في العراق؟

- ١- تعد مادة غذائية للسكان كالحوم الحمراء والبيضاء والحليب والدواجن وبيض المائدة
- ٢- تدخل كمادة اولية في الصناعة مثل الجلود والصوف والشعر
- ٣- مصدر مهم في الدخل القومي ودخل اضافي للمزارعين
- ٤- الاستفادة من مخلفاتها كأسمدة عضوية
- ٥- تستخدم كوسيلة نقل لاسيما في المناطق الصحراوية والمناطق الجبلية الوعرة

علل// تباين انتاج الثروة الحيوانية واعدادها في العراق

الجواب// بسبب تباين الظروف الطبيعية والبشرية الخاصة في العراق

مشاكل القطاع الزراعي والحيواني في العراق وسبل معالجتها

س// أذكر مشاكل القطاع الزراعي والحيواني في العراق وسبل معالجتها ؟

- ١- الاعتماد على الطرق التقليدية في الزراعة ، وقلة استعمال الاساليب التكنولوجية الحديثة
- ٢- قلة التخصيصات الاستثمارية للقطاع الزراعي
- ٣- ضعف القدرة التنافسية للمحاصيل الزراعية في الاسواق المحلية مقابل المحاصيل المستوردة
- ٤- ضعف الامكانيات المالية والفنية والتكنولوجية والمعلوماتية والتسويقية للقطاع الزراعي
- ٥- تأثر قسم كبير من الاراضي الزراعية بمشكلة التملح والتغدق بالمياه الجوفية
- ٦- شحة مصادر المياه نتيجة لسياسات الدول المجاورة وتمثل بإقامة السدود على نهري دجلة والفرات
- ٧- تنمية الانتاج الحيواني في العراق من خلال التوسع في زراعة العلف وتوفير الكوادر الطبية اللازمة ومكافحة الامراض التي تصيب الحيوانات وتشريع القوانين ضد الصيد الجائر للحيوانات

حل الأسئلة

س١/ عرف كلاً مما يأتي؟

التركيب النوعي للسكان : وهو تقسيم السكان الى الذكور وإناث وإيجاد النسبة بينهم ، ويتم حساب النسبة بتقسيم عدد الاناث الى كل مئة من الاناث

التركيب العمري للسكان: وهو وصف الحالة العمرية لأفراد المجتمع وتقسيمهم الى فئات عمرية مختلفة لكل سنة او خمس سنوات بوضع كل فرد بالمجموعة العمرية التي ينتمي اليها .

الحركة المكانية (الهجرة) : وهو الانتقال الجغرافي للسكان من مكان الى اخر بصرف النظر عن اسباب الانتقال ودوافعه والمسافة التي يقطعها .

التوزيع البني للسكان : وهو دراسة توزيع السكان بين الحضر والريف ، فالحضر يتمثل بسكان المدن والاقضية والنواحي ويمتهنون مهن مختلفة كالتجارة والصناعة ، والريف يتمثلون بسكان القرى والارياف الذين يمتهنون الزراعة وتربية الحيوانات .

كثافة السكان : وهي احد مقاييس التي توضح من خلالها التباين في توزيع السكان عن طريق قسمة عدد السكان على مساحة الدولة

نمو السكان : هو التغير الحاصل في حجم السكان سواء كان بالزيادة او النقصان خلال مدة زمنية محددة ويعتمد علا ثلاث عوامل هي (**الولادات والوفيات والهجرة**)

العنبر : وهو من اجود انواع الرز وتكثر زراعته في منطقة الفرات الاوسط لاسيما مدينتي الشامية والمشخاب

المحاصيل الزيتية : وهي المحاصيل التي تدخل في صناعة لاسيما صناعة الزيوت النباتية فضلاً عن كونها غذاء للسكان

الزراعة المحمية : وهي نمط زراعي ساعد على زراعة المحاصيل الغذائية في غير اوقاتها او مواسمها المحددة



س ٢/ علل ما يأتي ؟

١- لدراسة التركيب العمري للسكان أهمية كبيرة .

الجواب // أ- لأهميته في التخطيط المستقبلي للسكان كوضع الخطط الخاصة بالتعليم او الصحة او العمل او السكن . وأهميته في وصف حالة المجتمع اذا كان قتيماً ام كهلاً

٢- تعد الحركة المكانية للسكان أبرز المشكلات التي تواجه المجتمعات في الوقت الحاضر

الجواب // لما يترتب عليها من نتائج ديموغرافية تؤثر في تركيب السكان النوعي والعمرى وتوزيعهم وكثافتهم

٣- تباين مناطق زراعة القمح والشعير في المناطق المروية من العراق .

الجواب // بسبب اختلاف نوعية التربة وكمية المياه فتجود زراعته في التربة المزيجية الجيدة للصرف ووفرة المياه

٤- ان الكثافة العامة للسكان لا تعكس حقيقة التوزيع الجغرافي لكثافة السكان في العراق

الجواب // لعدم توزيع السكان على جميع أجزاء العراق بشكل متساوي لوجود مساحات شبه خالية من السكان كما في الهضبة الغربية وبادية الجزيرة

٥- انخفاض عدد الذكور عن الإناث في المجتمعات التي تشهد حالات غير طبيعية .

الجواب // بسبب تعرض الذكور لمخاطر العمل أكثر من الإناث ، وكذلك الحروب التي لها النصيب الأكثر في انخفاض نسبة الذكور .

٦- إنتاج الخضروات لا تكفي لسد الحاجة المحلية .

الجواب // بسبب النمو السكاني وارتفاع المستوى المعيشي

٧- لمحصول القطن استعمالات متعددة .

الجواب // لانه يستعمل كمادة أولية في العديد من الصناعات لاسيما صناعة المنسوجات القطنية .

٨- لظاهرة المد والجزر تأثير سلبي في زراعة النخيل

الجواب // لانه تؤدي الى تدني انتاج النخيل بسبب ارتفاع نسبة الاملاح

٩- ارتفاع معدلات النمو السكاني في العراق .

الجواب // بسبب ارتفاع الخصوبة وتحسن الاوضاع الصحية والاقتصادية والمعيشية

١٠- لدراسة التركيب النوعي في العراق أهمية كبيرة .

الجواب // لانه يسهم في التعرف على مظاهر عديدة منها حجم القوة العاملة ونوعها و معدلات الخصوبة والوفيات وتجاه النمو السكاني والمشكلات الناتجة عن زيادة نسبة احد الجنسين

س٣/ أملأ الفراغات التالية بكلمات تناسبها

- ١- يزرع محصول زهرة الشمس في العديد من المحافظات من **بغداد و بابل**
- ٢- احتلت محافظة **نينوى** المرتبة الاولى في زراعة الشعير تليها محافظة **القادسية**
- ٣- يعود نجاح الزراعة في العراق الى اسباب عدة منها **وجود مساحات كبيرة من الاراضي الزراعية** ، **التربة الخصبة** ، **المناخ الملائم**
- ٤- تتوزع زراعة القمح والشعير في منطقتي هما **المنطقة المطرية الديمية** و **المنطقة الاروائية**
- ٥- يتحدد نمو السكان بعوامل عدة منها **الولادات** و **الوفيات** و **الهجرة**
- ٦- احتلت محافظة **نينوى** المرتبة الاولى في انتاج القمح تلتها محافظة **ديالى**
- ٧- احتلت محافظة **النجف** المرتبة الأولى في زراعة الرز

س٦/ هناك مجموعة من الاسباب أدت الى تدني انتاج النخيل ومراعتها في العراق ؟ عددها

- ١- الظروف المناخية المتمثلة بهبوب الرياح الجافة التي تؤدي الى جفاف الثمار
- ٢- تعرض اشجار النخيل الى الآفات والامراض (حشرة الدوباس) التي تؤدي الى ضعف مقاومتها ثم هلاك النخلة
- ٣- كثرة ترسبات الانهار والجداول المتفرعة يسبب اعاقا وصول المياه الى بساتين النخيل .
- ٤- هجرة المزارعين الى المراكز الحضرية (الهجرة من الريف الى المدينة)
- ٥- وجود المشكلات والعقبات في تسويق المنتج من التمور تؤثر في تصريف الانتاج
- ٦- التوسع في استعمالات الاراض الحضرية على حساب الاراضي الزراعية حيث جرفت الكثير من بساتين النخيل وحلت محلها الاراضي السكنية

س٧/ يعاني الانتاج الزراعي في العراق مجموعة من المشكلات ؟ عددها

- ١- الاعتماد على الطرق التقليدية في الزراعة ، وقلة استعمال الاساليب التكنولوجية الحديثة كاستخدام المكننة الزراعية ورش المبيدات وعدم وجود اسمدة وبذور محسنة
- ٢- قلة التخصيصات الاستثمارية للقطاع الزراعي
- ٣- ضعف القدرة التنافسية للمحاصيل الزراعية في الاسواق المحلية مقابل المحاصيل المستوردة فتميزت السلع المحلية بارتفاعها اسعارها نتيجة لارتفاع تكاليف انتاجها
- ٤- ضعف الامكانيات المالية والفنية والتكنولوجية والمعلوماتية والتسويقية للقطاع الزراعي
- ٥- تأثر قسم كبير من الاراضي الزراعية بمشكلة التملح والتغرق بالمياه الجوفية لاسيما في المنطقة الجنوبية والوسطى
- ٦- شحة مصادر المياه نتيجة لسياسات الدول المجاورة وتتمثل بإقامة السدود على نهري دجلة والفرات ما أدى الى تناقص الواردات المائية

س٩/ وضح دور العوامل التاريخية والاقتصادية في توزيع السكان ؟

العوامل التاريخية :

يتناسب عدد السكان مع قدم الاستيطان البشري تناسباً طردياً فكلما كان الاستيطان في المنطقة قديماً ازداد تركيز السكان في المنطقة ، وتشير المصادر التاريخية الى ان العراق شهد المراحل الاولى للاستيطان البشري فقد استوطنته حضارات بشرية منذ القدم ، حيث استقرت على ارضه العديد من القرى الزراعية لاسيما على جانبي نهر دجلة والفرات ومثلت النواة الاولى للاستقرار البشري ، كمدينة الموصل والبصرة وبغداد وسامراء

العوامل الاقتصادية :

تظهر اهمية العوامل الاقتصادية لانها تحدد نوع استعمالات الارض وتحديد نمط وتوزيع السكان وكثافتهم **فسيادة الطابع الزراعي** مثلاً ، يجعل للزراعة دوراً كبيراً في جذب السكان والتي تظهر في المناطق الممتدة حول حوض نهري دجلة والفرات اما **المنطق الصناعية** ، فترتفع فيها كثافة السكان كمدينة بغداد والموصل اما **المناطق المنتجة للنفط والثروات المعدنية** ، دوراً في جعلها مركز استقرار دائم كما هو الحال في البصرة وميسان وكركوك ونيوى وكذلك **المنافذ التجارية وطرق النقل والمواصلات** والاقاليم الصناعية ايضاً لها دوراً في توزيع السكان .

س١٠/ ماهي اهمية دراسة التركيب النوعي للسكان ؟

لدراسة التركيب النوعي للسكان اهمية كبيرة لانه **يسهم** في التعرف على مظاهر عديدة منها حجم القوة العاملة ونوعها و معدلات الخصوبة والوفيات وتجاه النمو السكاني والمشكلات الناتجة عن زيادة نسبة احد الجنسين **فمثلاً** اذا انخفضت نسبة الذكور او الاناث في سن الزواج فسوف تقل معدلات الولادة ، والعكس صحيح وفي الكثير من الحالات غير الطبيعية تقل نسبة عدد الذكور على نسبة الاناث وذلك بسبب تعرض الذكور لمخاطر العمل اكثر من الاناث ، وكذلك الحروب التي لها النصيب الاكثر في انخفاض نسبة الذكور

س١١/ وضح دور العوامل الطبيعية في توزيع السكان ؟

فتأثير التضاريس ، في توزيع السكان فأنهم يفضلون المناطق السهلية لسهولة التنقل والتربة الخصبة وامكانية القيام بالنشاطات الزراعية والاقتصادية ، وتعد **منطقة السهل الرسوبي** المتمثلة بوسط وجنوب العراق اكثر المناطق السكانية كثافة اذ تضم حوالي ثلثي سكان العراق اما في **المنطقة الشمالية** ، فيتوزع السكان في سهول المنطقة الجبلية والمنطقة شبه الجبلية (المتموجة) اما سكان **منطقة الهضبة الصحراوية** فيقتصر توزيعهم حول مناطق الواحات والوحدات الادارية **اما تأثير المناخ والموارد المائية** ، فنظراً لسيادة المناخ الصحراوي وظروف الجفاف التي تتمثل بقلة الامطار وارتفاع درجات الحرارة فنجد السكان يتركزون بالقرب من المصادر المائية المتمثلة بنهر الفرات وروافده ونهر دجلة وفروعه اما سكان الهضبة الصحراوية فقد اعتمد تركيزهم على المياه الجوفية ومياه الامطار .

س١٢/ أكتب عن الكثافة العامة للسكان ؟

ان الكثافة العامة للسكان هي احد مقاييس التي توضح من خلالها التباين في توزيع السكان عن طريق قسمة عدد السكان على مساحة الدولة .

ان الكثافة العامة للسكان لا تعكس حقيقة التوزيع الجغرافي للسكان في العراق . لعدم توزيع السكان على جميع أجزاء العراق بشكل متساوي لوجود مساحات شبه خالية من السكان كما هو الحال في الهضبة الغربية وبادية الجزيرة

س١٣/ ماهي اهمية التركيب العمري للسكان ؟ وضح ذلك

يعد التركيب العمري للسكان احد اهم العوامل الديموغرافية

- ١- لأهميته الكبيرة في وضع التخطيط المستقبلي للسكان كوضع الخطط الخاصة بالتعليم او الصحة او العمل او السكن .
- ٢- أهميته في وصف حالة المجتمع اذا كان فتياً ام كهلاً

س١٤/ وضح دور العوامل الادارية والدينية في توزيع السكان ؟

كثيراً ما تشجع مراكز المدن الادارية جذباً للسكان لتوفر فرص العمل والنشاطات الاقتصادية و الخدمية والتجارية .
ان وجود المراكز الدينية المقدسة ، في النجف الاشرف و كربلاء وسامراء والكاظمية ، ساعد على جذب أعداد كبيرة من السكان اما لغرض الزيارة او الاستقرار فيها مما ادى لزيادة النشاط التجاري وتوسع العمران فيها



الثروات المعدنية والصناعة

تؤدي الثروات المعدنية دوراً مهماً وكبير في الاقتصاد العراقي ، وفي مقدمتها النفط والغاز الطبيعي ومن ثم الكبريت والفوسفات والمواد الأولية الاخرى

وتشكل هذه الثروات مواد أولية في العديد من الصناعات اهمها (الحديد والصلب والاسمنت والادوية والسكر والنسيج والسيراميك ومواد البناء والطابوق) وغيرها

كان الاقتصاد العراقي قديماً يعتمد على الانتاج الزراعي والتجاري اما في الوقت الحاضر فهو يعتمد على الثروات المعدنية في تجارته الخارجية فعدت مصدراً اساسياً للدخل القومي نظراً لأهميتها

علل// تعد الثروات المعدنية مصدراً اساسياً للدخل القومي في العراق

الجواب// لانه يعتمد على الثروات المعدنية بشكل رئيسي في تجارته الخارجية

وأهم الثروات المعدنية في العراق هي

أولاً : الصناعات الاستخراجية

الصناعات الاستخراجية : هي عملة استخراج المواد الخام من باطن الارض مثل استخراج النفط والغاز والمعادن الاخرى

١- النفط الخام

يعد النفط الخام من اهم الثروات الطبيعية في العالم ويسمى البعض بـ (**الذهب الاسود**) فلا توجد ثروة طبيعية تنافسه في استعمالاته المتنوعة

س// ماهي استعمالات النفط ؟

تتنوع استعمالات النفط فهو يمد وسائل النقل المختلفة والمصانع ومحطات توليد الطاقة الكهربائية بالطاقة اللازمة ، ويدخل كمادة أولية اساسية في الكثير من الصناعات المهمة .

س// ما هو اصل النفط ؟

يعتقد بانها كانت مساحات واسعة تغطيها مياه البحر ، وكانت تعيش فيها الكائنات الحية ومن ثم غطت بسيول من الطين والرمال وترسبت في قاع البحر ، وهكذا نشأت طبقات بعضها فوق البعض ونتيجة الضغط الشديد والحرارة وتفاعل البكتريا مع الكائنات الحية تحولت الى سائل اسود سمية (النفط)

وقد تكونت مكامن النفط نتيجة حركات القشرة الارضية اطلق عليها (حقول النفط)



حقول النفط في العراق

تتوزع حقول النفط في العراق الى ثلاث مناطق جغرافية وهي

١- **حقول المنطقة الشمالية** : تضم ثلاث مجموعات وهي

أ- **محافظة نينوى** : وتضم حقول (عين زالة / بطمة / الكيارة)

ب- **محافظة كركوك** : وتضم حقول (بابا كركر / باي حسن / جمبور / خباز)

ج- **اقليم كردستان** : وضم حقول (طقطق / طاوكي خور ماله)

٢- **حقول المنطقة الوسطى** : وتضم حقول (**حقول شرق بغداد في محافظة بغداد**) (**حقول نفط خانة في محافظة ديالى**)

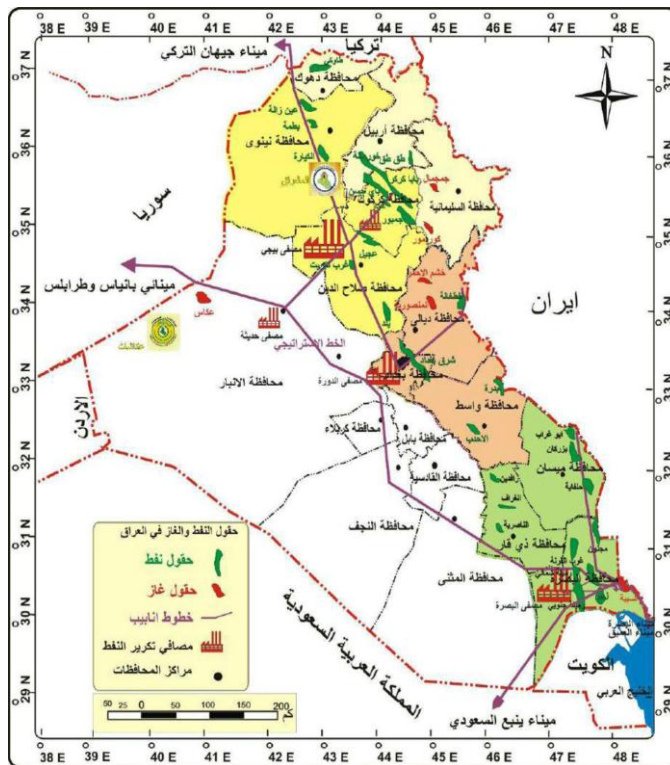
(**حقول الاحدب وحقول بدره في محافظة واسط**)

٣- **الحقول المنطقة الجنوبية** : وتضم ثلاث مجموعات

أ- **محافظة البصرة** : وتضم حقول (المليحة الشمالية والجنوبية / مجنون / غرب القرنة / الزبير)

ب- **محافظة ميسان** : (بزركان / ابو غراب / الفكة / الحلفاية)

ج- **محافظة ذي قار** : (الناصرية / الغراف / الرافدين)



أحتياطي و انتاج النفط العراقي

يبلغ احتياطي العراق المؤكد حوالي (١٤٧ مليار برميل) اي ١٠% من احتياط العالم ، في المرتبة الخامسة عالمياً والثاني عربياً بعد السعودية وبلغ متوسط انتاج النفط الخام بـ (٤ مليون برميل) يومياً

طرق نقل نفط العراق

يتم نقل النفط العراقي بثلاث طرق معتمدة وهي

أ- النقل بالأنابيب :

- ينقل النفط العراقي بواسطة الانابيب الى سواحل البحر المتوسط و البحر الاحمر والى مؤنى العراق على الخليج العربي
- ١- تنقل ثلاث انابيب النفط الى سواحل الخليج العربي من الحقول الجنوبية الى موانئ تصدير النفط (ميناء الفاو والبصرة والعمية وميناء العميق)
 - ٢- ينقل الى ساحل البحر المتوسط عبر الخط التركي الى ميناء جيهان التركي
 - ٣- ينقل الى ساحل البحر الاحمر عبر الخط العراقي السعودي الى ميناء ينبع السعودي وهو متوقف حالياً

ب- النقل بواسطة السفن :

تعد ناقلات النفط البحرية افضل وسائل النقل لإيصال النفط من مناطق الانتاج الى اماكن الاستهلاك ومعظم مناطق الانتاج تقع بعيدة عن مراكز الانتاج

ج- النقل البري للنفط :

يتم عن طريق القاطرات على سكك الحديد داخل العراق الى بعض المصافي او محطات الطاقة الكهربائية ، فضلاً عن النقل بالسيارات الحوضية داخل العراق وخارجه

الخط الاستراتيجي : وهو منظومة لأنابيب النفط العراقي لتصدير النفط الخام والتي تربط الحقول الشمالية بالحقول الجنوبية

مصافي تكرار النفط العراقي

شهدت صناعة تكرار النفط وتصفيته تطوراً كبيراً منها ارتفاع الطاقة الانتاجية وحجم المصافي والتنوع في المشتقات النفطية والتي تدخل في الصناعات

ومن اهم المصافي وطاقتها وامكان توزيعها هي

- ١- **مصفى الدورة :** يقع في بغداد وتقدر نسبة انتاجه (١٦٥ ألف برميل يومياً) ويزود بالنفط من حقول كركوك
- ٢- **مصفى ببجي :** يقع في محافظة صلاح الدين ويبلغ انتاجه (٣١٠ برميل يومياً) ويزود بالنفط من حقول كركوك
- ٣- **مصفى البصرة :** يقع في محافظة البصرة ويبلغ انتاجه (٢١٠ برميل يومياً) ويزود بالنفط من حقول الرميلة
- ٤- **مصافي اخرى :** وهي ذات طاقة انتاجية صغيرة ومنها (مصفى الوند) في ديالى ومصافي في كركوك وحديثة والموصل والناصرية والنجف .

مصفى الوند : وهو من المصافي الصغيرة في العراق ذات طاقة انتاجية قليلة ويقع في محافظة ديالى

٢- الغاز الطبيعي

س// أذكر مميزات الغاز الطبيعي ؟

- ١- يعرف بأنه الوقود الانظف والاقل انبعاثات الملوثة في الجو
 - ٢- مصدر مهم للطاقة الحرارية و الكهربائية والميكانيكية ، في قطاعات النقل والصناعة والكهرباء والاسكان
 - ٣- يخل مادة أولية في الصناعات البتروكيمياوية والمبيدات ومواد الانتاج الزراعي
 - ٤- يمثل الغاز اهم مصادر الطاقة البديلة للنفط
- ويمتلك العراق ثروة هائلة من الغاز الطبيعي المصاحب لإنتاج النفط** وتقع حقول الغاز في شرق وشمال شرق العراق ومنها (حقل كور مور وجمجمال في السليمانية و خشم الاحمر والمنصورية في ديالى وحقل السبية في البصرة وحقل عكاز في الانبار ويبلغ الاحتياطي العراقي من الغاز الطبيعي نحو (٣٧٤٤ مليار متر مكعب) وهو يشغل المرتبة الخامسة عربياً وبنسبة مئوية تبلغ ٦% من الاحتياط العربي وبالمرتبة العاشرة عالمياً بنسب ١,٩% من الاحتياطي العالمي

علل// ان انتاج الغاز الطبيعي لا يتناسب مع ما يمتلكه العراق من احتياطي كبير

الجواب// لانه يحرق هدرأً وهو مصاحب لاستخراج النفط

٣- الكبريت

يتركز الكبريت في محافظة نينوى وصلاح الدين في المنطقة الممتدة جنوب الموصل منطقة **المشراق** و **الفتحة** وتقدر الاحتياطيات من الكبريت بحوالي (٦٠٠ مليون) اما الانتاج السنوي فيبلغ مليون طن

علل// للكبريت اهمية صناعية كبيرة في العراق

الجواب// لانه يستعمل في صناعة الثقاب والمفرقات ويستعمل في الزراعة لمعادلة قلوية التربة

اما اهم استعمالات للكبريت فهو يستخدم في تحضير حامض الكبريتيك، وهو مركب كبريتي يدخل في صناعة الاصباغ والدهانات ، والورق والمنسوجات وعدد م الصناعات الكيماوية

٤- الفوسفات

يوجد في المنطقة **الصحراوية الغربية** ضمن محافظة الانبار في منطقة **عكاشات** بين القائم والرطبة والاحتياطي الموجود يقدر بنحو (١٠ مليار طن) اما إنتاجه فيقدر بنحو مليونين طن

س// ماهي اهم استعمالات الفوسفات؟

يستعمل الفوسفات في الكثير من الصناعات الكيماوية اهمها (تحضير عنصر الفسفور و حامض الفسفوريك) الذي يستعمل في صناعات التعدين والصناعات الحربية والطبية والغذائية والخزفية واعواد الثقاب والنسيج يذهب معظم الفوسفات المستخرج في صناعة الاسمدة الزراعية لزيادة المحاصيل الزراعية

٥- معادن اخرى

تستخرج معادن اخرى ومنها القار والملح واحجار الكلس والرخام والجص والرمل في محافظات الانبار والنجف والبصرة وكربلاء والمثنى وهناك بعض المعادن المهمة الموجودة في محافظات العراق الشمالية ومنها الحديد والرصاص والمنغنيز والخرصين والكروم والنيكل والمرمر

ثانياً : الصناعات التحويلية

ان جميع دول العالم لاسيما الدول النامية وجدت في عملة التصنيع السبيل لتنمية اقتصادها ، ورفع المستوى المعيشي وتدعيم استقلالها السياسي

الصناعات التحويلية : هي الصناعات التي يقتصر نشاطها على تحويل المواد الاولية الى منتجات وسيطة او منتجات نهائية

ومن اهم الصناعات التحويلية وتوزيعها الجغرافي في اهم المحافظات في العراق هي :

١- الصناعات الغذائية

- أ- صناعة الزيوت النباتية : في محافظات (بغداد وميسان وبابل)
- ب- صناعة السكر : في محافظات (نينوى والسليمانية وميسان وبابل)
- ج- صناعة الالبان : في محافظات (بغداد والمثنى واربيل ونيوى والبصرة)
- د- صناعة التعليب : في محافظات (كربلاء وديالى واربيل ودهوك)

٢- الصناعات النسيجية والجلود

- أ- صناعة الغزل والنسيج القطني : في محافظات (بغداد ونيوى وواسط)
- ب- صناعة الغزل والنسيج الصوفي : في محافظات (بغداد وذي قار واربيل)
- ج- صناعات المنسوجات الحريرية : في محافظة بابل
- د- صناعة الملابس والسجاد والجلود : معظم المحافظات

٣- الصناعات الانشائية

- أ- صناعة الاسمنت : في محافظات (بغداد ونيوى والسليمانية وبابل والنجف وكربلاء والانبار والمثنى)
- ب- صناعة الطابوق : معظم المحافظات العراقية

٤- الصناعات الكيماوية

- أ- صناعة تكرير النفط والغاز والبتروكيماويات : في محافظات (البصرة وبغداد وكركوك)
- ب- صناعة الادوية : في محافظات (صلاح الدين وبغداد ونيوى)
- ج- صناعة الزجاج : في محافظة الانبار
- د- صناعة الورق : في محافظات (بغداد وميسان والبصرة)

٥- الصناعات المعدنية الاساسية

- أ- صناعة الحديد والصلب والالمنيوم : في محافظات (البصرة وذي قار)
- ب- صناعة تجميع السيارات : في محافظة بابل
- ج- صناعة الاثاث المنزلي : في محافظة بغداد
- د- الصناعات الكهربائية : في محافظات (بغداد وديالى وذي قار)



النقل والمواصلات

يعد قطاع النقل بفروعه وانشطته مكوناً مهماً للبنية الاساسية للاقتصاد الوطني وركيزة اساسية للتنمية الاقتصادية والاجتماعية

علل // يعد قطاع النقل مكوناً مهماً للبنية الاساسية للاقتصاد الوطني

الجواب // لما لها من تأثير على القطاعات الاقتصادية الاخرى مثل الزراعة والصناعة والتجارة والسياحة

توجد في العراق طرق نقل عديدة ومنها :

أولاً : الطرق البرية

١- طرق النقل بالسيارات

ترتبط مدن العراق بشبكة من الطرق الرئيسية وطرق المرور السريعة التي تربط العراق ببعض الدول المجاورة ومنها (الاردن وسوريا والكويت) والطرق الفرعية التي تربط بين مدن العراق المختلفة واقضييتها ونواحيها بعضها مع البعض

علل // لطرق النقل بالسيارات اهمية تجارية واقتصادية وحضارية .

الجواب // لانها تنقل تجارة العراق الخارجية والداخلية

وتشكل محافظة بغداد النواة الرئيسية التي تنطلق منها طرق النقل الرئيسية التي ترتبط بالمحافظات ونهايتها بالدول المجاورة عن طريق منافذ حدودية

٢- طرق النقل بسكك الحديد

يعد العراق من الدول الرائدة في استعمال سكك الحديد في النقل وأول قطار تم تسيره في العراق (سنة ١٩١٤ م)

علل // لسكك الحديد أهمية كبيرة في النقل البري .

الجواب // لانها رخيصة ولأخضع لقواعد المرور ولا تتأثر بتقلبات الطقس

اما سلبيات النقل بسكك الحديد فتتمثل بعدم مرونتها ، لانها مقيدة الحركة بسكة الحديد

ثانياً : الطرق الجوية

علل // تطور طرق النقل الجوي في العراق

الجواب // بسبب موقعه الجغرافي والاستراتيجي المهم ومناخ جاف وسما صافية

ومن اهم المطارات العراقية التي تنقل المسافرين الى داخل العراق وخارجه هي

- | | | |
|----------------------|---------------------------|-----------------------|
| ١- مطار بغداد الدولي | ٢- مطار الموصل الدولي | ٣- مطار البصرة الدولي |
| ٤- مطار اربيل الدولي | ٥- مطار السليمانية الدولي | ٦- مطار النجف الدولي |

وهناك مطارات صغيرة واخرى قيد الانشاء ومنها الناصرية و كربلاء ودهوك



ثالثاً : طرق النقل المائية (النهرية والبحرية)

النقل المائي : وهو من اسهل وسائل النقل وارخصها ويمتاز بانخفاض تكاليفه وقابليته على نقل الحمولات الكبيرة ولا يحتاج لصيانة الطرق التي يسلكها

علل// يعد النقل المائي اسهل وسائل النقل وارخصها

الجواب// لانخفاض تكاليف النقل وقابليته الكبيرة على استيعاب الشحنات الكبيرة ولا يحتاج الى صيانة الطرق التي يسلكها

وينقسم النقل المائي الى قسمين وهما :

١- النقل النهرى :

يتمثل النقل النهرى بنهرى دجلة والفرات الذي يخترقان العراق من الشمال الى الجنوب ويمران بأغلب المدن و الاراضي الزراعية ويرتبطان عبر شط العرب بطرق الملاحة البحرية

٢- النقل البحري :

يتمثل النقل البحري في العراق عن طريق الخليج العربي جنوب العراق بساحل طوله نحو ٦٠ كم

علل// يقتصر شط العرب على دخول السفن المتوسطة الحمولة

الجواب// بسبب قلة عمق المياه في شط العرب

س// عدد الموانئ البحرية في العراق ؟

١- ميناء ابو فلوس : وهو من اهم موانئ العراق الذي يقع على شط العرب في مدينة ابو الخصيب في محافظة البصرة

٢- ميناء المعقل : وهو من اهم موانئ العراق الذي يقع على شط العرب في محافظة البصرة ويبعد عن ساحل الخليج العربي حوالي ١٣٥ كم

٣- ميناء الفاو / ميناء ام قصر / ميناء خور الزبير : وهي من اهم الموانئ التجارية للعراق على الخليج العربي والتي عن طريقها تنقل تجارة العراق الى دول العالم

النشاط التجاري في العراق

التجارة : وهي عملية نقل السلع والخدمات الى اخرى وهي على نوعين (تجارة داخلية وتجارة خارجية)

ويرتبط النشاط التجاري بمدى التطور الاقتصادي



والتجارة على نوعين تجارة داخلية وتجارة خارجية

١- التجارة الداخلية

التجارة الداخلية : وهي عملية مبادلة السلع والمنتجات المختلفة بين المحافظات العراقية وتتبادل فيها المنتجات المحلية والمستوردة

س// ماهي العوامل التي تساعد على انتشار التجارة

- أ- الموقع الجغرافي :** ساعد موقع بعض المدن لتكون منافذ للتجارة ومنها بغداد والموصل واربيل والبصرة وميسان
- ب- تخصص المنتجات :** مثل تخصص محافظة البصرة وكربلاء بالتمور وتخصص بغداد وديالى بالحمضيات وتخصص نينوى وكركوك وواسط بالحبوب
- ج- تباين توزيع السكان :** ان التباين في توزيع السكان نجم عنه تفاوت في الاستهلاك والقوة الشرائية فالتفاوت الشرائي في محافظة بغداد يختلف عن محافظة السماوة بسبب التفاوت في عدد السكان .

٢- التجارة الخارجية

التجارة الخارجية : وهو النشاط التجاري بتبادل المنتجات بين دولة معينه ودول اخرى

ومن الخصائص الاساسية لتجارة العراق الخارجية هي :

- ١- التغير في نوعية السلع المختلفة في تجارة العراق الخارجية
- ٢- انفتاح التجارة العراقية على دول العالم وتنوع مصادرها
- ٣- اختلال الميزان التجاري ، نظراً لقلّة الصادرات على حساب الواردات

علل// اختلال الميزان التجاري العراقي

الجواب// نظراً لقلّة الصادرات على حساب الواردات

علل// يتصف الاقتصاد العراقي بانه احادي الجانب

الجواب// لان الصادرات العراقية يتركز على سلعة واحدة وهي النفط الخام وان الصادرات التقليدية الاخرى (السلع الغذائية والمواد الاولية والحيوانات الحية) تتميز بقلتها وتذبذبها



السياحة والاصطياف

السياحة : وهي حركة السكان لمدة تمتد من يوم واحد الى سنة واحدة لأغراض قضاء وقت للراحة او التسوق او زيارة المراكز المقدسة او العلاج وغيرها

الاصطياف : وهي زيارة الاماكن السياحية والترفيهية المنتشرة في مختلف انحاء العراق

ومن اهم انواع السياحة في العراق هي :

١- السياحة البيئية

السياحة البيئية : وهي زيارة الاماكن الطبيعية التي يزخر بها العراق من حيث الشلالات والجبال والبحيرات والمصايف وضفاف الانهار والاهوار

٢- السياحة الاثرية

السياحة الاثرية : وهي زيارة المناطق الاثرية المختلفة حيث يزخر العراق بالكثير من المواقع الاثرية باختلاف الحقب والحضارات ومنها الحضارات السومرية والبابلية والاشورية والاسلامية .

ومن أبرز هذه الآثار هي :

برج بابل وبوابة عشتار في محافظة بابل و زقورة أور في ذي قار والوركاء في المثنى ونفر في الديوانية ومدينة الحضر في نينوى ومأذنة الملوية في سامراء وطاق كسرى والمدرسة المستنصرية في بغداد

علل// يعد العراق مهد الحضارات

الجواب// حيث يزخر العراق بالكثير من المواقع الاثرية باختلاف الحقب والحضارات ومنها الحضارات السومرية والبابلية والاشورية والاسلامية .

٣- السياحة الدينية

السياحة الدينية : وهي زيارة الاماكن الدينية المقدسة المتمثلة بزيارة الاضرحة ومراكز الائمة والأولياء الصالحين والكنائس والاديرة

س// ماهي اهمية السياحة والاصطياف ؟

- ١- الاقتصادية : توفر عملة صعبة وخاصة من الزوار الاجانب
- ٢- الثقافية : وسيلة لتعارف الشعوب وتقاربها ، والاحتكاك الحضاري بمختلف اللغات
- ٣- الترفيهية : أقبال الناس على الاماكن الترفيهية وتحفيز الصناعات المحلية والشعبية
- ٤- الاعلامية : تجذب المراكز السياحية السياح والمصطافين من خارج العراق

علل// للسياحة اهمية اقتصادية .

الجواب// لانها توفر عملة صعبة خاصة من السياح الاجانب



حل الاسئلة

س٨/ عرف ما يأتي :

- ١- **التجارة** : وهي عملية نقل السلع والخدمات من منطقة الى اخرى وهي على نوعين (تجارة داخلية وتجارة خارجية) ويرتبط النشاط التجاري بمدى التطور الاقتصادي
- ٢- **النقل المائي** : وهو من اسهل وسائل النقل وارخصها ويمتاز بانخفاض تكاليفه وقابليته على نقل الحمولات الكبيرة ولا يحتاج لصيانة الطرق التي يسلكها
- ٣- **ميناء ابو فلوس** : وهو من اهم موانئ العراق الذي يقع على شط العرب في مدينة ابو الخصيب في محافظة البصرة
- ٤- **ميناء ام قصر** : وهي من اهم الموانئ التجارية للعراق على الخليج العربي والتي عن طريقها تنقل تجارة العراق الى دول العالم
- ٥- **التجارة الخارجية** : وهو النشاط التجاري بتبادل المنتجات بين دولة معينه ودول اخرى
- ٦- **الخط الاستراتيجي** : وهو منظومة لأنابيب النفط العراقي لتصدير النفط الخام والتي تربط الحقول الشمالية بالحقول الجنوبية
- ٧- **بابا كركر** : وهو من اهم حقول النفط ضمن المنطقة الشمالية ويقع في محافظة كركوك
- ٨- **الصناعات الاستخراجية** : هي عملة استخراج المواد الخام من باطن الارض مثل استخراج النفط والغاز والمعادن الاخرى
- ٩- **عكاشات** : وهي من اهم مناطق استخراج الفوسفات في العراق وتقع بين مدينتي القائم والرطبة ضمن محافظة الانبار
- ١٠- **المشراق** : وهي من اهم مناطق استخراج الكبريت في العراق وتقع جنوب محافظة الموصل
- ١١- **الصناعات التحويلية** : هي الصناعات التي يقتصر نشاطها على تحويل المواد الاولية الى منتجات وسيطة او منتجات نهائية
- ١٢- **السياحة** : وهي حركة السكان لمدة تمتد من يوم واحد الى سنة واحدة لأغراض قضاء وقت للراحة او التسوق او زيارة المراكز المقدسة او العلاج وغيرها
- ١٣- **الاصطياف** : وهي زيارة الاماكن السياحية والترفيهية المنتشرة في مختلف انحاء العراق
- ١٤- **السياحة الدينية** : وهي زيارة الاماكن الدينية المقدسة المتمثلة بزيارة الاضرحة ومراكز الائمة والأولياء الصالحين والكنائس والاديرة
- ١٥- **السياحة البيئية** : وهي زيارة الاماكن الطبيعية التي يزخر بها العراق من حيث الشلالات والجبال والبحيرات والمصايف وضفاف الانهار والاهوار
- ١٦- **السياحة الاثرية** : وهي زيارة المناطق الاثرية المختلفة حيث يزخر العراق بالكثير من المواقع الاثرية باختلاف الحقب والحضارات ومنها الحضارات السومرية والبابلية والاشورية والاسلامية .

س٢/ أملأ الفراغات التالية بما يناسبها من الكلمات ؟

- ١- هناك العديد من الموانئ البحرية التي تطل على شط العرب منها أبو فلوس و المعقل
- ٢- يتمثل النقل النهري في العراق بنهري دجلة و الفرات و شط العرب
- ٣- من الموانئ البحرية التي تطل على الخليج العربي هي ام قصر و الفاو
- ٤- من المطارات العراقية الجوية مطار بغداد و مطار نينوى و مطار البصرة
- ٥- الفوسفات يوجد في منطقة الصحراء الغربية ضمن محافظة الانبار في منطقة عكاشات
- ٦- تتركز صناعة الزجاج في محافظة الانبار وصناعة تجميع السيارات في بابل
- ٧- يتركز الكبريت في محافظتي نينوى وصلاح الدين في المنطقة الممتدة جنوب الموصل في منطقة المشراق و الفتحة
- ٨- يظم العراق الكثير من مقومات السياحة الاثرية منها بوابة عشتار في محافظة بابل وزقورة أور في ذي قار
- ٩- تعرف السياحة بانها حركة السكان لمدة تمتد من يوم الى سنة واحدة لأي غرض من أغراض قضاء وقت فراغ و التجارة و العلاج

س٣/ ضع كلمة (صح) امام العبارة الصحيحة وكلمة (خطأ) امام العبارة الخاطئة ، ثم صحح الخطاء ان وجد ؟

- ١- يوصف الاقتصاد العراقي بأنه احادي الجانب يعتمد بشكل اساسي على التجارة . خطأ على تصدير النفط الخام
- ٢- تباين توزيع السكان نجم عنه تفاوت في الاستهلاك وفي القوة الشرائية . صح
- ٣- تتميز طرق النقل المائية بأنها الاكثر طولاً والاوسع أنتشاراً . خطأ اسهل وسائط النقل وأرخصها
- ٤- يبلغ الاحتياطي المؤكد للغاز الطبيعي ٣١٧٠ مليون متر مكعب ، وبالمرتبة الخامسة عربياً . خطأ ٣٧٤٤ مليون
- ٥- أهم استعمالات الفوسفات هو استعماله في تحضير حامض الكبريتيك . خطأ الفسفور وحامض الفسفوريك
- ٦- تبلغ احتياطات العراق من النفط بنحو ٤٨ مليار برميل ويأتي بالمرتبة الخامسة عالمياً . خطأ ١٤٧ مليار برميل
- ٧- تقع مدينة الحضر في سامراء . خطأ محافظة نينوى
- ٨- ترتبط السياحة البيئية بالأماكن الدينية . خطأ بالأماكن الطبيعية



س٤/ علل ما يأتي ؟

- ١- تطور طرق النقل الجوي في العراق .
- الجواب //** بسبب موقعه الجغرافي والاستراتيجي المهم ومناخ جاف وسماء صافية
- ٢- يعد النقل المائي من أسهل وأرخص وسائل النقل .
- الجواب //** لانخفاض تكاليف النقل وقابليته الكبيرة على استيعاب الشحنات الكبيرة ولا يحتاج الى صيانة الطرق التي يسلكها
- ٣- لسكك الحديد أهمية كبيرة في النقل البري .
- الجواب //** لانها رخيصة ولأتخضع لقواعد المرور ولا تتأثر بتقلبات الطقس
- ٤- يتمتع العراق بمقومات السياحة البيئية .
- الجواب //** لان العراق يزخر بالمناطق الطبيعية كالشلالات والجبال والبحيرات والاهوار وغيرها
- ٥- للسياحة أهمية اقتصادية .
- الجواب //** لانها توفر عملة صعبة خاصة من السياح الاجانب
- ٦- يعد العراق مهد الحضارات .
- الجواب //** حيث يزخر العراق بالكثير من المواقع الاثرية باختلاف الحقب والحضارات ومنها الحضارات السومرية والبابلية والاشورية والاسلامية

س٥/ عدد ما يأتي ؟

أ- المطارات الدولية في العراق ؟

- | | | |
|----------------------|---------------------------|-----------------------|
| ١- مطار بغداد الدولي | ٢- مطار الموصل الدولي | ٣- مطار البصرة الدولي |
| ٤- مطار اربيل الدولي | ٥- مطار السليمانية الدولي | ٦- مطار النجف الدولي |

ب- اهم عوامل التجارة الداخلية في العراق ؟

- | | | |
|--------------------|------------------|-----------------------|
| ١- الموقع الجغرافي | ٢- تخصص المنتجات | ٣- تباين توزيع السكان |
|--------------------|------------------|-----------------------|

ج- الخصائص الاساسية لتجارة العراق الخارجية ؟

- ١- التغير في نوعية السلع المختلفة في تجارة العراق الخارجية
- ٢- انفتاح التجارة العراقية على دول العالم وتنوع مصادرها
- ٣- اختلال الميزان التجاري ، نظراً لقلّة الصادرات على حساب الواردات



د- أهم طرق نقل النفط العراقي ؟

- ١- النقل بالأنابيب
- ٢- النقل بواسطة السفن
- ٣- النقل البري للنفط

هـ - أهم الصناعات الكيماوية وأماكن تواجدها ؟

- ١- صناعة تكرير النفط والغاز والبتروكيماويات : في محافظات (البصرة وبغداد وكركوك)
 - ٢- صناعة الادوية : في محافظات (صلاح الدين وبغداد ونيوى)
 - ٣- صناعة الزجاج : في محافظة الانبار
 - ٤- صناعة الورق : في محافظات (بغداد وميسان والبصرة)
- و- أهمية السياحة والاصطياف ؟

١- الاقتصادية : توفر عملة صعبة وخاصة من الزوار الاجانب

٢- الثقافية : وسيلة لتعارف الشعوب وتقاربها ، والاحتكاك الحضاري بمختلف اللغات

٣- الترفيهية : أقبال الناس على الاماكن الترفيهية وتحفيز الصناعات المحلية والشعبية

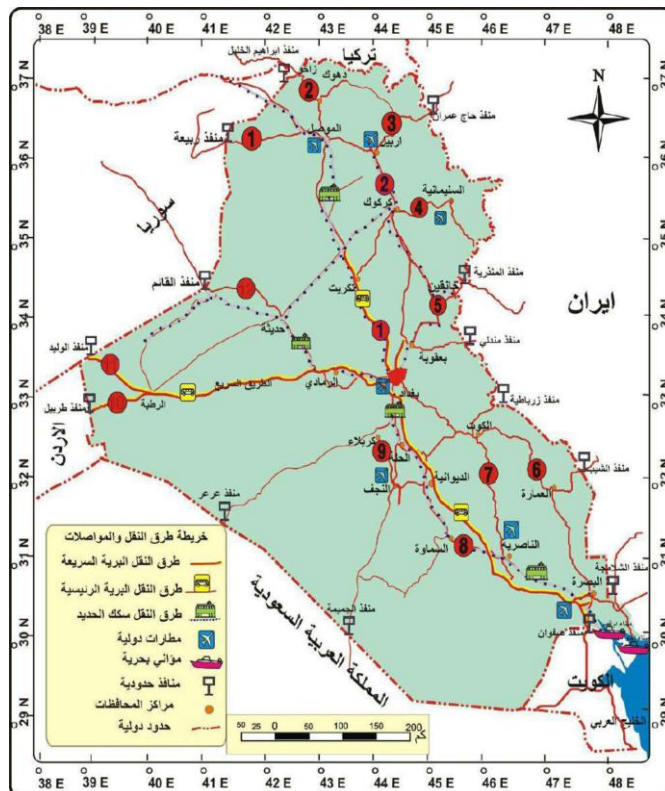
٤- الاعلامية : تجذب المراكز السياحية السياح والمصطافين من خارج العراق

ن- المواقع الاثرية في العراق ؟

برج بابل وبوابة عشتار في محافظة بابل و زقورة أور في ذي قار والوركاء في المثنى ونفر في الديوانية ومدينة الحضر في نينوى ومأذنة الملوية في سامراء وطاق كسرى والمدرسة المستنصرية في بغداد

ي- اهم معالم السياحة البيئية في العراق ؟

الشلالات والجبال والبحيرات والمصايف وضفاف الانهار والاهوار



الوحدة الثانية

تاريخ العراق الحديث والمعاصر





الفصل الاول

التاريخ

٢

العراق في العهد العثماني

واقع العراق في العهد العثماني

العثمانيون

العثمانيون : وهم قبائل نزحت من اواسط اسيا واستوطنوا في الاجزاء الشمالية الغربية من هضبة الاناضول وسموا بهذا الاسم نسبة الى جدهم الاكبر عثمان بن ارطغرل .

علل مايتي :

١- سميت الدولة العثمانية بهذا الاسم .

الجواب// نسبة الى جدهم الاكبر عثمان بن ارطغرل

٢- كان توسع العثمانيين في بداية الامر باتجاه اوربا

الجواب// بسبب ظروف الانقسام والتجزئة التي كانت عليها الامبراطورية البيزنطية

٢- **سليم الاول :** وهو السلطان العثماني الذي تمكن من الانتصار على الصفويين في معركة جالديران عام (١٥١٤ م) واحتلال عاصمتهم تبريز .

٣- **جالديران :** وهي المعركة التي حدثت بين الصفويين والعثمانيين عام (١٥١٤ م) وقد تمكن العثمانيين بقيادة السلطان سليم الاول من الانتصار على الصفويين واحتلال عاصمتهم تبريز .

الاضلاع العامة في العراق في العهد العثماني الاخير

سليمان القانوني : وهو السلطان العثماني الذي تمكن من احتلال مدينة بغداد عام (١٥٣٤ م) بعد انتصاره على الصفويين

العهد العثماني الاخير : وهو العهد الذي بدء بعد انتهاء حكم المماليك وعودة الحكم المباشر للعثمانيين للعراق واستمر حتى خروج العثمانيين من العراق سنة (١٩١٧ م)

علل// حكم العثمانيون العراق قرابة الاربعة قرون سادة فيها حالة من الجمود والتراجع الحضاري

الجواب // بسبب طبيعة الحكم ، والصراعات والحروب بينها وبين القوى الاجنبية الاخرى لاسيما الصفويين



س // ((حكم العثمانيون العراق قرابة الاربعة قرون سادت فيها حالة من الجمود والتراجع الحضاري)) ؟ وضع ذلك

وذلك بسبب طبيعة الحكم ، والصراعات والحروب بينها وبين القوى الأجنبية الأخرى لاسيما الصفويين والبرتغاليين والاسبان وغيرها من القوى .

س // ((ان العهد العثماني الاخير قد تميز ببداية التطور والانفتاح للعراق واتصاله بدول العالم فضلاً عن تطلعه

للنهوض والرقى ومواكبة التقدم الحضاري)) ؟ ناقش ذلك

ج/ فقد شهد هذا العصر ما عرف بـ (عصر التنظيمات) اي عصر الاصلاحات التي ارادت الحكومة العثمانية منها ادخال اصلاحات شامله في جميع مؤسسات الدولة وتحديثها وفق اسس عصرية . والتي بداء الولاة تطبيقها في العراق

مميزات العهد العثماني الاخير من العهود السابقة لحكم الدولة العثمانية في العراق

١- تأثير حركة الاصلاحات العثمانية (**التنظيمات**) وانعكاسها على العراق ، وتمثلت بصور مرسومين اصلاحيين هما (مرسوم كلخانة ١٨٣٩ م) و (خط همايون ١٨٥٦ م)

التنظيمات : هي الاصلاحات العثمانية لإعادة بناء الدولة على وفق الانظمة والقوانين الحديثة في كافة المجالات والتي تمثلت بمرسوم كلخانة وخط همايون كما شرعت بتأسيس معظم نضارتها (وزارتها)

٢- قسم العراق الى ثلاث ولايات هي (بغداد / الموصل / البصرة) ولكل ولاية عدداً من الاقضية ولكل قضاء عدة نواحي وقرى

٣- كان الولاة يتم تعيينهم من استنبول بشكل مباشر وبلغ عددهم خمس وثلاثون والياً بعضهم حكم اكثر من مرة ، وتميز بعضهم بالكفاءة والمقدرة وتحقيق انجازات واصلاحات .

٤- تعيين الولاة المصلحين في العراق ، لاسيما الوالي مدحت باشا . واوجد اساساً متيناً لعهد جديد من عهود الدولة العثمانية في العراق .

علل // وصف الوالي مدحت باشا بـ (اشهر الولاة المصلحين في العراق)

الجواب // وذلك لقيامه بإصلاحات كثيرة ، ادت الى تحسين الاوضاع العامة في العراق

٥- اتصال العراق الخارجي بدول العالم ، عن طريق وسائل متعددة لم تكن متاحة من قبل ومنها المدارس الأجنبية التي تهتم بتدريس اللغات الاوربية وكذلك البعثات التنقيب عن الاثار ، وربط العراق بخطوط البرق كلها ساهمت بكسر عزلة العراق الخارجية .



اشهر الولاة العثمانيين المصلحين في العراق

ظهرت حركة الاصلاحات العثمانية في العراق في النصف الثاني من القرن التاسع عشر . عندما قررت الدولة العثمانية ارسال احد الولاة ممن اطلع على حضارة الغربية واساليبها بهدف القيام بالإصلاحات

الوالي مدحت باشا

مدحت باشا : وهو من اشهر الولاة المصلحين في العراق تولى ولاية بغداد لمدة ثلاث سنوات ومنحة السلطان العثماني صلاحيات واسعة ترأس بموجبها السلطتين العسكرية والادارية للفترة من (١٨٦٩ / ١٨٧٢ م) .

علل // اهمية اصلاحات الوالي مدحت باشا برغم من قصر فترة تولية

الجواب // لانها احدثت تحولاً كبير ومهم في الواقع العراقي

س // كيف بداء مدحت باشا بإصلاحاته وما الهدف الرئيسي منها ؟

بدء مدحت باشا بإصلاح الادارة الحكومية واستند في عمله على قانون الولايات العثمانية وقد شملت اجراءاته ادخال الاصلاحات الادارية والاقتصادية والسياسة الى العراق لاسيما حل مشكلة الاراضي كان الهدف من اصلاحات مدحت باشا هو ربط الولايات العراقية الثلاثة ، وتقوية السلطة المركزية للدولة

ومن ابرز اصلاحات الوالي مدحت باشا هي

١- أصدره نظام الطابو

نظام الطابو : وهو من ابرز الاصلاحات الإدارية والاقتصادية للوالي مدحت باشا الذي كان يهدف لايجاد حل للمشاكل العشائرية وتنظيم ملكية الارض

علل // كان لنظام الطابو الدور الاساسي في الحد من النزاعات العشائرية

الجواب // لانه حدد ملكية الارض أقر حقوق مالكيها بسند رسمي وله حق التصرف بها

س // ماهي الآثار السلبية والايجابية لإصدار نظام الطابو في العراق ؟

الآثار الايجابية .

- ١- حدد عائدة الارض الى الافراد ام الدولة ام الاوقاف .
 - ٢- القضاء على الانتفاضات والنزاعات العشائرية وتعويدهم على الاستقرار .
 - ٣- تحسين سبل العيش بعد توزيع الاراضي والاستقرار فيها واستغلالها لرفع المستوى المعيشي .
 - ٤- اصلاح نظام الضرائب .
- الآثار السلبية .**

١- تحول رؤوساء العشائر الى ملاكين كبار للأراضي

٢- تحويل افراد العشيرة الى فلاحين عاملين في اراضي الملاكين . وبذلك أرسى قواعد **النظام الاقطاعي**



٢- أصلح النظام العسكري في العراق

قرر الوالي مدحت باشا في الاعتماد على العراقيين في الجيش بدلاً من العنصر الاجنبي ، لضمان ولاء السكان العرقيين له
فقرر تطبيق الخدمة الالزامية (التجنيد الاجباري) للعراقيين والاعتماد عليهم في الجيش

علل// قرر الوالي مدحت باشا في الاعتماد على العراقيين في الجيش بدلاً من العنصر الاجنبي ؟

الجواب // لضمان ولاء السكان العرقيين له فقرر تطبيق الخدمة الالزامية

التجنيد الإلزامي : وهو قرار طبقه الوالي مدحت باشا في التجنيد الإجباري للعراقيين والاعتماد عليهم في الجيش بدلاً عن العنصر الاجنبي لضمان ولاء السكان له

س// كان تطبيق نظام التجنيد الالزامي في العراق دورا ايجابياً في مضاعفة اعداد الجيش في العراق ؟ ناقش ذلك

ان نظام التجنيد الاجباري ضاعف اعداد الجيش بشكل كبير ، كما تم انشاء مدرستين عسكريه في بغداد لتدريب الضباط العسكريين العراقيين وزيادة كفاءة الجيش والتي اسهمت بتخرج اكثير من الضباط العراقيين الكفاءة .

٣- انشاء المدارس الحديثة في العراق

س// يعد انشاء المدار الحديثة في العراق أبرز اصلاحات الوالي مدحت باشا ؟ تكلم عن ذلك

اهتم مدحت باشا بأنشاء المدارس الحديثة في العراق على غرار المدارس في اسطنبول التي تعتمد التعليم الرسمي واسس اول مدرسة وهي **المدرسة الرشيدية العسكرية** ، وكان يقبل فيها الطلاب المتخرجين من المدارس الدينية ، مدة الدراسة فيها اربع سنوات ، ويدرس الطلاب فيها اللغتين العربية والتركية والجغرافية والتاريخ والحساب والخط والدين

ثم انشاء **المدرسة الاعدادية العسكرية** ، مدة الدراسة فيها ثلاث سنوات وتقبل فيها الطلاب المتخرجين من المدرسة الرشيدية العسكرية ، ويحق للطلبة المتخرجين من الاعدادية العسكرية الالتحاق بالكلية العسكرية في اسطنبول والدراسة في الكلية لمدة ثلاث سنوات ، ثم يتخرجون بعدها ضباطاً في الجيش العثماني

كما انشاء **مدرسة الصناعة** ، مدة الدراسة فيها اربع سنوات يتلقى فيها الطلبة دروساً عامة وتخصصية في التجارة والخياطة والطباعة

كما انشاء المدرسة الرشيدية الملكية ، مدة الدراسة فيها اربع سنوات ، يوظف خريجين المدرسة في الدوائر الحكومية ويعد تأسيس المدرسة الرشيدية الملكية نقلة نوعية في المجتمع العراقي مما كان له الاثر الكبير في زيادة نسبة المتعلمين

الرشيدية العسكرية : وهي اول مدرسة انشئها الوالي مدحت باشا في بغداد وكان يقبل فيها الطلاب المتخرجين من المدارس الدينية ، مدة الدراسة فيها اربع سنوات ، ويدرس الطلاب فيها اللغتين العربية والتركية والجغرافية والتاريخ والحساب والخط والدين

س// وضع مدحت باشا الاسس الحديثة للتعليم في العراق ؟ ناقش ذلك

وضع الوالي مدحت باشا الاسس الحديثة للتعليم في العراق بإصدار نظام المعارف الحكومية والذي وضع فيه مختلف نواحي التعليم وأدارته وتنظيمه

٤- الاهتمام بالصحافة

أمر الوالي مدحت باشا بإنشاء **مطبعة الولاية** صدرت عنها أول جريدة رسمية في العراق سميت (**زوراء**)

زوراء : وهي أول جريدة رسمية انشئها الوالي مدحت باشا في العراق وصدر العدد الاول منها في (١٥ / حزيران / ١٨٦٩) وكانت تصدر باللغتين العربية والتركية وتعني بالأخبار المحلية والعالمية .

س// كان لجريدة زوراء الدور الاساسي في اطلاع المجتمع العراقي على احوال العالم الخارجي ؟ ناقش ذلك

كانت جريدة زوراء تنقل الاخبار العالمية والمحلية وتنشر نصوص القرارات والقوانين والمقالات مما جعل دورها مهماً في اطلاع المجتمع العراقي على احوال العالم الخارجي وافكاره واسهمت في نشر الوعي الثقافي بين ابناء الشعب واستمرت بالصدور حتى الاحتلال البريطاني لبغداد عام ١٩١٧ م

٥- تحديث طرق المواصلات

س/ يعد تحديث طرق المواصلات احد اهم اصلاحات الوالي مدحت باشا ؟ وضح ذلك

اعاد مدحت باشا تشكيل الادارة العثمانية النهرية والتي اسهمت في تطوير النقل النهري والنقل البحري مع عواصم العالم كإسطنبول، وكانت الشركة النهرية تمتلك ثمان بواخر اربع منها للنقل النهري الداخلي واربع بواخر للنقل الخارجي عبر البحار مع العالم الخارجي

كما اسس مدحت باشا شركة الترامواي في مجال النقل البري بين بغداد والكاظمية ليسهم في نقل المسافرين والبضائع وافتتح في عام ١٨٧١ م .

٦- تحديث عدد من المدن

حدث مدحت باشا عدداً من المدن ، كما انشاء مدن جديدة كمدينة الناصرية والرمادي واهتم بالمجالس البلدية وعملها ، واسس المحاكم المدنية ، كما انشاء مصفى للنفط في بعقوبة ، ومنتزهاً عام في بغداد ، ومعملاً لإصلاح السفن في البصرة ، وشجع الناس على بناء الدور الحديثة ، وبنى دوراً للحكومة ، واسس مزرعة نموذجية وبناء مستشفى .

٧- اصلاحات أخرى

اسس مدحت باشا مصنعاً لا نشاء الملابس والبطانيات لجنود الفيلق السادس في العثماني ، واشاء صندوقاً حكومياً لتقديم القروض للمزارعين والمواطنين ، ونصب مضخة لرفع مياه دجلة وتوزيعها لبيوت المدينة في بغداد



نتائج الحكم العثماني في العراق

س // ماهي نتائج الحكم العثماني في العراق ؟

- ١- كان اهتمام السلاطين العثمانيين في العراق كمصدر من مصادر تمويل الخزينة العثمانية .
- ٢- تزايد المعارضة العراقية ضد العثمانيين والتي بدأت تزداد بضعف الدولة والتدخلات الاجنبية .
- ٣- بسبب ضعف الدولة وانشغالها بالصراعات الداخلية والخارجية ، تمكنت بعض الاسر والزعامات من حكم نفسها مثل ال عبد الجليل والعمرين في الموصل .
- ٤- تدخل الدول الاوربية . بريطانية وفرنسا والمانيّة في اوضاع العراق بسبب ضعف الدولة العثمانية .
- ٥- شعور العثمانيين بضرورة الاصلاح وتقوية حكم الدولة لمنع وقوع العراق بأيدي دول اخرى .

علل كلاً مما يأتي ؟

- ١- تمكنت بعض الاسر والزعامات المحلية في العراق من حكم نفسها في العهد العثماني الاخير ؟

الجواب // بسبب ضعف الدولة العثمانية وانشغالها في الصراعات الداخلية والخارجية .

- ٢- تدخل القوة الاوربية البريطانية والالمانية والفرنسية في اوضاع العراق ؟

الجواب // بسبب ضعف الدولة العثمانية في ادارة شؤون البلاد الداخلية .

- ٣- تزايد المعارضة العراقية ضد العثمانيين ، لاسيما في النصف الثاني من القرن السادس عشر

الجواب// لزيادة ضعف الدولة العثمانية والتدخلات الاجنبية في الشأن العراقي

عبد الغني آل جميل : وهو المفتي الذي قاده الانتفاضة العراقية في بغداد عام ١٨٣٢ م التي عارضت سياسة الوالي علي رضا وإجرائته والتي قضى عليها الوالي بعد ضرب محلة المفتي (قنبر علي) بالمدفعية .

س// ((من نتائج الحكم العثماني في العراق تزايد المعارضة العراقية ضد العثمانيين)) وضع ذلك ، مستشهداً بأبرز تلك الانتفاضات .

ازدادت المعارضة العراقية للحكم العثماني نتيجة لزيادة ضعف الدولة العثمانية والتدخلات الاجنبية واتخذت المعارضة عدة اشكال حيث التجمعات والتحالفات العشائرية والتي شملت الاقسام الشمالية والجنوبية من العراق ومن ابرز تلك الانتفاضات هي

انتفاضة كربلاء عام (١٦٠٤) على الحاميات العثمانية : وقد شاركت فيها الفئات المثقفة وسكان المدن

انتفاضة بغداد التي قادها المفتي عبد الغني آل جميل ١٨٣٢ م : ضد حكم الوالي علي رضا وإجرائاته والتي تم القضاء عليها بضرب محلة المفتي بالمدفعية .

حل الاسئلة

س١/ عرف ما يأتي :

العثمانيون : وهم قبائل نزحت من اواسط اسيا واستوطنوا في الاجزاء الشمالية الغربية من هضبة الاناضول وسموا بهذا الاسم نسبة الى جدهم الاكبر عثمان بن ارطغرل

سليم الاول : وهو السلطان العثماني الذي تمكن من الانتصار على الصفويين في معركة جالديران عام (١٥١٤ م) واحتلال عاصمتهم تبريز .

جالديران : وهي المعركة التي حدثت بين الصفويين والعثمانيين عام (١٥١٤ م) وقد تمكن العثمانيين بقيادة السلطان سليم الاول من الانتصار على الصفويين واحتلال عاصمتهم تبريز .

سليمان القانوني : وهو السلطان العثماني الذي تمكن من احتلال مدينة بغداد عام (١٥٣٤ م) بعد انتصاره على الصفويين

التجنيد الإلزامي : وهو قرار طبقه الوالي مدحت باشا في التجنيد الإجباري للعراقيين والاعتماد عليهم في الجيش بدلاً عن العنصر الاجنبي لضمان ولاء السكان له

زوراء : وهي اول جريدة رسمية انشئها الوالي مدحت باشا في العراق وصدر العدد الاول منها في (١٥ / حزيران / ١٨٦٩) وكانت تصدر باللغتين العربية والتركية وتعني بالأخبار المحلية والعالمية .

التنظيمات : هي الاصلاحات العثمانية لإعادة بناء الدولة على وفق الانظمة والقوانين الحديثة في كافة المجالات والتي تمثلت بمرسوم كلخانة وخط همايون وقد اعلان العمل بأول دستور عثماني عام ١٨٧٦م كما شرعت بتأسيس معظم نضارتها (وزارتها)

مدحت باشا : وهو من اشهر الولاة المصلحين في العراق تولى ولاية بغداد لمدة ثلاث سنوات ومنحة السلطان العثماني صلاحيات واسعة تراس بموجبها السلطتين العسكرية والادارية للفترة من (١٨٦٩ / ١٨٧٢ م) .

نظام الطابو : وهو من ابرز الاصلاحات الإدارية والاقتصادية للوالي مدحت باشا الذي كان يهدف لايجاد حل للمشاكل العشائرية وتنظيم ملكية الارض

الرشيدية العسكرية : وهي اول مدرسة انشئها الوالي مدحت باشا في بغداد وكان يقبل فيها الطلاب المتخرجين من المدارس الدينية ، مدة الدراسة فيها اربع سنوات ، ويدرس الطلاب فيها اللغتين العربية والتركية والجغرافية والتاريخ والحساب والخط والدين

عبد الغني آل جميل : وهو المفتي الذي قادة الانتفاضة العراقية في بغداد عام ١٨٣٢ م التي عارضت سياسة الوالي علي رضا وإجرائته والتي قضى عليها الوالي بعد ضرب محلة المفتي (قنبر علي) بالمدفعية .



س٢/ ناقش العبارات الآتية:

١- ((ان العهد العثماني الاخير قد تميز ببداية التطور والانفتاح للعراق واتصاله بدول العالم فضلاً عن تطلعه

للنهوض والرقى ومواكبة التقدم الحضاري)) ناقش ذلك ؟

ج/ فقد شهد هذا العصر ما عرف بـ (عصر التنظيمات) اي عصر الاصلاحات التي ارادت الحكومة العثمانية منها ادخال اصلاحات شاملة في جميع مؤسسات الدولة وتحديثها وفق اسس عصرية . والتي بداء الولاة تطبيقها في العراق

٢- وضع مدحت باشا الاسس الحديثة للتعليم في العراق ؟ ناقش ذلك

وضع الوالي مدحت باشا الاسس الحديثة للتعليم في العراق بإصدار نظام المعرف الحكومية والذي وضح فيه مختلف نواحي التعليم وأدارته وتنظيمه

٣- كان لجريدة زوراء الدور الاساسي في اطلاع المجتمع العراقي على احوال العالم الخارجي ؟ ناقش ذلك

كانت جريدة زوراء تنقل الاخبار العالمية والمحلية وتنشر نصوص القرارات والقوانين والمقالات مما جعل دورها مهماً في اطلاع المجتمع العراقي على احوال العالم الخارجي وافكاره واسهمت في نشر الوعي الثقافي بين ابناء الشعب واستمرت بالصدور حتى الاحتلال البريطاني لبغداد عام ١٩١٧ م

٤- كان تطبيق نظام التجنيد الالزامي في العراق دوراً ايجابياً في مضاعفة اعداد الجيش في العراق ؟ ناقش ذلك

ان نظام التجنيد الاجباري ضاعف اعداد الجيش بشكل كبير ، كما تم انشاء مدرستين عسكرية في بغداد لتدريب الضباط العسكريين العراقيين وزيادة كفاءة الجيش والتي اسهمت بتخرج الكثير من الضباط العراقيين الكفاءة .

٥- أن تعين الوالي مدحت باشا أوجد اساساً متيناً لعهد جديد من عهود الطولة العثمانية ؟ ناقش ذلك

وذلك لقيامه بإصلاحات كثيرة ، ادت الى تحسين الاوضاع العامة في العراق حتى وصف الوالي مدحت باشا بـ (اشهر الولاة المصلحين في العراق)

س٣/ علل ما يأتي ؟

١- كان لنظام الطابو الدور الاساسي في الحد من النزاعات العشائرية

الجواب// لانه حدد ملكية الارض أقر حقوق مالكيها بسند رسمي وله حق التصرف بها

٢- اصلاحات الوالي مدحت باشا وأهميتها بالرغم من قصر توليه

الجواب// لانها احدثت تحولاً كبير ومهم في الواقع العراقي

٣- قرر مدحت باشا في المجال العسكري الاعتماد على العراقيين في تركيبة الجيش بدلاً من العنصر الاجنبي

الجواب// لضمان ولاء السكان العرقيين له قرر تطبيق الخدمة الالزامية



س٤/ عدد ما يأتي ؟

أ- عدد مميزات العهد العثماني الاخير من العهود السابقة بحكم الدولة العثمانية في العراق ؟

- ١- تأثير حركة الاصلاحات العثمانية (**التنظيمات**) وانعكاسها على العراق ، وتمثلت بصور مرسومين اصلاحيين هما (مرسوم كلخانة ١٨٣٩ م) و (خط همايون ١٨٥٦ م)
- ٢- قسم العراق الى ثلاث ولايات هي (بغداد / الموصل / البصرة) ولكل ولاية عدداً من الاقضية ولكل قضاء عدة نواحي وقرى
- ٣- كان الولاية يتم تعيينهم من استنبول بشكل مباشر وبلغ عددهم خمس وثلاثون والياً بعضهم حكم اكثر من مرة ، وتميز بعضهم بالكفاءة والمقدرة وتحقيق انجازات واصلاحات .
- ٤- تعيين الولاية المصلحين في العراق ، لاسيما الوالي مدحت باشا .
- ٥- اتصال العراق الخارجي بدول العالم ، عن طريق وسائل متعددة لم تكن متاحة من قبل ومنها المدارس الاجنبية

ب- عدد أهم الاصلاحات التي قام بها مدحت باشا في العراق ؟

- ١- أصدره نظام الطابو في العراق
- ٢- اصلاح النظام العسكري في العراق
- ٣- إنشاء المدارس الحديثة في العراق
- ٤- الاهتمام بالصحافة
- ٥- تحديث طرق المواصلات
- ٦- تحديث عدد من المدن
- ٧- اصلاحات اخرى

ج- عدد نتائج الحكم العثماني في العراق ؟

- ١- كان اهتمام السلاطين العثمانيين في العراق كمصدر من مصادر تمويل الخزينة العثمانية .
- ٢- تزايد المعارضة العراقية ضد العثمانيين والتي بدأت تزداد بضعف الدولة والتدخلات الاجنبية .
- ٣- بسبب ضعف الدولة وانشغالها بالصراعات الداخلية والخارجية ، تمكنت بعض الاسر والزعامات من حكم نفسها مثل ال عبد الجليل والعمرين في الموصل .
- ٤- تدخل الدول الاوربية . بريطانيا وفرنسا والمانية في اوضاع العراق بسبب ضعف الدولة العثمانية .
- ٥- شعور العثمانيين بضرورة الاصلاح وتقوية حكم الدولة لمنع وقوع العراق بأيدي دول اخرى

س ٥/ ناقش العبارة الآتية :

١- ((بدء مدحت باشا إصلاحاته في العراق بإصلاح الإدارة الحكومية)) ناقش ذلك ؟

بدء مدحت باشا بإصلاح الإدارة الحكومية واستند في عمله على قانون الولايات العثمانية وقد شملت إجراءاته ادخال الإصلاحات الإدارية والاقتصادية والسياسة الى العراق لاسيما حل مشكلة الأراضي وكان الهدف من إصلاحات مدحت باشا هو ربط الولايات العراقية الثلاثة ، وتقوية السلطة المركزية للدولة

٢- ((من نتائج الحكم العثماني في العراق تزايد المعارضة العراقية ضد العثمانيين)) وضع ذلك ، مستشهداً بأبرز تلك الانتفاضات .

ازدادت المعارضة العراقية للحكم العثماني نتيجة لزيادة ضعف الدولة العثمانية والتدخلات الأجنبية واتخذت المعارضة عدة أشكال حيث التجمعات والتحالفات العشائرية والتي شملت الاقسام الشمالية والجنوبية من العراق ومن ابرز تلك الانتفاضات انتفاضة كربلاء عام (١٦٠٤) على الحاميات العثمانية : وقد شاركت فيها الفئات المثقفة وسكان المدن انتفاضة بغداد التي قادها المفتي عبد الغني آل جميل ١٨٣٢ م : ضد حكم الوالي علي رضا وإجراءاته والتي تم القضاء عليها بضرب محلة المفتي بالمدفعية

س ٦/ وضع ما يأتي ؟

١- حكم العثمانيون العراق قرابة الاربعة قرون سادت فيها حالة من الجمود والتراجع الحضاري ؟ وضع ذلك

وذلك بسبب طبيعة الحكم ، والصراعات والحروب بينها وبين القوى الأجنبية الأخرى لاسيما الصفويين والبرتغاليين والاسبان وغيرها من القوى

٢- وضع الآثار الايجابية والسلبية لنظام الطابو في العراق؟

الآثار الايجابية .

- ١- حدد عائدة الارض الى الافراد ام الدولة ام الاوقاف .
- ٢- القضاء على الانتفاضات والنزاعات العشائرية وتعويدهم على الاستقرار .
- ٣- تحسين سبل العيش بعد توزيع الاراضي والاستقرار فيها واستغلالها لرفع المستوى المعيشي .
- ٤- اصلاح نظام الضرائب .

الآثار السلبية .

- ١- تحول رؤساء العشائر الى ملاكين كبار للأراضي
- ٢- تحويل افراد العشيرة الى فلاحين عاملين في اراضي الملاكين . وبذلك أرسى النظام الاقطاعي

٣- يعد تحديث طرق المواصلات احد اهم اصلاحات الوالي مدحت باشا ؟ وضع ذلك

اعاد مدحت باشا تشكيل الادارة العثمانية النهرية والتي اسهمت في تطوير النقل النهري والنقل البحري مع عواصم العالم كإسطنبول، وكانت الشركة النهرية تمتلك ثمان بواخر اربع منها للنقل النهري الداخلي واربع بواخر للنقل الخارجي عبر البحار مع العالم الخارجي

كما اسس مدحت باشا شركة الترامواي في مجال النقل البري بين بغداد والكاظمية ليسهم في نقل المسافرين والبضائع وافتتح في عام ١٨٧١ م .

الفصل الثاني

المصالح البريطانية في العراق

١- أهمية موقع العراق الاستراتيجي لطرق التجارة البريطانية مع الشرق

علل // بدء التوسع الاوربي باتجاه الشرق خلال القرن السادس عشر ؟

الجواب // بسبب الاستكشافات الجغرافية التي اعقبها اندفاع رؤوس الاموال في المناطق الجديدة من العالم.

الملكة اليزابيث : هي ملكة بريطانية الاولى التي حصلت على تعهد من الحكومة البريطانية بحماية التجارة الانكليزية اثناء وجودها او مرورها بالأراضي العثمانية والتي كان العراق جزء منها عام ١٥٨٠ م .

س// ماهي الامور التي أكدت عليها رحلة رالف فيتش في العراق ؟

١- يمثل العراق حلقة الوصل بين الدولة العثمانية وبلاد فارس .

٢- ان البصرة مركز تجاري مهم لتجارة التوابل والعقاقير المستوردة من الهند .

س// ماهي الامتيازات التي منحتها الحكومة العثمانية للتجار الانكليز في عام (١٦٠٤ م) ؟

١- رفع السفن الانكليزية اعلامها والمتاجرة داخل الموانئ العثمانية .

٢- تحديد الرسوم على البضائع الانكليزية ب(٣%) من ثمن البضائع .

٣- انشاء وكالة تجارية أنكليزية في البصرة .

٤- حق محاكمة العمال العراقيين .

٥- وجود ممثل تجاري بريطاني يتمتع بالحصانة في بغداد والبصرة .

٢- التنافس الألماني - البريطاني على العراق

س// تكلم عن التنافس الألماني - البريطاني على العراق ؟

بدء التنافس من خلال الاهتمام بالأثار العراقية والدراسات العربية والاسلامية وتطور الامر بعد ذلك الى مد سكة حديد

(برلين - بغداد) والذي يمثل هدفاً لألمانية في الممتلكات الدولة العثمانية ، ثم تطور الامر مطلع القرن التاسع عشر الى مد سكة حديد قونية بغداد ثم البصرة عام ١٩٠٣ م

وقد انعكس الامر على حجم حمولات السفن التجارية الألمانية في ميناء البصرة ، حيث جاءت بالمرتبة الثانية بعد حجم الصادرات البريطانية في العراق ، وبالرغم من فرق الصادرات البريطانية مع العراق الا ان بريطانيا اعدت تطور التجارة الألمانية مع العراق ، نذير خطر على مصالحها في العراق



٣- الظروف الدولية ودورها في تعزيز العلاقات البريطانية - العثمانية وانعكاسها لصالح تعزيز النفوذ البريطاني في العراق

وتمثلت تلك الظروف في :

أ- الحملة الفرنسية بقيادة نابليون بونابرت على مصر عام ١٧٩٨م والخطط الفرنسية للتوسع في المنطقة ومنها الى الهند الشرقية

ب- نجاح بريطانية بتعيين هارفورد جونز عام ١٨٠٢ قنصلاً لها في بغداد وما حولها، ومنحة الحصانة والامتيازات وتوطيد علاقته مع الوالي المملوكي في بغداد سليمان باشا الكبير

ج- تراجع العلاقات (العثمانية - الفرنسية) ، وانعكاسها على عقد **معاهدة السلم** في مضيق الدردنيل عام ١٨٠٩م .

هارفورد جونز : وهو القنصل التي عينته بريطانية في ولاية بغداد وماحولها عام (١٨٠٢ م) ومنحه حق الحصانة والامتيازات .

سليمان باشا الكبير : هو الوالي المملوكي على بغداد الذي تمتع بعلاقة جيدة مع بريطانية واستمر ذلك حتى وفاته سنة ١٨٠٢م .

س // ماهي معاهدة الدردنيل ؟ وماذا تضمنت هذه المعاهدة ؟

معاهدة الدردنيل : وهي معاهدة للسلم في مضيق الدردنيل عقدت بين بريطانية والدولة العثمانية عام (١٨٠٩ م) .
وقد تضمنت .

- ١- حرية التجارة البريطانية داخل الدولة البريطانية والاراضي التابعة لها .
- ٢- ألزام الدولة العثمانية بحماية هذه التجارة .

٤- المصالح البريطانية في نهري دجلة والفرات

كان اهتمام بريطانية في بداية الامر يعود لأسباب تجارية ، ثم اصبح لأسباب تجارية وسياسية تتعلق بالمصالح الاستعمارية البريطانية ، وذلك بسبب الموقع الجغرافي للعراق الذي يمثل طريقاً رئيسياً لأكبر المستعمرات البريطانية وهي الهند (**درة التاج البريطاني**)

علل // اطلقت بريطانية تسمية درة التاج البريطاني على مستعمراتها في الهند ؟

الجواب // بسبب اهميتها الاقتصادية لبريطانية .



س // وضح الطرق الثلاث التي كانت توصل بريطانيا بالهند ، وأي الطرق كان مفضل لديها ، ولماذا ؟

الطريق الاول : عبر رأس الرجاء الصالح في أقصى جنوب افريقيا وهو قليل الاهمية

الطريق الثاني : عبر الاراضي المصرية ليصل البحر المتوسط بالبحر الاحمر ومنه الى الهند

الطريق الثالث : يمر عبر العراق ليصل البحر المتوسط بالخليج العربي ومنه الى الهند وهو الطريق المفضل لانه اقصر الطرق (قبل افتتاح قناة السويس عام ١٩٨٦ م)

علل // استعمال القوة البخارية في المواصلات المائية والسفن الصغيرة في الانهار ؟

الجواب // لان السفن البخارية قادرة على حمل البضائع بتكاليف نقل قليلة ومدة سفر اقل

فرنسيس رودن جسني : هو الضابط التي أرسلته بريطانيا للقيام بعمليات المسح والتحري لنهر الفرات التي بدأت في (حزيران ١٨٣٠ م) وانتهت في (حزيران ١٨٣١ م) والتي بينت اهمية نهر الفرات بالنسبة الى بريطانيا

س// بين اهم الرحلات الاستطلاعية التي ارسلتها بريطانيا لمعرفة مدى صلاحية نهري دجلة والفرات للملاحة النهرية ؟

الرحلة الاولى : رحلة الضابط البريطاني فرنسيس رودن جسني للقيام بالمسح والتحري في نهر الفرات التي بدأت في حزيران ١٨٣٠ الى حزيران ١٨٣١ والتي بينت اهمية نهر الفرات للحكومة البريطانية

الرحلة الثانية : رحلة رودن جسني التي توجهت عام ١٨٣٤ لدراسة مجرى نهر الفرات بباخرتين (دجلة والفرات) واستغرقت لمدة ثلاث سنوات وعند وصول سفينة الفرات الى منطقة بوشهر اتصل رجالها بالعشائر الموجودة هناك لتدوين معلومات مهمة عن طبيعة البلاد وسكانها اما سفينة دجلة فقد غرقت مما دفع جسني الى تغيير وجهة نظره عن صلاحية نهر الفرات لسير السفن البخارية

الرحلة الثالثة : رحلة (هنري بلوس لنج) الذي اسس شركة في بغداد عام ١٨٤٠ في نهر دجلة وكانت لها باخرتين (لندن ودجلة) وقد اهتمت الشركة بعمليات التجارية والوساطة التجارية لبعض الشركات البريطانية والبريد

الرحلة الرابعة : رحلة فلкс جونز في المدة ما بين (١٨٤٧ - ١٨٥٣) الى بغداد وبابل وبنوى

الرحلة الخامسة : رحلة القائد سلمي حتى عام ١٨٦٢ الذي اهتم بمنطقة وادي دجلة تضم المنطقة الممتدة بين بغداد وسامراء

س/ ماذا أكدت الرحلات الاستطلاعية لنهري دجلة والفرات ؟

ان تلك المحاولات والجهود تمخض عليها رسم الخرائط وجمع المعلومات المهمة عن نهري دجلة والفرات واكدت لبريطانية اهمية موقع العراق وحتمية جعله منطقة نفوذ بريطاني

هنري بلوس لنج : هو احد الشخصيات البريطانية استطاع تأسيس شركة في بغداد عام ١٨٤٠ في نهر دجلة وكانت لها باخرتين (لندن ودجلة) وقد اهتمت الشركة بعمليات التجارية والوساطة التجارية لبعض الشركات البريطانية والبريد

سلمي : احد القادة البريطانيين الذي كلف برحلة استطلاعية عام ١٨٦٢ الذي اهتم بمنطقة وادي دجلة تضم المنطقة الممتدة بين بغداد وسامراء

٥- مشاريع السكك والحديد

علل // دعت بريطانية عام ١٨٥٧ الى مد سكة حديد الفرات ؟

الجواب // بسبب ازدياد مصالحها في المنطقة اقتصادياً واستراتيجياً

٦- الميزان التجاري لصالح بريطانية

لتحصل بريطانية على المواد الأولية والمنتجات الزراعية الرخيصة التي تتوفر في العراق ، فقد كان الميزان التجاري مع العراق لصالح البريطانيين **فكانت بريطانية تصدر** الاقمشة واكياس الجوت والحديد والفولاذ والتوابل والشاي والسكر والخشب والغزول

اما ما يصدره العراق فكان منتجات زراعية وحيوانية اهمها (الصوف والقمح والتمر والسمن وجلود المواشي و الخيل والصمغ وانواع الحبوب الغذائية الاخرى)

وخلال الفترة ما بين سنة ١٩١٠ - ١٩١٢ فقد وصلت نسب البضائع البريطانية والهندية مع العراق حوالي ٦٥,٣ % من الحجم الكلي للبضائع

٧- النزعة الاستعمارية

تتمثل بالنزعة الاستعمارية البريطانية ، وامكانياتها في السيطرة على مناطق شاسعة من العالم ومنها العراق

الاحتلال البريطاني للعراق عام ١٩١٤

النورد كيرزن : هو نائب ملك بريطانية في الهند الذي صرح في عام ١٩١١ م بان المصالح السياسية البريطانية

لا تنحصر في الخليج العربي بل تمتد الى بغداد .

علل // تحركت القوات البريطانية من البحرين في (حملت ديلامين) لاحتلال العراق ؟

الجواب // لانه يشكل الخط الامامي للدفاع عن مصالحها الحيوية في الخليج العربي

س / ماهي الاسباب التي دعت بريطانية لاحتلال مدين القرنة في (٣ / كانون الاول / ١٩١٤) ؟

١- موقعها الاستراتيجي عند ملتقى نهري دجلة والفرات

٢- توفير متطلبات الجيش العثماني من مواد غذائي ومؤن .

٣- تأثيرها المعنوي في العشائر العراقية .



س / املاء الفراغات ؟

- ١- عند نشوب الحرب العالمية الاولى في أواخر العام ١٩١٤ م دخلت القوات العثمانية الى جانب دول الوسط بزعامه المانيا و النمسا والمجر ضد دول الوفاق بزعامه بريطانيا و فرنسا و روسيا القصرية
- ٢- نزلت القوات البريطانية في مدينة الفاو في ٦ / تشرين الثاني بعد مناوشات خفيفة مع العثمانيين .

معركة الشعبة

معركة الشعبة : وهي المعركة التي حدثت بين القوات البريطانية والقوات العثمانية والمتطوعين العراقيين في (١٢ / نيسان / ١٩١٥) والتي تمكن فيها البريطانيون من حسم المعركة لصالحهم في (١٤ / نيسان) وانسحاب العثمانيين والمتطوعين الى مدينة الناصرية .

سليمان العسكري : وهو قائد القوات العثمانية في معركة الشعبة الى جانب المتطوعين العراقيين الذي قام بالانتحار بعد هزيمته من قبل القوات البريطانية في ١٤ / نيسان / ١٩١٥ في معركة الشعبة .

علل/ هزيمة القوات العثمانية بقيادة سليمان العسكري امام بريطانية وانسحابها الى الناصرية .

الجواب / بسبب وصول التعزيزات العسكرية الكبيرة للقوات البريطانية والتي حسمت المعركة بشكل نهائي يوم ١٤ نيسان

س / لمعركة الشعبة اهمية كبيرة في تاريخ العراق اذكر اسبابها ؟

- ١- تأثيرها السلبي في معنويات الجيش العثماني بعد الخسائر البشرية والمادية وانتحار قائدها سليمان العسكري .
- ٢- سوء التخطيط العسكري العثماني لقيادة المعركة .
- ٣- النقص في الاسلحة والتجهيزات العسكرية والمؤن الغذائية .
- ٤- أكدت للعراقيين عدم امكانية التصدي من القوات العثمانية للبريطانيين

الاحتلال البريطاني لمدينتي العمارة والناصرية :

س / ماهي الاسباب التي دعت بريطانية لاحتلال مدينتي العمارة والناصرية ؟

- ١- السيطرة على راس الخليج العربي وابعاد القوات العثمانية من شط العرب
- ٢- عدم اعطاء الفرصة للعثمانيين لإعادة تنظيم قواتهم العسكرية .
- ٣- استعادة هيبة بريطانية بوصفها دولة عظمة ذات سيادة على مناطق شاسعة من العالم .
- ٤- للحفاظ على مصالحها الاقتصادية وحماية مصافي النفط والانابيب التابعة للشركة الانجلو - فارسية .

❖ تقدمت القوات البريطانية واحتلت مدينة **العمارة** في (٤ / حزيران / ١٩١٥) ومدينة الناصرية يوم **١٥ تموز / ١٩١٥**



حصار الكوت والتقدم نحوه بغداد

طاووزند : وهو الجنرال البريطاني الذي قام باحتلال مدينة الكوت في (٢٨ / ايلول / ١٩١٥) والتحصن فيها بعد ان حاصر العثمانيين المدينة لمدة خمسة اشهر مما اضطر الى استسلامه مع قواته للجيش العثماني .

فون در كولتز : وهو الجنرال الألماني الذي استلم قيادة القوات العثمانية في (١٢ / كانون الاول / ١٩١٥) بعد حصار مدينة الكوت والذي اصدر امره بعدم مهاجمة القوات البريطانية المحصنة في مدينة الكوت لحين نفاذ المؤن مما اجبر القوات البريطانية وقائدها طاووزند للاستسلام ونجاح خطة فون در كولتز .

استسلم القائد البريطاني **طاووزند** مع قواته في ٢٩ / نيسان / ١٩١٦ بعد حصار الكوت الذي دام لمدة **خمسة أشهر** تكبدوا فيها البريطانيون خسائر بشرية ومادية كبيرة .

احتلال مدينة بغداد

ستاني مود : وهو الجنرال والقائد العام للقوات البريطانية في العراق التي عينته بريطانية لاحتلال مدينة بغداد بعد حصار الكوت واستسلام القوات البريطانية في الكوت والذي تمكن من احتلال بغداد بعد معركة في منطقة تل اسود في ١٠ / اذار / ١٩١٦ م

س / ماهي الخطة التي وضعها ستاني مود لاحتلال مدينة بغداد ؟

١- التفاف القوات البريطانية على القوات العثمانية في بعض المواقع العسكرية .

٢- تفوق المعدات العسكرية البريطانية

دخل الجنرال البريطاني **ستاني مود** مدينة بغداد يوم **١١ / آذار** وأذاع فيها بيانه لكسب ود العراقيين .

احتلال الموصل وهدنة مودروس

هدنة مودروس : وهي الهدنة التي أعلنت بين دول الوفاق الودي ودول الوسط في الحرب العالمية الاولى يوم

(٣١ / تشرين الثاني / ١٩١٨ م) لإيقاف كافة العمليات العسكرية .

مارشال : وهو الجنرال البريطاني الذي وجه اذار للقوات العثمانية في الموصل لتسليم المدينة ولعدم تمكن القوات العثمانية في الصمود بوجه البريطانيين انسحب العثمانيون الى بلاد الاناضول ودخل البريطانيون مدينه الموصل في

(١٠ / تشرين الثاني / ١٩١٨ م) .

قام الجنرال **مارشال** قائد القوات البريطانية بتوجيه اذار الى القوات العثمانية بوجوب تسليم مدينة الموصل



الانتداب البريطاني على العراق

بعد نهاية الحرب العالمية الاولى تهيئة الفرصة للدول الاوربية الكبرى لتحقيق أطماعهم الاستعمارية في الاستيلاء على ممتلكات الدولتين العثمانية والألمانية ، وضماها بوصفها مستعمرات

وهذا يناقض وعود الحلفاء للشعوب بحقهم بتقرير المصير ، لاسيما وعود الرئيس الامريكي وودروولسن ووعود بريطانية وفرنسا خلال الحرب العالمية الاولى .

قررت بريطانية وفرنسا المضيء بتحقيق اهدافها الاستعمارية تحت مسمى جديد يشبه الاحتلال في أهدافه ومضامينها وهو

(**نظام الانتداب**) والذي أقترح هذا النظام هو الجنرال (**سمطس**) من اتحاد جنوب أفريقيا وكان يهدف من خلاله الى ايجاد نظام جديد للسيطرة الاستعمارية .

نظام الانتداب : وهو نوع من انواع الاستعمار يشبه الاحتلال في اهدافه ومضامينه اقترحه الجنرال البريطاني سمطس لوضع الشعوب التي انفصلت عن الدولة العثمانية تحت أشرف دولة كبرى .

سمطس : وهو الجنرال البريطاني وحاكم اتحاد جنوب افريقيا الذي اقترح نظام الانتداب الذي يهدف الى ايجاد نوع جديد للسيطرة الاستعمارية .

وقد تضمنت **المادة ٢٢** من ميثاق عصبة الأمم الذي نر في (٢٨ / حزيران / ١٩١٩) وعليه عقد الحلفاء مؤتمر (**سان ريمو**) في ايطاليا يوم (٢٤ / نيسان / ١٩٢٠) الذي قسموا فيه الانتدابات فيما بينهم دون أخذ رأي الشعوب وموافقتهم وتم فرض الانتداب البريطاني على العراق وشرق الاردن وفلسطين ، والانتداب الفرنسي على سوريا ولبنان

وفي (١٠ / آب / ١٩٢٠) وقع الحلفاء مع الدولة العثمانية (**معاهدة سيفر**) وفقاً لمقررات سان ريمو التي اعترفت فيها الدولة العثمانية بانفصال العراق عنها .

مؤتمر سان ريمو : وهو المؤتمر الذي عقده الحلفاء في مدينة سان ريمو الايطالية في (٢٤ / نيسان / ١٩٢٠) والذي اتفق فيه الحلفاء على توزيع الانتدابات بينهم دون أخذ رأي الشعوب وموافقتهم .

معاهدة سيفر : وهي المعاهدة التي وقعتها الدولة العثمانية مع الحلفاء في (١٠ / اب / ١٩٢٠) وفيها اعترفت الدولة العثمانية بانفصال العراق عنها ووضعها تحت الانتداب البريطاني .

س / ماهي اهم بنود لائحة الانتداب على العراق التي قدمتها بريطانية الى عصبة الأمم ؟

- ١- وضع قانون اساسي للعراق يعرض على مجلس عصبة الأمم للمصادقة عليه خلال ثلاث سنوات
- ٢- احتفاظ بريطانية بقوة عسكرية في العراق
- ٣- اعطت بريطانية لنفسها الحق بإدارة علاقات العراق الخارجية
- ٤- تعهدت بريطانية بالحفاظ على الاراضي العراقية وان لا تتنازل عنها
- ٥- الغاء الامتيازات الاجنبية في العراق
- ٦- تأسيس نظام قضائي يضمن مصالح الاجانب
- ٧- ان تمنع بريطانية اي تميز بين رعاية اعضاء عصبة الأمم
- ٨- لا يمنع الانتداب الدولة المنتدبة تأسيس حكومة مستقلة ادارياً



س // بعد اعلان الانتداب البريطاني على العراق ايقن رجال الحركات الوطنية ضرورة تحشيد الجهود والمواقف لمواجهة هذا النوع الجديد من الاستعمار ونيل الحرية والاستقلال بالقوة ؟ نقش هذه العبارة

بدأوا بعقد الاجتماعات لتداول الاوضاع السياسية للبلاد لنيل الحرية والاستقلال وعقدوا اجتماع في النصف من شعبان في مدينة كربلاء (٣ / أيار / ١٩٢٠) والتي كان لها الاثر الكبير في تاريخ الحركة الوطنية لاسيما خطبة المرجعية الدينية للشيخ محمد تقي الحائري ، التي اكدت امكانية الشعب للقيام بثورة مسلحة في حال عدم استجابة بريطانية لمطالبهم الوطنية العادلة لنيل الحرية والاستقلال .

س// ما هو دور الجمعيات السرية لاسيما جمعيتي العهد العراقي و حرس الاستقلال في الحركة الوطنية لمواجهة بريطانية و المطالبة بالاستقلال الكامل ؟

قامت جمعية حرس الاستقلال في بغداد بالاتصال برجال الحركات الوطنية العراقية في أغلب أنحاء البلاد و عقدت الكثير من الاجتماعات السرية معهم لاسيما اجتماع ٢٦ آذار ١٩٢٠ م في بغداد في جامع الحيدر خانة الذي شهد حماساً منقطع النظير في الدعوة إلى الحرية و الاستقلال و لاسيما خطب الشيخ محمد البصير الحماسية و نودي بشاعر ثورة العشرين و تقرر في ذلك الاجتماع اختيار خمسة عشر مندوب منهم للقاء **أرنولد ويلسون** لتقديم مطالب العراقيين إلى الحكومة البريطانية كما جرت اجتماعات كثيرة في مدينة النجف الأشرف كانت تعقد في بيوت رجالات الحركة الوطنية أو في الجوامع إذ تلقى الخطب و القصائد الوطنية و الحماسية و لاسيما اجتماع ٢ حزيران ١٩٢٠ م و المطالبة باستقلال البلاد و إقامة حكومة عربية تحكمه

ثورة العشرين في العراق

اندلعت ثورة العشرين في العراق (٣٠ / حزيران / ١٩٢٠) وتعد حدثاً مهماً في تاريخ العراق المعاصر لانها مثله مرحلة تاريخية من نضال الشعب ضد المحتل لنيل الحرية والاستقلال

س// عدد الاسباب الداخلية لثورة العشرين في العراق؟

- ١- تدهور الاقتصاد العراقي، الذي شمل الزراعة والصناعة والتجارة، فقد تركت الحرب العالمية الأولى اثاراً سلبية على الحياة الاقتصادية في العراق،
- ٢- فرض قوات الاحتلال البريطاني الضرائب الباهظة التي اثقلت كاهل الشعب العراقي،
- ٣- سوء الإدارة العسكرية البريطانية، إذ اتبعت سياسة الشدة والضغط على سكان الارياف والمدن واعمال السخرة، واجبار المزارعين والفلاحين على العمل بالقوة تحت مسمى المجهود الحربي،
- ٤- أساليب الإدارة الحديثة السيئة التي اتبعتها سلطات الاحتلال البريطاني في العراق، التي نفذها ضباط سياسيون واداريون وموظفون هنود تجاوزت أعدادهم المئات، مقابل الاعداد القليلة جداً للعراقيين.
- ٥- اتضاح معالم السياسة البريطانية في العراق وشعور العراقيين بخيبة الامل، إذ عملت على تحويل العراق الى جزء من الإمبراطورية البريطانية
- ٦- دور رجال الدين في ايقاظ الشعور الوطني لأبناء البلد وتحشيد الجهود للمطالبة بالحقوق المشروعة للعراقيين،
- ٧- اعتقال الشخصيات الوطنية العراقية ونفيها الى الخارج والتي اتبعتها سلطات الاحتلال البريطاني

س// أين تأسست جمعية العهد ، ومن هم أبرز رجالاتها ، وما منهاجها ؟

هي جمعية سرية أسست في دمشق عام ١٩١٩ م،

ومن ابرز رجالاتها ياسين الهاشمي، جميل المدفعي ، جعفر العسكري، نوري السعيد، ومولود مخلص.

وقد اشتمل منهاجها على المطالبة باستقلال العراق ضمن حدوده الطبيعية، وأن يكون نظام الحكم فيه ملكياً دستورياً يترأسه احد انجال الشريف حسين بن علي(ملك الحجاز)، وكان للجمعية فرعان في بغداد والبصرة

س// أين تأسست جمعية حرس الاستقلال ، ومن هم أبرز رجالاتها ، وما منهاجها ؟

وهي جمعية سرية، تأسست في اواخر شهر شباط عام ١٩١٩ م،

كان من ابرز رجالاتها علي آل بزركان، ناجي شوكت وعبد المهدي المنتفكي وآخرين،

طالبت بالاستقلال التام للبلاد، وإقامة حكم ملكي دستوري يتولاه أحد أنجال الشريف حسين، وكان للجمعية فروع في بغداد والكاظمية والشامية والنجف الاشرف والحلة وبعقوبة

العوامل الخارجية لثورة العشرين

١- تأثيرات الثورة العربية عام ١٩١٦ م في الحجاز بقيادة ملكها الشريف حسين بن علي، واتضح زيف الوعود البريطانية بمنح العرب الحرية والاستقلال التام.

٢- تأثيرات الثورة المصرية عام ١٩١٩ م في اذكاء وتأجيج الشعور الوطني للجماهير العراقية

٣- قيام دولة سوريا الملكية في تموز ١٩٢٠ م برئاسة الأمير فيصل بن الحسين.

٤- الوعود التي اطلقها المستعمرون من المنتصرين في الحرب العالمية الأولى، التي اكدوا فيها منح الحرية والاستقلال للشعوب، وحقها في تقرير المصير وإقامة حكومات مستقلة فيها وهي:

أ - اعلان الجنرال مود قائد الجيش البريطاني، الذي احتل بغداد ، بانهم جاءوا محررين لا فاتحين.

ب - مبادئ الرئيس الأمريكي و드로 ولسون التي اكدت حق الشعوب في تقرير مصيرها



وقائع الثورة (٣٠ / حزيران / ١٩٢٠)

أولاً : الاحداث التي مهدت للثورة، والتي جرت في مدن بغداد و كربلاء والنجف الاشرف وتلعفر والموصل.

ثانياً : تتمثل بالثورة المسلحة التي انطلقت في **٣٠ حزيران عام ١٩٢٠ م** ، بأطلاق عشيرة **الظوالم** سراح شيخها **شعلان أبو الجون** الذي اعتقله البريطانيون في سراي (مخفر) الرميثة ثم عمت منطقة الفرات الاوسط.

ثالثاً : انتشار الثورة في مناطق العراق الاخرى، مثل محافظة الانبار وكرديستان العراق والتي كان لها دوراً فاعلاً في الثورة. لقد امتدت الثورة من جنوب العراق الى شماله، واستمرت خمسة أشهر

شعلان أبو الجون : وهو شيخ عشائر الظوالم الذي اعتقله البريطانيون في سراي (مخفر) الرميثة فقام ابناء قبليته بأطلاق صراحة بعد محاصرة السجن واطلقت شرارة ثورة العشرين •

أهم المعارك التي شهدتها الثورة

استولى الثوار على أبي صخير والشامية والديوانية، وسيطروا على مدن كربلاء والنجف الاشرف، ووقعت المعركة المهمة بين الثوار والقوات البريطانية في **منطقة الرستمية** والتي تقع بين الحلة والكفل، وفيها جرت (**معركة الرارنجية**) التي انتصر فيها الثوار على القوات البريطانية، وكانت خسائر القوات البريطانية كبيرة في عدد القتلى، فضلاً عن استيلاء الثوار على عدد من الغنائم والاعتدة، علماً ان سلاح الثوار كان بسيطاً تمثل بالفالة والمكوار والخناجر وعدد قليل من البنادق. كما غنم الثوار مدفعاً متطوراً وقاموا بسحبه الى مدينة الكفل والذي استعملوه في تدمير الباخرة (**فاير فلاين**) واغراقها

وتكمن أهمية هذه المعركة فضلاً عن الخسائر البشرية والغنائم التي حصل عليها الثوار، الى أنها اثارت الحماس بين رجال العشائر في الانضمام للثورة لتعلن انضمامها للقتال الى جانب الثوار.

كما امتدت شرارة الثورة الى مناطق أخرى، إذ سيطر الثوار على مدينة السماوة بعد خوضهم معارك عنيفة ضد الاحتلال البريطاني، وسيطروا على مدينة الدغارة ، كما امتدت نيران الثورة الى مناطق المنتفك كقلعة سكر والشرطة وسوق الشيوخ،

س// عرف معركة الرارنجية ، ثم بين أهميتها ؟

معركة الرارنجية : وهي المعركة التي حدثت بين الثوار العراقيين وقوات الاحتلال البريطاني في ثورة العشرين عند منطقة الرستمية بين الحلة والكفل استطاع من خلالها الثوار تكبيد القوات البريطانية خسائر كبيرة بالأرواح والمعدات

اهمية المعركة :

- ١- انتصر فيها الثوار وكانت خسائر القوات البريطانية كبيرة في عدد القتلى، و استيلاء الثوار على عدد من الغنائم والاعتدة، و غنم الثوار مدفعاً متطوراً وقاموا بسحبه الى مدينة الكفل والذي استعملوه في تدمير الباخرة (**فاير فلاين**) واغراقها
- ٢- أنها اثارت الحماس بين رجال العشائر في الانضمام للثورة لتعلن انضمامها للقتال الى جانب الثوار.

فاير فلاين : وهي الباخرة البريطانية التي اغرقها الثوار العراقيين بالمدفع الذي غنموه من البريطاني اثناء مجيء الباخرة الى الكوفة لمساندة القوات البريطانية المحاصرة •

١- الثورة في ديالى :

امتدت الثورة الى مدن ديالى وقصباتها، ولاسيما بعقوبة وديلتاوه (الخالص) ومندلي، وشهربان (المقدادية)، وسيطرت عشائر العبيد على بلدة بعقوبة وشهربان بعد ان قتلوا الحاكم البريطاني فيها.

٢- الثورة في غرب العراق :

امتدت الثورة الى المناطق الغربية من العراق، ولاسيما لواء الدليم (محافظة الانبار حالياً) فقد كان الشيخ ضاري المحمود رئيس قبيلة زوبع على رأس الثائرين، والذي رفض في اثناء مقابلته مع **الكولونيل (لجمن)** حاكم لواء الدليم في خان النقطة تنفيذ طلبه في حماية الطريق بين بغداد والرمادي، مما أدى الى غضب لجمن واهانتة الشيخ ضاري، الأمر الذي دفع ولديه خميس وسليمان الى قتله. ثم امتدت لتشمل مناطق من الفلوجة الى عنه وحتى اخر نقطة على الحدود العراقية - السورية، ودارت معارك أدت الى قطع الطرق بين بغداد والرمادي ومحاصرة القوات البريطانية فيها، فدفع ذلك الحكومة البريطانية الى ارسال ثلاث بوآخر لإنقاذ قواتها المحاصرة، وقد هاجمها الثوار في (آب) واستطاعوا اضرام النار في إحداها وتعطيل أخرى.

ضاري المحمود : هو شيخ قبيلة زوبع الذي رفض طلب لجمن الحاكم البريطاني في لواء الدليم في تأمين الطريق بين بغداد والرمادي مما دفع لإهانة الشيخ ضاري مما اثار ابنائه سليمان وخنجر لقتل لجمن

٣- الثورة في كردستان العراق :

كان للكرد دور بارز في احداث الثورة، ففي كفري منع فلاحو المدينة وصول الامدادات العسكرية البريطانية الى القوات الموجودة هناك، كما قاموا بأنزال العلم البريطاني معلنين انتهاء الحكم البريطاني وإقامة حكومة كردية مؤقتة فيها.

أما في أربيل فقد قام الثوار بقطع الاتصال بين مدينتهم ومدينة كويسنجق تمهيداً لإقامة حكومة محلية فيها، كما امتدت الثورة الى مناطق خوشناو وراوندوز ودارت معارك عديدة تكبدت فيها قوات الاحتلال البريطاني خسائر كبيرة، ومن بين تلك المعارك المعركة التي جرت بالقرب من رافد الزاب الكبير في ١٥ (ايلول)

صحافة الثورة

س// ((رأى بعض رجال الثورة من النخبة المثقفة ضرورة ان تكون للثورة صحافة ناطقة باسمها)) ؟ ناقش ذلك

فأسس لأجل ذلك الشيخ محمد باقر الشبيبي (**جريدة الفرات**)، إذ صدر عددها الاول في ١٩٢٠ / ٩ / ٥ (م)، واستمرت بالصدور لغاية العدد الخامس ثم توقفت في / ١٥ (ايلول ١٩٢٠ م).

ثم اصدر محمد عبد الحسين الكاظمي (**جريدة الاستقلال**)، في (الاول من تشرين الاول عام ١٩٢٠) ، وقد صدر منها ثمانية اعداد ثم توقفت، وبذلك يكون مجموع ما صدر من الجريدتين (**١٣ عدداً**)

وكانت مهمة الجريدتين تقوم على نشر وقائع واحداث المعارك في مناطق العراق المختلفة،

س// ماهي مميزات ثورة العشرين في العراق عددها ؟

- ١- وَحَدَّت كلمة العراقيين من الجنوب الى الشمال، وأكدت عملياً قيمة اتحادهم في تحقيق هدف الحرية والاستقلال
- ٢- كشفت الثورة عن نضج سياسي ووطني من خلال بياناتها ومراسلاتها وحتى ادارتها
- ٣- لم يغفل الثوار أهمية العمل السياسي قبل بدء الثورة، والذي تمثل برفع المذكرات التي تؤكد أهدافهم، والوفود التي شكلوها للتفاوض مع المحتل
- ٤- انتهت الحرب عسكرياً بالنصر لقوات الاحتلال البريطاني، الا انها بالمقابل نجحت سياسياً لصالح الثوار

س// عدد نتائج ثورة العشرين في العراق ؟

- ١- تعد ثورة العشرين أحد اهم الأسباب الرئيسة في تأسيس الدولة العراقية الحديثة، والتي تمثلت في تشكيل الحكومة العراقية المؤقتة في (تشرين الأول ١٩٢٠ م / .)
- ٢- لقد اثبتت عملياً فشل الإدارة البريطانية من خلال سيطرتها المباشرة على البلاد، على الرغم من أسلحتها الحديثة في القضاء على مقاومة الشعب العراقي وقهره.
- ٣- اثبتت أهمية التلاحم والوحدة الوطنية في مواجهة المحن والصعاب بين ابناء الشعب العراقي.
- ٤- اثبتت وحدة الشعب بكل فئاته وقومياته ومذاهبه، ولاسيما بعد تحول الصراعات القبلية الى الوحدة في مقاتلة العدو المشترك يجمعهم حب الوطن والتضحية في سبيله.
- ٥- كشفت الثورة عن نضج سياسي ووطني واضح عبرت عنه الصحافة الناطقة باسم الثورة
- ٦- اضعفت الثورة الى حد كبير مركز بريطانيا بوصفها دولة محتلة في منطقة الشرق الأدنى عامة.
- ٧- أصبحت هذه الثورة نبراساً لجميع الثورات الوطنية والقومية في البلدان العربية فيما بعد.
- ٨- تمكن قوات الاحتلال إعادة احتلال المدن والمناطق التي حررها الثوار بفضل قوة آلتهم الحربية وجيوشهم المتطورة من حيث العدد والعدة

س// علل مايتي ؟**١ - اثبتت ثورة العشرين وحدة الشعب بكل فئاته وقومياته ومذاهبه**

الجواب / لانها حولت الصراعات القبلية الى الوحدة في مقاتلة العدو المشترك يجمعهم حب الوطن

٢ - تمكن القوات البريطانية من إعادة احتلال المدن والمناطق التي حررها الثوار

الجواب/ وذلك بفضل قوة آلتهم الحربية وجيوشهم المتطورة من حيث العدد والعدة



نشأة الدولة العراقية المعاصرة :

١- مؤتمر القاهرة

س// وضح أهم ما جاء في البلاغ البريطاني الفرنسي في (٧ / تشرين الثاني / ١٩١٨) ؟

أن هدف الدولتين في فرض سيطرتهم هو تحرير الشعوب التي خضعت تحت الحكم العثماني، ومساعدتها على تأسيس حكومات وطنية ديمقراطية في كل من سوريا والعراق، تستمد شرعيتها من اختيار الشعب لها.

س// ماهي الاسباب التي دفعت بريطانية لترشيح الامير فيصل بن الحسين لتولي عرش العراق ؟

- ١- ان الامير فيصل بن الحسين من الشخصيات المعروفة والمناسبة لإدارة دولة عربية حديثة،
- ٢- ان شخصية الامير فيصل بن الحسين معروفة ومقبولة في العراق، لأنه حارب مع الضباط العراقيين في الثورة العربية عام ١٩١٦م في الحجاز.
- ٣- تحسين سمعة بريطانيا، ولاسيما بعد نقضها وعودها وعهودها مع العرب لمساعدتهم على نيل الحرية والاستقلال
- ٤- اسقطت فرنسا حكومة الامير فيصل بن الحسين في سوريا عام ١٩٢٠ م في معركة ميسلون التي شارك فيها العراقيون
- ٥- كان الامير فيصل بن الحسين بمستوى مقبول اكثر مقارنة بالمرشحين الآخرين للعرش.

مؤتمر القاهرة : وهو المؤتمر الذي عقد في (١٢ / آذار / ١٩٢١) وحضره وفد من العراق برئاسة برسي كوكس المندوب السامي البريطاني، تقرر فيه ترشيح الامير فيصل بن الحسين لعرش العراق

كورنواليس : وهو الكولونيل البريطاني الذي عينته بريطانية للتباحث مع الامير فيصل لعرض عرش العراق عليه و اقناعه في (١٧ / كانون الأول / ١٩٢٠)

ونستون تشرشل : وهو وزير المستعمرات البريطانية الذي دعا لعقد مؤتمر القاهرة لبحث الوجود البريطاني في العراق، ومستقبل العلاقات مع العراق،

برسي كوكس : وهو المندوب السامي البريطاني الذي ترأس وفد العراق في مؤتمر القاهرة والذي تقرر فيه ترشيح الامير فيصل بن الحسين لعرش العراق

معركة ميسلون : وهي المعركة التي حدثت بين الفرنسيين و الجيش العربي السوري عام ١٩٢٠ والتي كان العراقيين العمود الفقري لها ، وتمكنت فرنسا من اسقاط حكومة الامير فيصل في سوريا

توجه الامير **فيصل** من جدة الى ميناء البصرة يرافقه عدد من رجاله المقربين، إذ وصل في (٢٣ / حزيران / ١٩٢١) وفيه استقبل الامير استقبالا حاراً في جميع مدن العراق

علل// كانت شخصية الامير فيصل بن الحسين معروفة ومقبولة في العراق

الجواب/ لأنه حارب مع الضباط العراقيين في الثورة العربية عام ١٩١٦ م في الحجاز

٢- الحكومة العراقية المؤقتة واختيار الامير فيصل بن الحسين ملكاً دستورياً

وصل برسي كوكس المندوب السامي البريطاني على العراق في (١١/ تشرين الثاني / ١٩٢٠) وبعد مداولاته ومشاوراته مع عدد من الشخصيات العراقية، في (٢٥/ تشرين الاول / ١٩٢٠)

تم اختيار السيد **عبد الرحمن النقيب** (الكيلاني) نقيب اشراف بغداد لتولي **رئاسة الحكومة العراقية المؤقتة**، ومعه ثمانية وزراء ومع كل وزير مستشار بريطاني مع اثني عشر وزيراً بلا وزارة،

عبد الرحمن النقيب : وهو نقيب اشراف بغداد الذي اختير لتولي رئاسة الحكومة العراقية المؤقتة في (٢٥ / تشرين الاول / ١٩٢٠) وأوكلت اليه مهمة حكم العراق تحت اشراف بريطانية حتى يتم انتخاب المجلس النيابي .

س// ماهي اهم اعمال الحكومة المؤقتة في العراق ؟

اعمال هذه الحكومة اقتصرت من الناحية الادارية على انشاء الدواوين الرسمية وإشغال الوظائف الحكومية، وقسمت العراق ادارياً الى عشرة ألوية، والألوية الى اقصية، والاقصية الى نواحي، وعينت لكل لواء متصرفاً، وجعلت الى جانبه مستشاراً بريطانياً، كما جعلت لكل قضاء قائم مقام وعلى كل ناحية مديراً.

س// تكلم عن مهام الحكومة العراقية المؤقتة ؟

كانت مهمة الحكومة مؤقتة حكم العراق بإشراف البريطانيين، الى ان يتم انتخاب مجلس نيابي يضطلع بمهمة وضع دستور للبلاد. وفي (١١/ تموز / ١٩٢١) دعا السيد عبد الرحمن النقيب رئيس الوزراء الى اجتماع المجلس، إذ اتخذ قراراً بالأجماع بمناداة الامير فيصل بن الحسين ملكاً على العراق وان تكون حكومته (حكومة دستورية نيابية ديمقراطية مقيدة بقانون)

س// تكلم عن تتويج فيصل بن الحسين ملكاً على العراق ؟

توج الامير **فيصل بن الحسين** ملكاً على العراق في (٢٣ / آب / ١٩٢١) وقد أقيم احتفال كبير حضره كبار المسؤولين البريطانيين ، وأعضاء الحكومة المؤقتة، وشيوخ العشائر ووجهاء المدن ، وأقيم الاحتفال في ساحة برج الساعة في القشلة، ألقى الملك فيصل كلمة شكر في بدايتها للشعب العراقي الذي أنتخبه ومنحه الثقة، ووعده بالسعي لبناء البلاد وتطورها وتقديمها،

س// ماهي المهام التي واجهت الملك فيصل بعد تتويجه ملكاً على العراق؟

١- انتهاء الانتداب البريطاني على العراق، وتخليصه من السيطرة الأجنبية البريطانية، واقامة حكم وطني من ابنائه

٢- الحفاظ على ولاية الموصل جزءاً لا يتجزأ من العراق، والوقوف بوجه الخطر التركي المطالب بها آنذاك.

٣- تشكيل حكومة وطنية دستورية، فضلاً عن العمل على تطوير البلاد من النواحي الاقتصادية والاجتماعية وحتى الثقافية

٣- المعاهدة العراقية - البريطانية الاولى عام ١٩٢٢

كان على الملك فيصل بعد تتويجه القيام بمهام عدة، أولها واستناداً الى المفاوضات التي جرت معه في لندن قبل ترشيحه للعرش، عقد معاهدة ولاء وتحالف بين الحكومتين العراقية والبريطانية، كانت الحكومة العراقية ترغب في هذه المعاهدة

س// ما أسباب رغبة الحكومة العراقية في عقد معاهدة ١٩٢٢ مع بريطانية ؟

- ١- لانها ستنظم العلاقات بين البلدين وانها ستحل محل الانتداب، لأنها تعقد بين دولتين مستقلتين ومتكافئتين.
- ٢- تحفظ للملك فيصل وحكومته جميع السلطات والمهام، لأنها تؤمن له الظهور بمظهر الملك المستقل وان بريطانيا هي حليف

س// ماهي وجهة نظر بريطانية من عقد معاهدة ١٩٢٢ مع العراق ؟

- ١ - ارادت بريطانيا الحفاظ على جميع الامتيازات التي منحها لها صك الانتداب.
- ٢ - لتمرير الانتداب وتنفيذه بكل بنوده، وضمان المصالح البريطانية فيه بوصفه دولة محتلة، لكن بأقل كلفة وأقل خسائر
- ٣ - جعلها وسيلة للسيطرة والاشراف المباشر على البلاد، مع عدم تغيير في موقفها والتزاماتها امام عصبة الأمم.

س// كانت طبيعة العلاقات بين الحكومتين البريطانية والعراقية صعبة ومعقدة ، عند عقد المعاهدة الاولى بين العراق وبريطانية عام ١٩٢٢ ؟ ناقش ذلك

وذلك لاختلاف وجهتي نظر الحكومتين حول بنودها، إذ كان موقف الحكومة العراقية و الملك فيصل والشعب بكل فئاته، برفض الانتداب البريطاني رفضاً قاطعاً، ولابد من اجراء التعديلات عليها بما يضمن السيادة الوطنية الكاملة للعراق، لذلك توقفت المفاوضات لأكثر من مرة، اتفق عدد من رجالات الحركة الوطنية وزعماء عشائر الفرات الاوسط على إرسال البرقيات والرسائل الى الملك فيصل برفض الانتداب وأية سلطة اجنبية على الحكومة العراقية، والعمل على اسقاط أية وزارة تصادق على معاهدة لا تتوافق مع الاستقلال التام، وارسالهم برقية مماثلة الى المندوب السامي البريطاني. وأمام تلك الضغوطات قدمت الحكومة استقالته في (١٩ / آب / ١٩٢٢) التي قبلها الملك فيصل دون تردد،

علل// تأجلت مفاوضات معاهد ١٩٢٢ بين العراق وبريطانية لأكثر من مرة .

الجواب // لان الحكومة العراقية وعلى رأسها الملك فيصل والشعب ، رفض الانتداب البريطاني رفضاً قاطعاً وطلب التعديل عليها بما يضمن السيادة الوطنية العراقية

س // ماهي اجراءات بريطانية في تمرير معاهدة عام ١٩٢٢ وتوقيعها ؟

أعادة تشكيل حكومة ثالثة برئاسة عبد الرحمن النقيب، أذ أوعز المندوب السامي البريطاني إلى الملك فيصل باختيار النقيب لتشكيل الوزارة الجديدة، فأضطر الملك فيصل للموافقة، وعليه دعا الملك عبد الرحمن النقيب لتشكيل وزارة جديدة في (٢ / تشرين الاول / ١٩٢٢) و مصادقة مجلس الوزراء على المعاهدة في (١٠ / تشرين الاول) على ان تكون نافذة بعد مصادقة المجلس التأسيسي عليها الذي سيشكل لاحقاً وقد نشرت نصوصها في لندن وبغداد.

٤- المجلس التأسيسي العراقي

ماطلت الحكومة البريطانية كثيراً في عقد المؤتمر، الذي اطلق عليه رسمياً اسم (المجلس التأسيسي العراقي)، وقد تقرر تأجيله الى حين تشكيل الحكومة العراقية المؤقتة، وتتويج الامير فيصل بن الحسين ملكاً على العراق، وتوقيع المعاهدة العراقية البريطانية لعام ١٩٢٢ م. وعليه عملت بريطانيا الى السعي لأجراء انتخابات المجلس التأسيسي بطريقة تؤمن مجيء اكثرية مؤيدة ومساندة لسياستها واهدافها في المجلس ومن ثم تصديق المعاهدة. وكان ذلك واضحاً لرجالات الحركة الوطنية العراقية التي قررت مقاطعة الانتخابات، التي اعلن عن بدئها في (١٠ / تشرين الاول / ١٩٢٢) اي بعد توقيع المعاهدة من الحكومة العراقية، واضطرار الملك فيصل الاول لذلك للحفاظ على وحدة العراق وكيانه السياسي من التهديدات البريطانية.

علل // رغم الرفض الشعبي للمعاهدة العراقية البريطانية عام ١٩٢٢ اضطّر الملك فيصل لتوقيعها .

الجواب // وذلك من اجل الحفاظ على وحدة العراق وكيانه السياسي من التهديدات البريطانية

س// ما هو الاجراء الذي قامت بها بريطانيا لتهدئة الاوضاع بعد المقاطعة الشاملة لانتخابات المجلس التأسيسي ؟

١- اعفاء المندوب السامي برسي كوكس وتعيين هنري دوبس بدلاً عنه.

٢- اعادة بعض المبعدين والمنفيين السياسيين من رجالات الحركة الوطنية وعلماء الدين الى العراق.

س// متى باشرت الحكومة العراقية انتخابات المجلس التأسيسي ، ومتى تم افتتاح المجلس ؟

باشرت الحكومة اجراء الانتخابات في (١٢ / تموز / ١٩٢٣) وأفتتح المجلس التأسيسي العراقي الاول ، في (٢٧ / آذار / ١٩٢٤) واعلن هذا اليوم عطلة رسمية

س// ماهي مهام المجلس التأسيسي العراقي ؟

١- مناقشة المعاهدة العراقية البريطانية لعام ١٩٢٢ م و تصديقها.

٢- تشريع القانون الأساسي (الدستور) لضمان حقوق الأفراد و تثبيت سياسة الدولة الداخلية.

٣- تشريع قانون انتخابات مجلس النواب الذي يراقب سياسة الحكومة وأعمالها.

علل // عند تحديد مهمات المجلس التأسيسي ، اعطيت الأولوية للمعاهدة وتصديقها بدلاً من مناقشة تشريع دستور البلاد

الجواب // لان البريطانيين سعوا الى جعل الدستور مقيداً بالمعاهدة وبنودها، وكان يمثل وسيلة للضغط على أعضاء المجلس التأسيسي

س// ماهي الشروط التي وضعها الاعضاء المجلس التأسيسي الذين صوتوا لتصديق معاهدة ١٩٢٢ ؟

اشترط الذين صوتوا على المعاهدة على بقاء ولاية الموصل (المتنازع عليها بين العراق وتركيا) جزءاً لايتجزء من العراق، وألا فان المعاهدة ملغاة.

٥- القانون الاساسي (الدستور)

س// كيف تم وضع القانون الاساسي (الدستور) في العراق؟

شكلت لجنتان عراقية وبريطانية لوضع صيغة القانون الاساسي، وبعدها احيلت اللائحة الى المجلس التأسيسي لمناقشتها، إذ استمرت مناقشتها بنحو شهر للمدة من (١٤ / حزيران - ١٠ / تموز ١٩٢٤) وقد ضمت اللائحة مقدمة و ١٢٣ (مادة) موزعة على عشرة أبواب اشتملت على (حقوق الشعب، الملك و حقوقه، السلطة التشريعية، الوزارة وكيفية تأليفها وواجباتها، والسلطة القضائية، والامور المالية، وادارة الالوية (المحافظات)

س// متى تمت المصادقة على الدستور ، والى متى ظل نافذاً ؟

قام المجلس التأسيسي بالمصادقة على الدستور في (٢٠ / تموز / ١٩٢٤) بالإجماع، بعدها قامت الحكومة بنشرة في (آذار / ١٩٢٥ م)، وجرى احتفالات رسمية بهذه المناسبة، وظل نافذاً حتى قيام ثورة (١٤ / تموز / ١٩٥٨)

٦- المعاهدة العراقية - البريطانية عام ١٩٣٠

اخبارت بريطانيا الملك فيصل الاول بانها عازمه على انتهاء الانتداب و منح العراق استقلاله التام، و ترشيح العراق لعضوية عصبة الامم بوصفه دولة مستقلة ذات سيادة، وانها عازمة فعلاً على بدء المفاوضات معه لعقد معاهدة جديدة.

ولذلك قامت الحكومة العراقية وعلى رأسها عبد المحسن السعدون بتشكيل وزارته الرابعة في (آب ١٩٢٩ م)، وتشكيل لجنة وزارية لمفاوضة الجانب البريطاني على المعاهدة الجديدة، إلا أن المفاوضات ومنذ بدايتها تلكأت بسبب موقف الجانب البريطاني الذي كان لا يريد تغييراً أساسياً على الامتيازات السابقة التي تضمنتها المعاهدة السابقة وتعديلاتها، وإن الجانب العراقي سوف يقبل بأية ضغوطات من الجانب البريطاني، لان ترشيحه لعضوية عصبة الأمم مرتبط بتوقيع المعاهدة الجديدة، في حين كان الجانب العراقي يتطلع الى عقد معاهدة تكون فيها طبيعة العلاقات بين البلدين على أساس التكافؤ وضمان استقلال العراق التام.

وبعد مجيء نوري السعيد رئيساً للوزراء اعلن عن استئناف المفاوضات من جديد ف ، التي انتهت بتوقيع المعاهدة بين الحكومتين في (٣٠ / حزيران / ١٩٣٠)

علل// تلكأ مفاوضات معاهدة ١٩٣٠ بين العراق وبريطانية منذ بدايتها .

الجواب // لان بريطانيا كانت لا تريد تغييراً أساسياً على الامتيازات التي تضمنتها المعاهدة السابقة وتعديلاتها وإن العراقي سوف يقبل بأية ضغوطات من الجانب البريطاني، لان ترشيحه لعضوية عصبة الأمم مرتبط بتوقيع المعاهدة الجديدة .

س// ماهي الامتيازات التي منحت لبريطانية في معاهدة ١٩٣٠ ؟

١- يقدم العراق المساعدات العسكرية الى بريطانيا في حال دخولها الحرب

٢- منح بريطانيا امتيازات قضائية ومالية ودبلوماسية، تشمل اعفاء القوات البريطانية في العراق من الضرائب،

٣- ستوضع المعاهدة موضع التنفيذ عند دخول العراق عضواً في عصبة الأمم

٤- ان تستمر لمدة خمس وعشرين سنة بدءاً من دخولها حيز التنفيذ



٧- دخول العراق عضوية عصبة الأمم

٣ / تشرين الاول / ١٩٣٠ : وهو تاريخ قبول العراق عضواً في عصبة الأمم والاعتراف به دولة مستقلة فاصبح عيداً وطنياً ورفع العلم العراقي في مقر عصبة الامم في جنيف (سويسرا) وعين نوري السعيد ممثلاً عن العراق وأول مندوب عربي لعصبة الامم .

س// ماهي الشروط الواجب توفرها لأي دولة تريد انهاء الانتداب ؟

١- وجود حكومة مستقلة وإدارة قادرة على تسيير أمور الدولة بصورة منتظمة.

٢- أن تكون قادرة على حفظ وحدتها واستقلالها.

٣- أن تكون الدولة قادرة على حفظ الأمن في كل أنحاءها.

٤- أن تكون لدى الدولة مصادر مالية كافية لسد النفقات الحكومية.

٥- أن تكون للدولة قوانين وتنظيم قضائي يضمن العدل للجميع على السواء

س// ماهي الضمانات التي وضعتها لجنة الانتداب على أي دولة تريد التحرر من الانتداب ؟

١ - حماية الأقليات القومية والدينية ومعاملتهم بشكل عادل.

٢- حفظ المصالح والامتيازات الأجنبية .إلا اذا وضع مجلس العصبة نظاماً آخر بموافقة الدول المختصة.

٣- حفظ المصالح الأجنبية القضائية والمدنية والجنائية التي لا يشملها نظام الامتيازات الأجنبية.

٤- حفظ حرية الفكر والعبادة وممارسة الأعمال الدينية والتربوية والطبية من قبل الإرساليات التبشيرية، على أن لا تخل بالأمن العام والآداب والإدارة.

٥- المحافظة على الالتزامات المالية التي أخذتها الدولة المنتدبة السابقة.

٦- الحفاظ على الحقوق المكتسبة في عهد الانتداب.

٧- المحافظة على العهود الدولية العامة، التي قطعتها الدولة المنتدبة بالنيابة على الدولة المشمولة بالانتداب



وفاة الملك فيصل الاول وتولي الملك غازي عرش العراق

توفي الملك **فيصل الاول** مساء يوم (٧ / ايلول / ١٩٣٣) في سويسرا بمرض **انسداد الشرايين**، وهذا ما أكدته البيان الرسمي

للحكومة الذي أذيع في اليوم التالي. وبعد إعلان وفاة الملك فيصل يوم (٨ ايلول)، قدّم رئيس الوزراء والوزراء والمسؤولين في مجلس الامة (النواب والاعيان) التعازي الى الأمير غازي ، ثم طلبوا اليه بوصفه ولياً للعهد ان يؤدي اليمين الذي نص عليه القانون الأساسي العراقي تمهيداً لمبايعته وبعد أدائه اليمين أعلن رئيس الوزراء تنويجه باسم الملك غازي، وجرى احتفالاً رسمياً بذلك عندما أطلقت المدفعية مئة اطلاقاً

سيرة حياة الملك غازي

ولد الملك غازي في **مكة المكرمة** في (٢١ / اذار / ١٩١٢ م) وعاش في الحجاز في كنف جده الشريف حسين بن علي، وصل الى بغداد في (٥ / تشرين الثاني / ١٩٢٤ م) وبعد صدور القانون الأساسي العراقي أصبح ولياً للعهد

درس الملك غازي في **مدرسة هارو** في بريطانيا ثم دخل الكلية العسكرية العراقية في **بغداد** ، وفيها كان يلقب بـ (الشريف غازي ابن فيصل)، كان مولعاً بالألعاب الرياضية والفروسية، وكان يتميز بشعوره الوطني ومعاداته للإنكليز، الذي اكسبه شعبية بين العراقيين ووجدوا فيه الشخص المناسب الذي يستطيع ان يتحدى الإنكليز ويتصدى لهم.

الملك غازي : وهو الملك الثاني للعراق تولى العرش في (١١ / ايلول / ١٩٣٣) بعد وفاة الملك فيصل الاول اكتسبه شعبية واسعة بين العراقيين لمواقفه الوطنية ، ومعاداته للإنكليز مما اثار غضب بريطانيا فدبرت له حادث سير للقضاء عليه

وفاة الملك غازي

أذيع البيان الحكومي عن وفاة الملك غازي صباح يوم (٧ / نيسان / ١٩٣٩) بسبب اصطدام سيارته التي كان يقودها بعمود الكهرباء على منحدر قنطرة النهر بالقرب من قصر الزهور بالحارثية والذي سبب وفاته. وعليه عقد مجلس الوزراء اجتماعاً استثنائياً، وتسلم وصية الملك المكتوبة التي كانت مودعة لدى زوجته، جاء فيها قرار الملك بولاية العرش الى ابن عمه الأمير (**عبد الاله بن علي**) اذا حدث له أي حادث وابنه لايزال صغيراً، إذ كان عمره اربع سنوات تقريباً آنذاك. ووفقاً للقانون الأساسي العراقي

اعلان فيصل ملكاً على العراق باسم الملك (**فيصل الثاني**) ووضعه تحت **وصاية** خاله الأمير عبد الاله.

علل // اتهم الرأي العام في العراق بريطانيا بتدبير حادث مقتل الملك غازي

الجواب // بسبب موقفه المعادي للبريطانية ، مواقفه الوطنية والعربية المعلنة ، مما اثار غضبها

س // كان لبريطانية دوراً في تدبير حادث وفاة الملك غازي ؟

وذلك بسبب موقفه المعادي للبريطانية مواقفه الوطنية والعربية المعلنة وهذا ما أكدته حديث السفير البريطاني في العراق

(**بيترس**) إذ قال : ((لقد أصبح واضحاً للعيان ان الملك غازي اما ان يسيطر عليه او يخلع))

العراق والحرب العالمية الثانية

س// ماهي أثار الحرب العالمية الثانية على سياسة العراق الداخلية والخارجية ؟

الاثار السلبية على سياسة العراق الداخلية

ساعات الأوضاع التجارية والمالية وأصبحت غير مستقرة، ولاسيما مع احتكار المواد الغذائية وارتفاع الأسعار، وإيقاف الودائع في البنوك وقرار وزارة الداخلية العراقية بفرض الرقابة على المطبوعات والصحف والاعبار.

الاثار السلبية على سياسة العراق الخارجية

وتفسير جميع الرعايا الالمان خارج البلاد، وارسل الوصي عبد الاله رسالة الى ملك بريطانيا يبلغه فيها التزام العراق بمعاهدة التحالف (العراقية – البريطانية) لعام (١٩٣٠) وبما جاء فيها، إلا ان نوري السعيد لم يكتفِ بذلك بل سمح للقوات البريطانية المرور والتشدد فيه , و ارسال قوة من الجيش العراقي للقتال مع القوات البريطانية، وقطع العلاقات السياسية مع الدولة المعادية لبريطانيا،

العقداء الاربعة : وهم من أبرز قادة الجيش العراقي الذين عارضوا سياسة نوري السعيد بزج الجيش العراقي في الحرب العالمية الثانية الى جانب بريطانية وهم صلاح الدين الصباغ ومحمود سلمان وفهمي سعيد وكامل شبيب .

س// ما هو منهاج وزارة رشيد عالي الكيلاني التي شكلها في (٣١ / آذار / ١٩٤٠) ؟

١- الالتزام بما جاء بالمعاهدة العراقية - البريطانية لعام ١٩٣٠ وعدم الموافقة على المطالب البريطانية التي تخرج عن نصوص المعاهدة باستثناء التي تكون في مصلحة الطرفين المشتركة.

٢- إمكانية حصول الجيش العراقي على السلاح من أي مصدر كان.

٣- اجراء انتخابات جديدة للمجلس النيابي

س// ما موقف الحكومة العراقية من طلب بريطانية بقطع علاقتها مع ايطاليا ؟

عقد مجلس الوزراء اجتماعاً لدراسة الطلب ترأسه الوصي، وجاء فيه تأكيد الحكومة العراقية بانها متمسكة ببنود معاهدة عام

١٩٣٠ الا انها تنريث في هذا الوقت بموضوع قطع العلاقات الدبلوماسية مع إيطاليا



١- حكومة الدفاع الوطني

س// ماهي اسباب التي أدت الى تشكيل حكومة الدفاع الوطني ؟

١- طلب بريطانية من الوصي عبد الأله اقالة حكومة رشيد عالي الكيلاني وتم ذلك بعد هروب الوصي الى الديوانية

٢- قرار بريطانية بتشيت العقءاء الاربعة ونقلهم الى اماكن بعيدة بعد تشكيل وزارة طه الهاشمي في (١ / نيسان ١٩٤١)

٣- هروب الوصي الى البصرة ، ما تسبب بفراغ دستوري في البلاد

حكومة الدفاع الوطني : وهي الحكومة التي تشكلت برئاسة رشيد عالي الكيلاني والقادة العسكريين بعد هروب الوصي عبد الأله الى البصرة وسيطرة الجيش على بغداد وإعلان حالة الطوارئ واصدر بيان الى الشعب العراقي اتهم فيه الوصي العراقي بالعمل ضد الشعب واحداث الشقاق في صفوفه وتحطيم الجيش العراقي

رشيد عالي الكيلاني : وهو احد الشخصيات السياسية في العراق توالى رئاسة الحكم اكثر من مرة واهمها تشكيل حكومة الدفاع الوطني بعد هروب الوصي عبد الأله الى البصرة .

س// ما هو البرنامج الحكومي لرئاسة رشيد عالي الكيلاني خلال فترة حكومة الدفاع الوطني ؟

ابعاد العراق عن ويلات الحرب واطارها والعمل على استقلال البلاد، والقيام بأداء رسالتها القومية والحفاظ على تعهداتها الدولية وتقوية الروابط مع البلدان العربية والدول المجاورة

س// بين موقف الشعب العراقي من اعلان تشكيل حكومة الدفاع الوطني ؟

قوبل اعلان تشكيل حكومة الدفاع الوطني بالتأييد والمساندة الشعبية، إذ خرجت الجماهير تهتف ضد الإنكليز واعوانهم في البلاد ،ورفعت شعارات مؤيدة ومساندة لهذه الحكومة

س// ماهي الآراء التي طرحت لمعالجة الازمة الدستورية في العراق بعد هروب الوصي عبد الأله ؟

١- الإلغاء النظام الملكي وإعلان النظام الجمهوري .

٢- الابقاء على الملكية واختيار وصي جديد على العرش ، فوقع الاختيار على الشريف شرف

الشريف شرف : وهو من العائلة الهاشمية المالكة الذي اختير وصي على عرش العراق بعد هروب الوصي عبد الأله

عقد مجلس الامة (النواب والاعيان) جلسة في (١٠ / نيسان / ١٩٤١) وقرر بالإجماع عزل الوصي عبد الاله وتعيين الشريف شرف بدلاً عنه،

وكان اول عمل قام به اصدار الإرادة الملكية بقبول استقالة الهاشمي، وتكليف رشيد عالي الكيلاني بتأليف الوزارة الجديدة

٢- العدوان البريطاني على العراق

عدت بريطانيا الحكومة التي شكلها الكيلاني في (١٢ / نيسان / ١٩٤١) غير شرعية ولم تعترف بها رسمياً، وبدأت بالضغط على العراق لانزال قواتها في البصرة، فوافقت الحكومة العراقية شرط تسريع نقلها الى الرطبة، وعدم إقامة معسكرات دائمة فعدت بريطانيا شروط الحكومة العراقية خروجاً عن معاهدة (١٩٣٠م) وهددت باستعمال القوة ،

و انزلت بريطانيا في (٢٩ / نيسان) لواءً مدرعاً احتل منطقة الميناء في البصرة ومشروع الكهرباء، وقامت بتسفير النساء والأطفال البريطانيين الى الحبانية ومنها الى خارج العراق، وجمع الباقين داخل السفارة البريطانية.

س// ما موقف الحكومة العراقية من الاجراءات البريطانية العدوانية ؟

احتجت الحكومة العراقية على الإجراءات البريطانية ، واتخذت بعض التدابير الاحتياطية لسلامة البلاد بإقامة قوة عسكرية عراقية في الحبانية، وطلب قائد القوة الى السلطات البريطانية عدم تحليق الطائرات البريطانية لأي سبب كان، وعدم خروج المدرعات من المعسكر لحين تسوية الموقف بين الحكومتين.

س// كيف ردت الحكومة البريطانية على احتجاج الحكومة العراقية ؟

جاء رد الحكومة البريطانية في صباح (٢ / أيار) عندما حلقت الطائرات البريطانية في الجو، ثم اسقطت اول قنبلة على القوات العراقية، والقيت منشورات زعمت فيها بانه لا نية لها باحتلال العراق قط او نزع استقلاله،

س// بين قرارات اجتماع مجلس الوزراء بعد العدوان البريطاني على العراق ؟

١- ارسال احتجاج الى السفارة البريطانية على اعتداء القوات الجوية البريطانية في الحبانية على القوات العراقية

٢- طلب قدوم ممثل سياسي الماني الى بغداد بأسرع ما يمكن.

٣- تأسيس علاقات سياسية مع روسيا السوفياتية.

٤- نشر رئيس الوزراء بياناً يتضمن إيضاح الاعتداء البريطاني في الحبانية على القوات ومقاتليها

س// بين موقف الشعب العراقي من العدوان البريطاني على العراق عام ١٩٤١ م ؟

قوبل العدوان البريطاني على العراق بمعارضة شعبية واسعة

١- اصدر علماء الدين الفتاوى لمحاربة الإنكليز

٢- شكلت وحدات من كتائب الشباب من الطلبة والموظفين وغيرهم دربوا على السلاح، واستعد الجميع للمقاتلة



٣- الاحتلال البريطاني الثاني للعراق

بدأت العمليات الحربية البريطانية الثانية على العراق صباح يوم (٢ / أيار / ١٩٤١) عندما قامت القوة الجوية البريطانية بقصف القوات العراقية قرب الحبانية، كما قامت القوات العراقية بالرد عليها، واستمر القتال حول الحبانية أربعة أيام ثم انسحب الجيش العراقي وتمركز في **سين الذبان** مع حرص البريطانيين على حماية الحبانية والمحافظة على انابيب النفط الممتدة الى البحر المتوسط

وبعد وصول الامدادات من البصرة والاردين ، بفضل تفوقها في العدد والعدة حسمت جميع المعارك لصالحها والتقدم نحو بغداد، وبسبب تطورت الاحداث شكلت لجنة باسم (**لجنة الامن الداخلي في العاصمة**) لتأمين الأوضاع الداخلية في بغداد، و اجراء الاتصالات لإيقاف القتال ووضع شروط الهدنة.

لجنة الامن الداخلي في العاصمة : وهي اللجنة التي شكلت لتأمين الأوضاع الداخلية في بغداد و اجراء الاتصالات لإيقاف القتال ووضع شروط الهدنة مع بريطانية

س// ما هي الاعمال التي قام بها الوصي عبد الأله بعد عودته الى العراق بمساعدة بريطانية ؟

١- قام اوصي عبد الأله بتشكيل وزارة موالية لبريطانية، والموافقة على طلب السلطات البريطاني بان لها مطلق الحرية خلال الحرب بان تكون قواتها البرية والجوية في أي مكان في البلاد،

٢- وضع الرقابة على الاتصالات، والسيطرة العسكرية التامة على ميناء البصرة والقاعدة العسكرية فيه

٣- اخلاء أجهزة الدولة من العناصر المعارضة للاحتلال، وقطع العلاقات الدبلوماسية مع إيطاليا.

٤- أحلة القادة العسكريين الى المجلس العرفي العسكري، الذي حكم حضورياً وغيابياً عليهم، وهم العقداء الأربعة (صلاح الدين الصباغ وفهمي سعيد ومحمود سلمان وكامل شبيب)، ومن المدنيين (رشيد عالي الكيلاني ويونس السبعاعي) وقد نُفذ الحكم عليهم جميعاً عدا الكيلاني الذي كان لاجئاً خارج العراق

علل // تم تنفيذ حكم الاعدام بحق العقداء الاربعة ويونس السبعاعي ماعدا رشيد عالي الكيلاني .

الجواب// لان الكيلاني كان لاجئاً خارج العراق



العراق عضواً ومؤسساً في هيئة الأمم المتحدة

بعد انتهاء الحرب العالمية الثانية عقد مؤتمر دولي للتباحث في أوضاع العالم ، وقد وجهت الحكومة الامريكية الدعوة الى الحكومة العراقية لحضور المؤتمر، لأنه وقف الى جانب الحلفاء في تلك الحرب منذ بداية عام ١٩٤٣ م. وقد رحبت الحكومة العراقية بهذه الدعوة،

الفت الحكومة العراقية وفداً رسمياً برئاسة وزير الخارجية **إرشيد العمري** لحضور مؤتمر هيئة الأمم ، الذي تقرر عقده في مدينة **فرانسييسكو** الامريكية ، لإعداد ميثاق منظمة دولية تكون مهمتها صناعة السلم والسلام الدوليين وفض النزاعات بالطرق السلمية.

علل // وجهت الحكومة الامريكية الدعوة الى الحكومة العراقية لحضور مؤتمر هيئة الأمم

الجواب // لأنه العراق وقف الى جانب الحلفاء في تلك الحرب منذ بداية عام ١٩٤٣ م

هيئة الأمم المتحدة : وهي منظمة دولية تأسست في الولايات المتحدة الامريكية بعد الحرب العالمية الثانية عام ١٩٤٥ م والتي حلت بدلاً عن عصبة الأمم في جنيف وكان هدفها تحقيق السلم والسلام الدولي وحل النزاعات بالطرق السلمية

إرشيد العمري : وهو وزير الخارجية العراقي الذي ترأس الوفد الرسمي للعراق في عقد المؤتمر التأسيسي لهيئة الأمم المتحدة الذي عقد في مدينة فرانسييسكو الامريكية

فرانسييسكو : وهي المدين الامريكي التي عقد فيها المؤتمر الاول لهيئة الأمم المتحدة لإعداد ميثاق منظمة دولية تكون مهمتها صناعة السلم والسلام الدوليين وفض النزاعات بالطرق السلمية.

هاري ترومان : وهو الرئيس الامريكي الذي افتتح المؤتمر التأسيسي لهيئة الامم المتحدة عام ١٩٤٥ في الولايات المتحدة الامريكية وبمشاركة تسعة واربعين دولة

افتتح الرئيس الأمريكي **هاري ترومان** المؤتمر الدولي لهيئة الامم المتحدة مع ممثلي تسعة واربعين دولة أخرى

س // العراق عضواً ومؤسساً في هيئة الأمم المتحدة ؟ ناقش ذلك

كان للعراق دور رئيس في وضع بنود الميثاق، الذي ضم (١١١ / مادة) اكدت على مقاصد الأمم المتحدة في ضرورة حفظ السلام والامن الدوليين، وتأكيد إقامة العلاقات الودية بين الأمم، و تحقيق التعاون الدولي، وحل جميع النزاعات والخلافات الدولية بالطرق السلمية وعدم اللجوء الى القوة.

س // متى صادق مجلس النواب العراقي على ميثاق الأمم المتحدة وماهي البنود التي تمسك بها العراق ؟

صادق مجلس النواب العراقي بالأكثرية على ميثاق الأمم المتحدة في (٢٤ / تشرين الاول / ١٩٤٥) كما اعلن عن تمسكه ببنوده ولاسيما المادتين الأولى والثانية اللتين تؤكدان على العمل لصيانة السيادة الوطنية للدول والمساواة بينها، وتأكيد حقها في تقرير المصير، و العمل على تطبيق تلك المبادئ بما يخص الشعب العربي الفلسطيني وتونس والجزائر وغيرها، وعُد ذلك شرطاً لازماً والدليل على صدق نية الأمم الموقعة على الميثاق

حل أسئلة الفصل الثاني

س١/ عرف ما يأتي

معركة الشعبية : وهي المعركة التي حدثت بين القوات البريطانية والقوات العثمانية والمتطوعين العراقيين في (١٢ / نيسان / ١٩١٥) والتي تمكن فيها البريطانيون من حسم المعركة لصالحهم في (١٤ / نيسان) وانسحاب العثمانيين والمتطوعين الى مدينة الناصرية

محمد سعيد الحبوبي : وهو من اشد المعارضين للاحتلال البريطاني للعراق والذي قادة الثوار العراقيين لصد القوات البريطانية في معركة الشعبية التي توفي بسبب جراحه في تلك المعركة بعد الانسحاب الى مدينة الناصرية عام ١٩١٥

الجنرال مود : وهو الجنرال والقائد العام للقوات البريطانية في العراق التي عينته بريطانية لاحتلال مدينة بغداد بعد حصار الكوت واستسلام القوات البريطانية والذي تمكن من احتلال بغداد بعد معركة في منطقة تل اسود في ١٠ / اذار / ١٩١٦ م

الجنرال دركولتز : وهو الجنرال الألماني الذي استلم قيادة القوات العثمانية في (١٢ / كانون الاول / ١٩١٥) بعد حصار مدينة الكوت والذي اصدر امره بعدم مهاجمة القوات البريطانية المحصنة في مدينة الكوت لحين نفاذ المؤن مما اجبر القوات البريطانية وقائدها طاوزند للاستسلام ونجاح خطة فون دركولتز .

هدنة مودروس : وهي الهدنة التي أعلنت بين دول الوفاق الودي ودول الوسط في الحرب العالمية الاولى يوم (٣١ / تشرين الثاني / ١٩١٨ م) لإيقاف كافة العمليات العسكرية

الانتداب : وهو نوع من انواع الاستعمار يشبه الاحتلال في اهدافه ومضامينه اقترحه الجنرال البريطاني سمطس لوضع الشعوب التي انفصلت عن الدولة العثمانية تحت اشراف دولة كبرى .

مؤتمر سان ريمو : وهو المؤتمر الذي عقده الحلفاء في مدينة سان ريمو الايطالية في (٢٤ / نيسان / ١٩٢٠) والذي اتفق فيه الحلفاء على توزيع الانتدابات بينهم دون أخذ رأي الشعوب وموقفهم .

معركة الرارنجية : وهي المعركة التي حدثت بين الثوار العراقيين وقوات الاحتلال البريطاني في ثورة العشرين عند منطقة الرستمية بين الحلة والكفل استطاع من خلالها الثوار تكبيد القوات البريطانية خسائر كبيرة بالأرواح والمعدات

مؤتمر القاهرة : وهو المؤتمر الذي عقد في (١٢ / اذار / ١٩٢١) وحضره وفد من العراق برئاسة برسي كوكس المندوب السامي البريطاني، تقرر فيه ترشيح الامير فيصل بن الحسين لعرش العراق

الملك غازي : وهو الملك الثاني للعراق تولى العرش في (١١ / ايلول / ١٩٣٣) بعد وفاة الملك فيصل الاول اكتسبه شعبية واسعة بين العراقيين لمواقفة الوطنية ، ومعادته للإنكليز مما اثار غضب بريطانية فدبرت له حادث سير للقضاء عليه

عبد الآله : وهو ابن عم الملك غازي الذي عين وصي على الملك فيصل الثاني بعد وفاة الملك غازي عام ١٩٣٩

فيصل الثاني : وهو فيصل بن الملك غازي الذي اعلان فيه ملكاً على العراق باسم الملك (**فيصل الثاني**) ووضعه تحت وصاية خاله الأمير عبد الآله

جمعية حرس الاستقلال : وهي جمعية سرية، تأسست في اواخر شهر شباط عام ١٩١٩ م، من ابرز رجالاتها علي آل بزركان، ناجي شوكت وعبد المهدي المنتفكي وآخرين، طالبت بالاستقلال التام للبلاد، وإقامة حكم ملكي دستوري

٣/ تشرين الاول / ١٩٣٢ : وهو تاريخ قبول العراق عضواً في عصبة الأمم والاعتراف به دولة مستقلة فاصبح عيداً وطنياً ورفع العلم العراقي في مقر عصبة الامم في جنيف (سويسرا) وعين نوري السعيد ممثلاً عن العراق وأول مندوب عربي لعصبة الامم .

رشيد عالي الكيلاني : وهو احد الشخصيات السياسية في العراق توالى رئاسة الحكم اكثر من مرة واهمها تشكيل حكومة الدفاع الوطني بعد هروب الوصي عبد الأله الى البصرة

حكومة الدفاع الوطني : وهي الحكومة التي تشكلت برئاسة رشيد عالي الكيلاني والقادة العسكريين بعد هروب الوصي عبد الأله الى البصرة وسيطرة الجيش على بغداد وإعلان حالة الطوارئ واصدر بيان الى الشعب العراقي اتهم فيه الوصي العراقي بالعمل ضد الشعب واحداث القاق في صفوفه وتحطيم الجيش العراقي

العقداء الاربعة : وهم من أبرز قادة الجيش العراقي الذين عارضوا سياسة نوري السعيد بزج الجيش العراقي في الحرب العالمية الثانية الى جانب بريطانيا وهم صلاح الدين الصباغ ومحمود سلمان وفهمي سعيد وكامل شبيب

س٢ / عدد بنقاط :

س٣ / ناقش العبارات التالية

كل الاجوبة موجودة داخل الملزمة فلا حاجة لتكرارها



الوحدة الثالثة

التربية الوطنية





الفصل الاول

الوطنية

٣

القيم الوطنية والاجتماعية

القيم : تُعرف القيم على أنها مجموعة من المعايير والمبادئ والتعاليم والضوابط الأخلاقية التي توجّه سلوك الفرد وترسم له الطريق السليم الذي يُجنّبه الوقوع في الخطأ أو القيام بفعل يتنافى مع مبادئه وقيمه وأخلاقه

س// ماهي الاهداف التي تحققها القيم ؟

- ١- تقوية الروابط الاجتماعية
- ٢- ترسيخ مبدأ العدالة الاجتماعية وتحقيق الاستقرار
- ٣- تعزيز المساواة،
- ٤- وإشاعة السلم بين أبناء المجتمع، بغض النظر عن الجنس والدين والقومية واللغة او العرق

اولاً : القيم الوطنية

هي مجموعة من المبادئ والضوابط التي تُحدّد سلوك المواطن في المجتمع الذي ينتمي إليه، وتتمثل في المواطنة الصالحة وحب الوطن والإخلاص والانتماء والولاء له

١- المواطنة

المواطنة : وهي كلمة مشتقة من مصطلح الوطن و تعبر عن المكان الذي يعيش فيه الإنسان، وتتحدد بموجبها الحقوق والواجبات التي تتضمن انتماء المواطن لوطنه

س// من هم الافراد الذي يتميزون بصفة المواطنة ؟

الأفراد الذين يعيشون على أرض دولة ما، وبموجبها يحصلون على العديد من الامتيازات التي تضمن لهم العيش في حياة كريمة ومنها الحق في التعليم، والحق في العمل، والحق في المشاركة في الحياة السياسية



٢- الانتماء

الانتماء : هي تلك الحالة التي يشعر فيها الشخص بانضمامه إلى مجموعة معينة، بحيث تربطه بهذه المجموعة علاقة تنعكس إيجاباً على سلوكه

الانتماء للوطن : فيتضح أيضاً من خلال انضمام الفرد إلى وطنه وما يعكسه هذا الانضمام من علاقة إيجابية بوطنه ويترجم هذا الانتماء من خلال السلوكيات التي يطبقها الإنسان في مجتمعه، والانتماء للوطن أمر في غاية الأهمية فهو يقوي علاقة الأفراد والمجتمع والوطن مع بعضهم بعض وهذه العلاقة تجعل العدو يتخوف من الاقتراب أو المساس بأمن هذا الوطن

علل // الانتماء للوطن أمر في غاية الأهمية .

الجواب // لأنه يقوي علاقة الأفراد والمجتمع والوطن مع بعضهم بعض وهذه العلاقة تجعل العدو يتخوف من الاقتراب أو المساس بأمن هذا الوطن

س// هنالك العديد من الطرق التي تجسد الانتماء إلى الوطن، عددها معززاً إجابتك بالأمثلة ؟

أ - الامتثال إلى الأحكام والقواعد العامة وقواعد العمل والقواعد السلوكية والحفاظ على الممتلكات العامة وعلى نظافة المرافق والأماكن العامة والشوارع الموجودة على أرض الوطن،

ب - اعتماد أسلوب الحوار الواعي عند وقوع الخلافات والنزاعات سواء أكان ذلك بين الأفراد أو الجماعات المختلفة والابتعاد عن السلوكيات السلبية التي تتمثل باستعمال العنف وسيلة لحل المشكلات

ج - إن الانتماء للوطن يزيد من قوة الترابط بين الأشخاص وذلك لحبهم لوطنهم، وهذا يعود على الوطن بالنجاح والنهضة والتقدم لبناء المجتمع

٣- المشاركة السياسية

وهي الحق الديمقراطي والدستوري لأفراد المجتمع البالغين كافة في المشاركة في صنع القرار السياسي سواء بطريقة مباشرة من خلال الترشح للانتخابات أو الانضمام لمؤسسة من مؤسسات المجتمع المدني، أو تولى أي من المناصب التنفيذية والتشريعية

٤ - العمل التطوعي

وهو أن يخصص الإنسان جزءاً من **وقته الخاص** للقيام بعمل عام برغبة ذاتية ومن دون مقابل من أجل أهداف **إنسانية** أو **اجتماعية** منها إشاعة التعاون بين الآخرين وتقوية أواصر المحبة والألفة بين أفراد المجتمع،

س// ماهي المجالات التي يتناولها العمل التطوعي ؟

١- المجال الاجتماعي : والذي يختص بالقيام بالأعمال الإنسانية (الخيرية)

٢- المجال التربوي : إلقاء الدروس الخاصة بحملات محو الأمية أو الدروس التطويرية أو التوعوية،

٣- المجال البيئي : عبر القيام بحملات لتنظيف الأحياء أو الشوارع أو الحدائق العامة

ثانياً : القيم الاجتماعية

القيم الاجتماعية : هي مجموعة من المبادئ الفطرية (المكتسبة) التي تحدّد تعامل الفرد مع غيره والقائمة على مبادئ الأخلاق الحميدة والاحترام والإنسانية والتسامح والصدق والتكافل الاجتماعي بغض النظر عن الدين والمذهب والعرق والجنس واللون

العلاقات الاجتماعية

س// ما المقصود بالعلاقات الاجتماعية ، وماهي اقسامها ؟

العلاقات الاجتماعية : وهي احدى صور القيم الاجتماعية ويقصد بها الروابط الاجتماعية القائمة بين الأفراد أو عامة المجتمع وتنقسم تلك العلاقات على نوعين هي :

- ١- **العلاقات الاجتماعية الرسمية :** مثل علاقة التلميذ بإدارة المدرسة أو علاقة الموظف بدائرته التي يعمل بها
- ٢- **العلاقات الاجتماعية غير الرسمية :** مثل علاقة الانسان بأفراد عائلته او بجيرانها و أقاربه، ويمكن أن تكون العلاقات الاجتماعية ايجابية يسودها الود والمحبة أو تكون العلاقات الاجتماعية سلبية يسودها الكره والحسد

انواع العلاقات الاجتماعية :

١- العلاقات الاسرية

وهي نوع من الروابط الاجتماعية القائمة بين مجموعة من الافراد الذين تربطهم صلات عائلية وغالباً ما تشمل هذه الروابط الوالدين وأبناءهما ضمن نطاق الأسرة .

س// بماذا تتصف العلاقات الاسرية ؟

وتتصف العلاقات الأسرية بالود والمحبة والتعاطف والتماسك والتآزر والتعاون والتضحية

علل // لا تخلو العلاقات الاسرية من الخلافات والمشكلات بين أفرادها، لكن يمكن حلها عن طريق التفاهم والتعاون،

الجواب // لان استمرار الخلافات يؤدي إلى تفكك الأسرة، وهذا التفكك سوف يضر بأمن الفرد والمجتمع

٢- العلاقة مع الجيران

س// كيف تدوم العلاقة مع الجيران ؟

عن طريق المحبة والتسامح، والابتعاد عن الخلافات والتغاضي عن العيوب، والعمل على كسب احترام الجميع فضلاً عن كسب ثقتهم ومحبتهم

علل// علاقة الجيرة في مجتمعنا العراقي صادقة

الجواب // ، لأنها قائمة على المحبة والتآزر والتعاون، وبعيدة من التعصب للدين او المذهب او العشيرة او القومية

٣- العلاقات بين الاصدقاء

هي روابط اجتماعية تربط الفرد بغيره الذين يتقاربون معه في السن أو المستوى الدراسي أو الاهتمامات الحياتية المختلفة وتستند هذه العلاقة الى مجموعة من الأسس

منها الهوايات المشتركة وتشابه السلوك الاجتماعي والألفة والتعاطف و كيفية قضاء وقت الفراغ.

علل // يحرص الأهل دائماً على متابعة أصدقاء أبنائهم وتوجيه الأبناء لاختيار الأصدقاء الجيدين والصالحين

الجواب // من اجل حماية ابنائهم من الاخطاء والمشكلات التي قد يسببها بعض الأصدقاء السيئين

٤- العلاقات بين أفراد المجتمع

هي الصلات والروابط القائمة بين مجموعة من الافراد الذين يعيشون في مجتمع واحد ، وهذه الصلات والروابط تنظمها القوانين والعادات الموجودة في المجتمع،

ولان الأنسان كائن اجتماعي فهو يحتاج دائماً الى مجتمعه والى الأفراد الذين يعيشون معه، ولا يوجد مجتمع يخلو من الروابط والعلاقات الاجتماعية بين الأفراد والجماعات، ولكن يجب ان تكون هذه العلاقات قائمة على المحبة والاحترام من اجل الحفاظ على امن المجتمع واستقراره

أسس العلاقات الاجتماعية

هنالك مجموعة من الاسس التي يجب أن تتركز عليها العلاقات الاجتماعية وهي :

١- الاحترام المتبادل

علل// الاحترام هو أحد الأركان الأساسية لبناء العلاقات الاجتماعية السليمة وديمومتها بين أفراد المجتمع

الجواب // لأنه يعبر عن التقدير والمحبة بين طرفين أو اكثر

س// بين أهم الامثلة على الاحترام المتبادل ؟

١- الاحترام المتبادل للمعتقدات الدينية.

٢- الاحترام المتبادل للمناسبات القومية والمحلية.

٣- الاحترام المتبادل لحقوق الآخرين



٢- الثقة المتبادلة

هي شعور متبادل يعبر عن الايمان بصدق الآخرين وأمانتهم وإخلاصهم ، واهم أسس الثقة المتبادلة بين الناس هو الاحترام وحب الخير والابتعاد من سوء الظن بالآخرين

علل // تسعى كثير من المجتمعات البشرية الى زرع الثقة المتبادلة بين افراد مجتمعاتها

الجواب // من اجل تحقيق الامن والاستقرار وتقدم المجتمع ورفاهية افراده

٣- التفاهم واعتماد مبدأ الحوار

لا يوجد مجتمع يخلو من الخلافات والمشكلات بين أفرادها، اذ تعترض حياتنا وعلاقاتنا الاجتماعية بعض الصعوبات والمشكلات في بعض جوانب الحياة ومجالاتها

س// عدد فوائد الحوار والتفاهم بين الناس ؟

- ١- تقوية العلاقات الاجتماعية بين الناس.
- ٢- الصبر.
- ٣- الاحترام.
- ٤- حسن الإصغاء.
- ٥- حل الخلافات والمشكلات.
- ٦- الابتعاد عن الغضب.
- ٧- عدم التجاوز على الآخرين وغيرها

٤- التواصل الاجتماعي

ان الانسان دوماً بحاجة الى أخيه الإنسان في جميع مجالات الحياة المختلفة، ولاسيما أوقات الأفراح و الأحزان، ولا يمكن للإنسان الاستغناء عن مساعدة الآخرين، ولهذا يمثل التواصل مع الناس احد اهم أسس العلاقات الاجتماعية، لكن يجب أن يكون هذا التواصل صادقاً في ظاهره وباطنه، ومن الأمثلة على التواصل هو زيارة المرضى، ومساعدة المحتاجين، وإعانة الفقراء، وزيارة الأقارب

س// ماهي فائدة التواصل الاجتماعي ؟

- ١- التواصل الاجتماعي تقوية العلاقات الاجتماعية بين الناس
- ٢- شعور الأفراد بالأمن في المجتمع الذي يعيشون فيه
- ٣- زيادة التعاون بين الأفراد
- ٤- استمرار الألفة والمحبة بين افراد المجتمع



الفصل الثاني

قضايا اجتماعية عامة

أولاً: طلب العلم والمعرفة

يعد العلم **ضروريّة** لا يمكن الاستغناء عنه في أي مجتمع، وله أهمية كبيرة في مختلف جوانب حياة الإنسان

س// ماهي فوائد العلم ؟

يستطيع الإنسان عن طريقه التغلب على الكثير من المصاعب التي قد تعترض حياته فبفضل العلم اخترع الإنسان الكهرباء والسيارات والقطارات وغيرها .

علل// سعت جميع الأمم والمجتمعات إلى الاهتمام بالعلم

الجواب// لأنه أساس بناء كل مجتمع، كما انه وسيلة مهمة لرفاهية الإنسان في أي مجتمع

علل// يجب علينا الاهتمام بطلب العلم

الجواب// لأنه طريقنا إلى النجاح في الحياة، و معرفة حقوقنا وواجباتنا و حقوق الآخرين وواجباتهم

ثانياً : المواطن بين الحقوق والواجبات

ان الفرد هو اللبنة الأساسية في المجتمع، لذا يجب ان تكون العلاقة بين الفرد والمجتمع الذي يعيش فيه علاقة متبادلة ومتفاعلة في الوقت نفسه، وهذا يعني أن يتمتع بالحقوق التي له، ويؤدي الواجبات التي عليه،

علل// بقدر التزام الفرد بواجباته يضمن حصوله على حقوقه

الجواب// لأن الحقوق ترفع من قدر الفرد وحريته، و تعبر الواجبات عن احترام الفرد لحرية الآخرين

١- حقوق الانسان

حقوق الانسان : هي مجموعة من المبادئ الاخلاقية أو المعايير الاجتماعية التي تصف السلوك البشري والذي يترجم بمجموعة من الحقوق الأساسية التي لا يجوز المس بها



أنواع حقوق الانسان

١- حقوق الانسان من حيث الاهمية وهي تشمل :

س// بين حقوق الانسان الاساسية وغير الاساسية ؟

حقوق أساسية : وهي حقوق ضرورية لاستمرار حياة الإنسان يحصل عليها بصفته إنساناً، وتتميز بأنها من الحقوق التي لا يمكن مسّها وتجاوزها أو مخالفتها
ومن الأمثلة على الحقوق الأساسية : حق الحرية والحياة والمساواة، وحرية التعبير والرأي.

حقوق غير أساسية : وهي الحقوق المرتبطة برفاهة الإنسان وسعادته، التي تؤمن للإنسان عيشاً أفضل وتضمن له قدر كافٍ من الكرامة، **ومن الأمثلة عليها :** (حرية التملك، وحرية إنشاء الجمعيات والانتماء السياسي).

٢- حقوق الانسان من حيث المستفيدين ومنها :

حقوق فردية : هي الحقوق التي يتمتع بها الفرد، وتسعى الدولة جاهدة لتوفيرها، وعدم التعدي عليها، كما تتميز بأنها حقوق تخص الفرد بذاته، **ومن الأمثلة على هذه الحقوق :** حق الحياة وعدم التعرض للتعذيب، وحق الفكر، وحق التعليم، وحق العمل، وحق الانتماء.

حقوق جماعية : هي الحقوق التي تخص المجتمع أو لمجموعة من الأفراد وتضمن لهم الحق في التصرف والعمل بها، أي أنها لا تخص فرداً بحد ذاته ، **ومن أمثلة تلك الحقوق** الخدمات العامة

٣- حقوق الانسان من حيث موضوعها :

أ-الحقوق المدنية والسياسية : وهي حقوق مرتبطة بالحرية وتشمل :حق الدين والعقيدة، الحق في الحياة، الحق في الامان وحرية الفكرية وعدم التعرض للتعذيب والمشاركة السياسية، حرية الرأي والتعبير والتفكير وحرية الاشتراك في منظمات المجتمع المدني وحق العيش بكرامة، حق التنقل والسفر والعدل والمساواة وحق في التعليم و الدفاع عن النفس.

ب -الحقوق الاقتصادية والاجتماعية : وهي حقوق مرتبطة بالأمن وتشمل :الحق في العمل واختيار نوع العمل والحق في العيش في حياة كريمة والحق في المسكن واختيار مكان السكن والحق في الحصول على الرعاية الصحية والاجتماعية وحق الملكية والحق في الزواج وتكوين اسرة.

ج -الحقوق البيئية والتنمية : وهي حقوق مرتبطة بالبيئة المحيطة بالفرد وتشمل :الحق في العيش في بيئة نظيفة والحق في التنمية الثقافية والسياسية والاقتصادية والحق في العيش في بيئة خالية من الفساد

٢- الواجبات

الواجبات : هي كل ما يتعين على الإنسان فعله، سواء في شؤونه الخاصة أو تجاه وطنه، وتشمل مجالات الحياة كافة

س// تقسم واجبات الإنسان على حسب طبيعة العلاقة ؟ وضح ذلك

١- **علاقة الإنسان مع الآخر :** لكي تنتظم تلك العلاقة هنالك قيم ومبادئ يجب ان تقوم عليها تلك العلاقة ، كواجب احترام الجار، واحترام الرأي الآخر واحترام كرامة الإنسان، وأداء الحقوق لأصحابها، كالدين، والميراث، والوصية، وغيرها

٢- **علاقة الإنسان في محيط عمله :** وتترتب عليها العديد من الواجبات كعلاقة الطالب بمدرسته، والمعلم في مدرسته، والعامل في معمله إذ عليه واجبات تتمثل بإتقان عمله

٣- **علاقته بوصفه مواطناً وجزءاً من افراد المجتمع تجاه وطنه :** وتتمثل في علاقته بأرضه ووطنه، واجب الحفاظ عليه، والدفاع عنه والالتزام بالأنظمة والقوانين واحترامها، والمحافظة على الممتلكات العامة وغيرها من الواجبات

ثالثاً : البيئة والتلوث البيئي

علل // يعد تلوث البيئة من أبرز التحديات التي تواجهها المجتمعات

الجواب // نتيجة للتطور الصناعي الهائل وما يرافقه من إطلاق ملوثات متنوعة

البيئة : هي المكان الذي تعيش فيه الكائنات الحية، فضلاً عن العناصر والمكونات غير الحية كالماء والهواء والتربة وغيرها من المعادن وما يرافقه من تأثير بين تلك المكونات لضمان استمرار الحياة

س// عدد أهم سبل المحافظة على البيئة ؟

- ١- استعمال مصادر الطاقة النظيفة والمتجددة كالطاقة الكهربائية وطاقة الرياح والطاقة الشمسية بديلاً للطاقة الملوثة
 - ٢- سن القوانين والأنظمة التي تحد من تفاقم ظاهرة التلوث.
 - ٣- تشجيع الأفراد على الرياضة، ولاسيما المشي أو ركوب الدرجات والتقليل من استعمال وسائل النقل لاسيما السيارات.
 - ٤- نشر الوعي بين المواطنين عن طريق وسائل الإعلام للتوعية بأخطار التلوث البيئي.
 - ٥- إبعاد المؤسسات التعليمية أو المستشفيات من مصادر التلوث الضوضائي، ولاسيما الشوارع العامة
 - ٦- معالجة مياه الصرف الصناعية أو الصرف الصحي قبل طرحها إلى المصادر المائية.
 - ٧- المحافظة على الغطاء النباتي والحد من انجراف التربة عن طريق زراعة العديد من المساحات الخضراء والأشجار
 - ٨- إلزام المصانع بوضع مرشحات للغازات والملوثات التي تطرحها إلى البيئة
- التلوث الضوضائي :** ويطلق عليه أحياناً بالتلوث الضجيجي، ويعرف بأنه التعرض بصورة مستمرة الى مجموعة من الاصوات العالية غير المرغوب بها

رابعاً : التنمية المستدامة

يضم وطننا العراق الكثير من الموارد الطبيعية والثروات الاقتصادية وهي حق مشروع للجميع وان الاستفادة من هذه الموارد هو من حق الجميع وليس مقتصراً على فئة او جهة معينة لذا ينبغي المحافظة عليها والانتفاع بها

س// كيف نحافظ على الموارد الطبيعية ؟

- ١- ترشيد استعمال الموارد الطبيعية والبشرية (الماء – التربة – الثروات الاقتصادية) والعمل على صيانتها ومنع التلوث
- ٢- المحافظة على ديمومة هذه الموارد من خلال ترشيد استهلاكها وعدم الأضرار بها.
- ٣- استعمال تقنية التدوير، ولاسيما الموارد القابلة للتدوير وإعادة استعمالها على النحو سليم وآمن

خامساً : المحافظة على النظافة الشخصية العامة

النظافة عامل أساسي لكل فرد، ولا يمكن للإنسان أن يعيش حياة سليمة من دون النظافة، لأنها مصدر صحته وسلامته، كما أنها دليل تقدم المجتمعات وتطورها ولهذا أكدت جميع الأديان والحضارات البشرية أهمية النظافة

علل // لا يمكن للإنسان أن يعيش حياة سليمة من دون النظافة

الجواب // لأنها مصدر صحته وسلامته

١- النظافة الشخصية

النظافة الشخصية : وهي الاهتمام بنظافة الجسم والطعام والشراب والملابس والكتب، فضلاً عن الاهتمام بالمظهر العام وكل ما يتعلق بالجوانب والاحتياجات الشخصية للإنسان

س // ماهي القواعد التي ينبغي الالتزام بها للمحافظة على النظافة الشخصية لتجنب العدوى والأمراض ؟

- ١- غسل اليدين بالماء والصابون بصورة متكررة مدة ٢٠ (ثانية) في الأقل،
- ٢- المحافظة على نظافة المرافق الصحية.
- ٣- تجنب لمس العينين أو الفم أو أي جزء من الوجه إذ كانت اليد غير نظيفة.
- ٤- استعمال المناديل الورقية عند العطاس.
- ٥- استعمال المطهر عند الخروج من الحمامات، والغرف الصفية، والممرات، وقرب المخارج
- ٦- تنظيف مباني المدرسة، والغرف الصفية وتطهيرها، ولاسيما مرافق المياه والصرف الصحي
- ٧- ضمان التخلص من النفايات يومياً وطرحها في مكان آمن

٢- النظافة العامة

النظافة العامة : وتعني المحافظة على نظافة البيئة التي يعيش فيها الإنسان، وتشمل المحافظة على نظافة المنزل والمدرسة والأماكن العامة

س // المحافظة على نظافة المدرسة لها فوائد عدة أهمها:

- ١-تزيد التعاون والمحبة بين الطلبة.
- ٢-تحافظ على الصحة العامة للطلبة.
- ٣-توفر بيئة سليمة للنجاح والتفوق الدراسي.

سادساً : التوعية المرورية

ويقصد بها ان يكون جميع مستعملي الطرق من :

سائقين. ومشاة و راكبي الدراجات على علم تام بقواعد المرور من اجل سلامة الراكب والمشاة

السلامة المرورية : وهي اتباع الإجراءات الوقائية كافة للحد من وقوع الحوادث المرورية من خلال :

- أ - الفحص الدوري الشامل للمركبات (عمليات الصيانة).
- ب - اتباع الإرشادات والعلامات الخاصة بقواعد السير الصادرة من قبل رجال المرور.
- ج - الحصول على رخص منح القيادة الخاصة بالمركبات او الدراجات



سابعاً : تأثير التكنولوجيا والإنترنت في المجتمع

يشهد العصر الحالي تطوراً سريعاً في **الثورة المعلوماتية**، فأصبح الجميع يعيشون ضمن عصر الانفتاح على العالم دون قيود جعلت من العالم قرية صغيرة

علل// لا يخلو الإنترنت وبرامجه من سلبيات عدة

الجواب // لان شبكة الإنترنت عالم مفتوح وواسع لا تحكمه أي قيود ولا شروط

س// على الرغم من ان الإنترنت له اهمية بما يعرضه من برامج او دروس تسهم في رفع مستوى ثقافة الفرد الا انه يعد سلاحاً ذا حدين، فلا يخلو الإنترنت وبرامجه من سلبيات عدة)) ؟ عدد أهم سلبياته

سلبيات الإنترنت وبرامجه

- ١- **ضياع الوقت** : استعمال الإنترنت من أكثر مسببات ضياع الوقت وخاصة بين الشباب، إذ يمضون العديد من الساعات على شبكة الإنترنت من دون القيام بأي شيء مفيد، فيقضون أوقاتهم بالدرشة وتصفح مواقع الإنترنت غير المفيدة والالعاب
- ٢- **الاختراق والتجسس** : . سهل استعمال شبكة الإنترنت التسلل واختراق خصوصيات الآخرين والتجسس عليهم لمعرفة أسرارهم وتحركاتهم، ومن الممكن ان يتعرض أي شخص لهذا الأمر، لهذا يجب اتخاذ الحيطة والحذر
- ٣- **مشاكل صحية** : ان الجلوس لساعات طويلة في تصفح شبكة المعلومات الدولية يؤدي الى الإصابة بمشكلات صحية، لاسيما الامراض الخاصة بالعيون والعمود الفقري، وأوجاع المفاصل والأعصاب، و زيادة الوزن والإصابة بأمراض السمنة
- ٤- **الترويج للأفكار السيئة** : تستعمله الكثير من الجهات أو الجماعات من خلال ما تعرضه من برامج او أفكار للتأثير على ثقافة الأفراد طريقة للترويج لتلك الافكار التي يكون الهدف منها تضليل الشباب
- ٥- **تزوير الحقائق** : بما أن الإنترنت وبرامج وسائل التواصل الاجتماعي غير خاضعة للرقابة الدولية يستعمل البعض من الأشخاص أسماء مستعارة ووهميّة بهدف تشويه سمعة بعض الناس والتشهير بهم او ابتزازهم من خلال سرقة معلوماتهم الخاصة بغية التشويه أو الابتزاز



ثامناً : المحافظة على الممتلكات العامة

نعني بالممتلكات العامة جميع الممتلكات العائدة الى الدولة والمجتمع

الممتلكات العامة : جميع الممتلكات العائدة الى الدولة والمجتمع، وهي ليست ملكاً لأحد وإنما ملكاً لجميع المواطنين الذين يعيشون على ارض الوطن

علل// أكدت جميع الأديان حرمة الاعتداء على الممتلكات العامة او تخريبها

الجواب // لان هذه الممتلكات وجدت لخدمة جميع الناس

س// أذكر بعض الممتلكات العامة ؟

جميع ابنية المؤسسات والدوائر الحكومية وأثاثها وأجهزتها من الممتلكات العامة مثل : المستشفيات العامة، المدارس والمعاهد والجامعات، الشوارع والطرق والجسور، الحدائق والمتنزهات العامة، وغيرها

س// ان المحافظة على الممتلكات العامة صفة من صفات المجتمعات المتقدمة ؟ وضح ذلك

ان المحافظة على الممتلكات العامة هي دليل على وعي المواطن ودليل على أمانته وحرصه وإخلاصه للوطن، ولهذا تقوم جميع الدول بتوجيه مواطنيها بضرورة المحافظة على الممتلكات

أمنياتي لكم بالتوفيق والنجاح

الاستاذ: أنور فاضل عبد

